

新课标 新教材

# 初中地理

# 同步探究

8 年级上册



凤凰出版传媒集团  
江苏科学技术出版社

# 新课标 新教材

# 初中地理同步探究

## (8年级上册)

主 编 荣 苓  
编 者 陈 玲 李文滢 倪 钧 张丽娟  
任 颖 陆今年 荣 苓

凤凰出版传媒集团  
江苏科学技术出版社

## 初中地理同步探究(8 年级上册)

---

**主 编** 荣 苓  
**责任编辑** 马桂琴  
**责任校对** 郝慧华  
**责任监制** 张瑞云

---

**出版发行** 江苏科学技术出版社(南京市湖南路 47 号, 邮编: 210009)  
**网 址** <http://www.pspress.cn>  
**集团地址** 凤凰出版传媒集团(南京市中央路 165 号, 邮编: 210009)  
**集团网址** 凤凰出版传媒网 <http://www.ppm.cn>  
**经 销** 江苏省新华发行集团有限公司  
**照 排** 南京奥能制版有限公司  
**印 刷** 南京紫藤制版印务中心

---

**开 本** 718 mm×1 000 mm 1/16  
**印 张** 7.5  
**字 数** 130 000  
**版 次** 2008 年 8 月第 1 版  
**印 次** 2008 年 8 月第 1 次印刷

---

**标准书号** ISBN 978-7-5345-6165-8  
**定 价** 9.30 元

---

图书如有印装质量问题, 可随时向我社出版科调换。

# 编者的话

2001年,教育部颁布了义务教育阶段各门学科的课程标准,这次课程改革比以往任何一次课程改革都要更加深入、更加广泛,它对于我国教育的发展,乃至整个中国社会的发展,都将产生深远的影响。

新课程标准一个重要的理念就是,在使学生全面发展为本的前提下,通过减轻学生过重的课业压力,还给学生一个宽松的、有更多选择的发展空间,有效地培养学生的创新意识和实践能力。目前,根据新课程标准编写的教材已经逐步推广使用,为了帮助学生更好地掌握新教材的学习内容和探究性学习方式,在增长知识的同时提高能力,特别是创新能力,我们组织编写了这套“新课标·新教材同步探究丛书”。

丛书力求体现课程改革的要求,重视学生对基础知识的把握,注意对学生能力,特别是探究性学习能力的培养。每册与教材大致对应,分为若干单元,与现行教材同步使用。

新课程标准是与时代要求相适应的新事物,我们对于课程标准的把握和对新教材理念的理解也许有偏颇,因此这套“新课标·新教材同步探究丛书”也可能存在许多不足之处,恳请读者朋友提出宝贵意见,以便于修订时改正。

编者

# 目 录

第一章 从世界看中国	1
第一节 辽阔的疆域	1
第二节 众多的人口	7
第三节 多民族的大家庭	13
单元检测	18
第二章 中国的自然环境	23
第一节 地势和地形	23
第二节 气候多样 季风显著	30
第三节 河流与湖泊	38
单元检测	47
第三章 中国的自然资源	53
第一节 自然资源总量丰富 人均不足	53
第二节 土地资源	57
第三节 水资源	62
单元检测	66
第四章 中国的经济发展	71
第一节 逐步完善的交通运输网	71
第二节 因地制宜发展农业	77
第三节 工业的分布与发展	85
单元检测	92
期末检测	99
参考答案	106

# 第一章 从世界看中国

## 第一节 辽阔的疆域

### 知识梳理

同学们,从这一课开始,我们要学习中国地理了。这里有几个问题看看你们能否回答。你知道我们伟大的祖国——中华人民共和国位于地球的哪一部分吗?你知道我们的国土有多辽阔吗?你知道我们的国家是如何进行划区管理的吗?也许你还不是很清楚,学了这一课,你就明白了。

一个国家或地区的地理位置,一般是从半球位置、海陆位置、经纬度位置和与邻国或邻区的相对位置等四个方面去区分的。我国地理位置具有以下几个特点。从半球位置看:我国位于东半球和北半球;从大洲和大洋的相对位置看:我国位于亚洲东部、太平洋西岸;从经纬度位置看:我国南北跨纬度近 50 度,大部分属于北温带,东西跨经度 60 多度;从海陆位置看:我国位于世界最大的大陆——亚欧大陆的东部,东面濒临世界最大的大洋——太平洋,是一个海陆兼备的国家。我国地理位置的优越性对气候、发展农业生产、对外交往与合作、开发海洋资源和海上交通事业等诸方面带来很多有利影响。

疆域是指国家或地区地理环境的空间范围。我国疆域辽阔,陆地面积 960 万平方千米,居世界第三位;我国还是为数不多的海洋大国之一,有着广袤的海洋国土和富饶的海洋资源;我国疆界漫长,陆上有 14 个邻国,海上与 6 个国家隔海相望,与这些国家的和睦相处和友好往来是十分重要的。由于国土辽阔,我国东西之间的时间差异和南北之间的气温差异都很明显,沿海和内陆的降水差异也很大,这些都是形成复杂多样的自然环境的原因。其中,有的形成了有利于人类生活和生产的得天独厚的自然条件,而有些则对发展生产和生活居住形成障碍,属于不利影响。

行政区是一个国家为了便于管理而划分的分级区域系统。我国现行的三级行政区是指省级、县级和乡级。目前我国省级行政区共包括 23 个省、5 个自治区、4 个直辖市和 2 个特别行政区。北京是我国的首都,台湾是我国的一个省,香港和澳门是我国的领土,我国已对香港、澳门恢复行使主权,并设立了特别行政区。捍卫我国领陆、领水、领空与国家的主权、独立、尊严,是我们每一个公民的光荣职责。

## 训练导学

## 一、填空题

1. 我们伟大祖国的全称是\_\_\_\_\_；首都是\_\_\_\_\_。
2. 从南北半球看：我国位于\_\_\_\_\_半球；从东西半球看：我国位于\_\_\_\_\_半球。
3. 我国位于\_\_\_\_\_洲的东部和\_\_\_\_\_洋的西岸，陆地面积约\_\_\_\_\_万平方千米，居世界第\_\_\_\_\_位。
4. 我国领土大部分位于五带中的\_\_\_\_\_带，南部少数地区位于\_\_\_\_\_带，没有\_\_\_\_\_带。
5. 我国陆上国界线长 20 000 多千米，有\_\_\_\_\_个陆上邻国；大陆海岸线长 18 000 多千米，有\_\_\_\_\_个国家与我国隔海相望。
6. 我国濒临的海洋，从北到南依此为\_\_\_\_\_海、\_\_\_\_\_海、\_\_\_\_\_海和\_\_\_\_\_海，这些海都属于\_\_\_\_\_洋的一部分。
7. 在我国众多的邻国中，面积最大的是\_\_\_\_\_，人口最多的是\_\_\_\_\_。
8. 目前，我国共有 34 个省级行政单位，包括\_\_\_\_\_个省、\_\_\_\_\_个自治区、\_\_\_\_\_个直辖市和\_\_\_\_\_个特别行政区。

## 二、判断题

9. 北回归线穿过我国南部，北极圈穿过我国北部。 ( )
10. 中国的疆土虽然辽阔，但东西南北的自然差异不明显。 ( )
11. 我国有辽阔的海疆，有众多的岛屿和丰富的海洋资源。 ( )
12. 我国的领土面积与整个欧洲的面积差不多。 ( )
13. 我国领土的最北端和最东端均位于黑龙江省境内。 ( )
14. 我国陆地面积最大的省级行政区是西藏自治区。 ( )

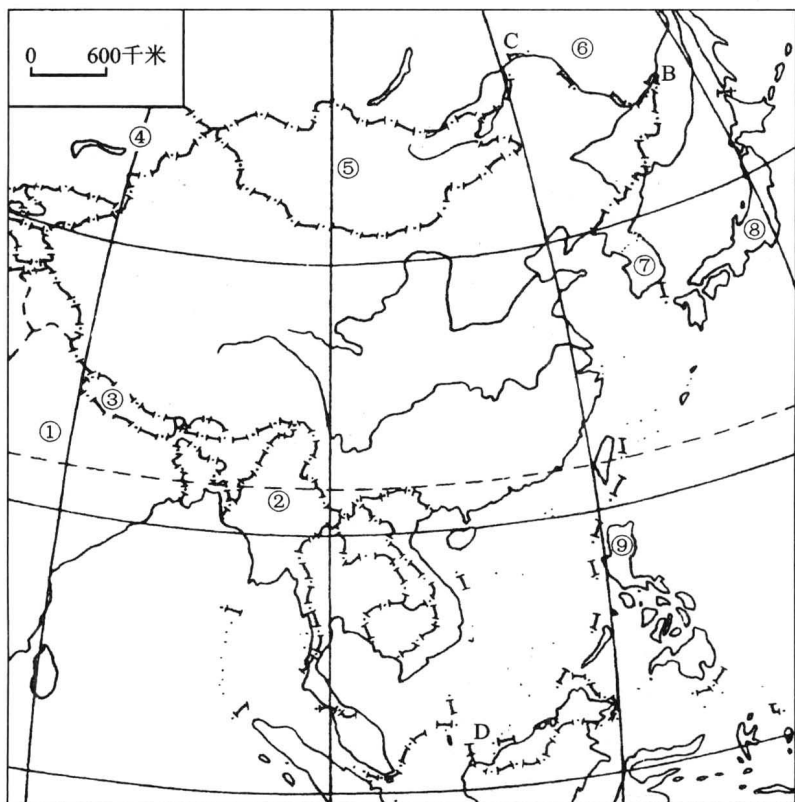
## 三、选择题

15. 以下叙述正确的是 ( )
  - A. 我国位于亚洲东部、太平洋西岸，是一个海陆兼备的大国
  - B. 我国大陆海岸线漫长，沿海有许多优良港湾，但岛屿很少
  - C. 我国大部分在温带，小部分在寒带，为发展多种农业经济提供了有利条件
  - D. 我国各地统一采用“北京时间”，所以同一时间各地景观一致
16. 在世界各国中，领土面积比我国大的两个国家是 ( )

- A. 美国、加拿大 B. 俄罗斯、加拿大 C. 俄罗斯、美国 D. 加拿大、巴西
17. 台湾海峡属于 ( )  
 A. 黄海 B. 东海 C. 南海 D. 太平洋
18. 北回归线自东而西穿过的省级行政单位是 ( )  
 A. 福建、广东、广西、贵州 B. 台湾、广东、广西、云南  
 C. 台湾、福建、广东、广西 D. 福建、江西、广东、云南
19. 我国跨经度最多的省级行政区是 ( )  
 A. 甘肃省 B. 海南省 C. 内蒙古自治区 D. 黑龙江省
20. 下列省级行政区中邻国最多的是 ( )  
 A. 新疆维吾尔自治区 B. 黑龙江省  
 C. 云南省 D. 西藏自治区
21. 下列各省中,有两个简称的是 ( )  
 A. 四川、云南 B. 湖北、江西 C. 江苏、宁夏 D. 上海、海南

四、综合题

22. 读下图,完成下列问题:



(1) 在图中适当部位填写:太平洋、印度洋、中国、南海。



(2) 写出我国领土的四端:

A \_\_\_\_\_ B \_\_\_\_\_

C \_\_\_\_\_ D \_\_\_\_\_

(3) 写出我国陆上邻国的国名:

① \_\_\_\_\_ ② \_\_\_\_\_ ③ \_\_\_\_\_

④ \_\_\_\_\_ ⑤ \_\_\_\_\_ ⑥ \_\_\_\_\_

(4) 写出与我国隔海相望的国家:

⑦ \_\_\_\_\_ ⑧ \_\_\_\_\_ ⑨ \_\_\_\_\_

23. 在表中填出 10 个省级行政区的名称、简称或省人民政府驻地, 并将表中 10 个省名填在下图中的恰当位置。



名称	简称	省人民政府驻地
陕西		
	晋	
		合肥
	鄂	
青海		
		南宁
	赣	
福建		
	辽	
广东		

## 拓展视野

### 1. 我国可管辖的海域面积

我国是一个重要的海洋大国,按联合国通过的《联合国海洋公约》的规定,我国周围海区应划归我国管辖的海域,包括内水、领海、大陆架和专属经济区。1998年6月26日通过的《中华人民共和国专属经济区和大陆架法》,从国内立法的角度,确立了中国对专属经济区和大陆架的主权权利和管辖权。根据该法,中国的主权权利和管辖权扩展到从测算领海宽度的基线量起不超过200海里的专属经济区和属于中国陆地领土向海洋自然延伸的全部大陆架。这样中国管辖的海域面积共约300万平方千米,是中国陆地国土面积的1/3。这是我国疆域的重要组成部分,是我国的“蓝色国土”。

(1) 按联合国通过的《联合国海洋公约》的规定,我国周围海区应划归我国管辖的海域,包括\_\_\_\_\_、\_\_\_\_\_和\_\_\_\_\_。

(2) 中国管辖的海域面积共约\_\_\_\_\_万平方千米,接近中国陆地国土面积的\_\_\_\_\_。

### 2. 我国省级行政区的名称和简称的由来

我国省级行政单位的名称多是历史上逐渐形成的,有的与山、河、湖有关。例如贵州省以境内贵山得名,云南省在云岭以南而得名,山东、山西是因为分别在太行山以东和以西而得名,河南、河北是因为分别在黄河南北而得名,湖南、湖北则是因为分别在洞庭湖以南和以北而得名,黑龙江省因大河黑龙江而得名,辽宁省以辽河得名,浙江省因钱塘江(又名浙江)而得名,青海省因境内青海湖而得名等。有的与其他地名有关,例如

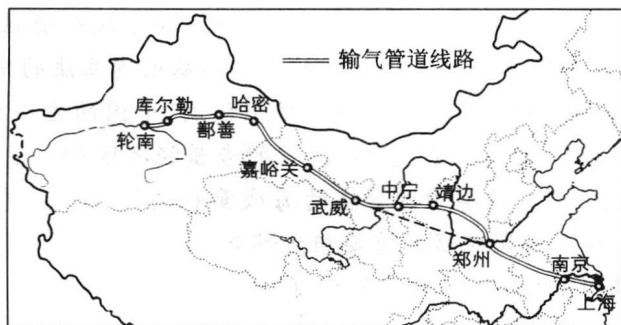
吉林省以省内吉林城得名,陕西省因位于陕原(今陕县一带)以西而得名,甘肃省旧以甘州(今张掖)、肃州(今酒泉)两地首字得名,江苏省以江宁、苏州两地首字得名,安徽省旧以安庆、徽州两地首字得名,福建省旧以福州、建瓯两地首字得名。

各省、市、自治区的简称,大致有三种情况:①取全名中的一个字或几个字做简称,例如黑、吉、辽、京、津、苏、浙、台、川、云、藏、陕、甘、宁、青、新、内蒙古;②因境内重要河流而得名,例如湖南、江西,因湘江和赣江而分别简称湘、赣;③取历史地名做简称,例如河北因部分地区历史上长期属于冀州而简称冀,山西、山东因部分地区在春秋时分别为晋国、鲁国领地,而简称晋、鲁,陕西省在战国时期属秦国辖地,故又简称秦,相传上海境内的吴淞江下游近海一段古称沪渎,所以上海市简称沪。

- 连线题:
- |         |      |         |      |
|---------|------|---------|------|
| (1) 上海市 | A. 赣 | (1) 重庆市 | A. 闽 |
| (2) 江西省 | B. 沪 | (2) 福建省 | B. 渝 |
| (3) 湖北省 | C. 豫 | (3) 安徽省 | C. 粤 |
| (4) 河南省 | D. 鄂 | (4) 广东省 | D. 皖 |

### 3. “西气东输”管道经过的省区

“西气东输”是西部大开发中的重大工程项目,它将新疆塔里木盆地的天然气通过管道输往能源短缺的东部地区,最终到达上海市区,全长大约4 200千米,贯穿9个省、市、自治区(见下图)。管道的铺设,对于实现西部资源与东部市场的对接,改善东部地区的能源结构,加快全国经济发展等具有重大意义。



填出图中“西气东输”管道自西向东依次经过的省区的简称:

新、\_\_\_\_\_、宁、\_\_\_\_\_、晋、\_\_\_\_\_、皖、\_\_\_\_\_和沪。

### 4. 猜一猜

请你猜一猜以下语句分别是指哪个省级行政区或省级行政中心。

- |                |                 |
|----------------|-----------------|
| (1) 带枪的人_____; | (2) 双喜临门_____;  |
| (3) 两个胖子_____; | (4) 四季温暖_____;  |
| (5) 久雨初晴_____; | (6) 船出长江口_____。 |

## 探究活动

1. 仔细观察中国政区图中各个省区的轮廓,黑龙江省像一只展翅欲飞的天鹅,山西省像一个南北延伸的平行四边形,台湾省的台湾岛形似纺锤,陕西省像一个屈腿而蹲的秦俑……展开你想象的翅膀,写出你认为轮廓还像某种事物的省区名称。

2. 自己动手,做一幅精美的中国政区图。

材料:中国政区底图 1 张,硬纸板或泡沫塑料、橡塑材料若干,水彩颜料。

工具:美工剪刀、胶水、毛笔等。

3. 游戏竞赛:

(1) 中国版图拼图竞赛:“比一比谁拼得又快又好!”可分团体赛(以小组为单位)和个人赛。

(2) 说说我国的边界省区和沿海省区:以辽宁为起点,分别沿陆上疆界和海岸线,依次说出省级行政单位的名称和简称。

## 第二节 众多的人口

### 知识梳理

人力资源是宝贵的,但人每天还需要消耗大量的资源和能源。所以人既是生产者,又是消费者。一个国家有关人口的基本情况和特征称人口国情。我国人口国情主要有:① 我国有 13 亿人口,约占世界总人口的 1/5,是世界上人口最多的国家;② 我国人口增长过快,每年要消耗大量的能源和资源,给社会经济发展和资源环境带来巨大的压力;③ 我国平均人口密度为每平方千米 135 人(2000 年),是世界平均人口密度的 3 倍多;④ 我国人口分布不均,大体以黑龙江省的黑河市到云南省的腾冲县画一条直线,此线东南一侧人口稠密,西北一侧人口稀疏。这与各地的自然条件和经济发展水平差异有很大的关系。

根据我国的人口国情,国家制定了人口政策。我国的人口基本国策是:实行计划生育,控制人口数量,提高人口素质。具体要求是晚婚晚育,少生优生。

20 世纪 70 年代以来,我国计划生育工作成效显著,人口生育率显著降低,但由于人口基数大,近几年每年净增人口仍在 1 200 万左右,因此,实行计划生育的工作丝毫

不能放松。

正确的人口观点和原理是：人既是生产者，又是消费者，人口数量的增长、人口的分布要与经济的发展及资源、环境承载量相适应；在控制人口数量的同时，还要重视提高人口素质。

### 训练导学

#### 一、填空题

1. 根据 2000 年第五次人口普查，我国总人口约为\_\_\_\_\_亿，占世界人口\_\_\_\_\_以上，是世界上人口最多的国家。
2. 我国人口的突出特点是人口\_\_\_\_\_大，\_\_\_\_\_快。
3. 2000 年，我国平均人口密度为每平方千米\_\_\_\_\_人，是世界平均人口密度\_\_\_\_\_倍多。
4. 我国政府把实行\_\_\_\_\_作为一项基本国策，提出控制人口\_\_\_\_\_，提高人口\_\_\_\_\_。
5. 人口数量的增长，应该同\_\_\_\_\_和\_\_\_\_\_相适应。

#### 二、选择题

6. 目前我国各省级行政区中，人口超过 8 000 万的有 ( )  
 A. 河南、山东、四川                      B. 河南、山东、江苏  
 C. 上海、山东、四川                      D. 上海、江苏、浙江
7. 在我国 34 个省级行政单位中，人口数量最多的是 ( )  
 A. 河北省      B. 山东省      C. 四川省      D. 河南省
8. 我国人口分布的特点是 ( )  
 A. 南部多，北部少                      B. 北部多，南部少  
 C. 西部多，东部少                      D. 东南多，西北少
9. 20 世纪 70 年代以来，我国实行相关人口政策后，以下变化正确的是 ( )  
 A. 人口数量保持相对稳定              B. 人口略有下降  
 C. 每年净增的人口数不多              D. 人口自然增长率有所下降
10. 我国每年净增人口数量仍在 1 000 万以上，其最主要的原因是 ( )  
 A. 人口死亡率低                      B. 人口出生率高  
 C. 人口基数大                      D. 人口自然增长率高
11. 我国东南部沿海一些省区的人口密度很大，每平方千米可达 ( )  
 A. 100~200 人      B. 200~300 人      C. 300~400 人      D. 500~600 人

12. 我国西部地区人口密度小,多数地区人口密度在 ( )

- A. 每平方千米 1 人以下  
B. 每平方千米 10 人以下  
C. 每平方千米 100 人以下  
D. 每平方千米 200 人以下

### 三、判断题

13. 中国的人口数居世界第一位,世界上平均每 5 个人中就有 1 个中国人。 ( )

14. 我国人口增长快主要是国家政策的鼓励。 ( )

15. 人是生产者,所以人越多越有利于经济的发展。 ( )

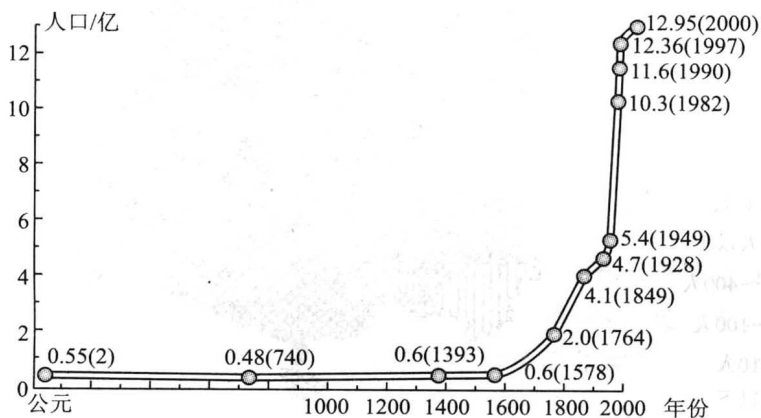
16. 我国各种自然资源的总量,很多居世界前列,但人均占有量大多位于世界平均水平之下。 ( )

17. 我国人口分布比较均匀,人口最多的省区是江苏省。 ( )

18. 江苏省的人口密度大于西藏自治区是由于人口的死亡率较低。 ( )

### 四、综合题

19. “我国人口增长示意图”,回答下列问题:



(1) 从图上看,在旧中国的一千多年间,人口增长\_\_\_\_\_,那时,人口的出生率高,但由于经济落后,战争频繁,灾荒严重,疫病流行,人口的\_\_\_\_\_也高,因而人口的\_\_\_\_\_较低。

(2) 从图上看,1949 年我国人口达到\_\_\_\_\_亿,1997 年我国人口激增到\_\_\_\_\_亿,净增约\_\_\_\_\_亿,平均每年增加约\_\_\_\_\_万人。

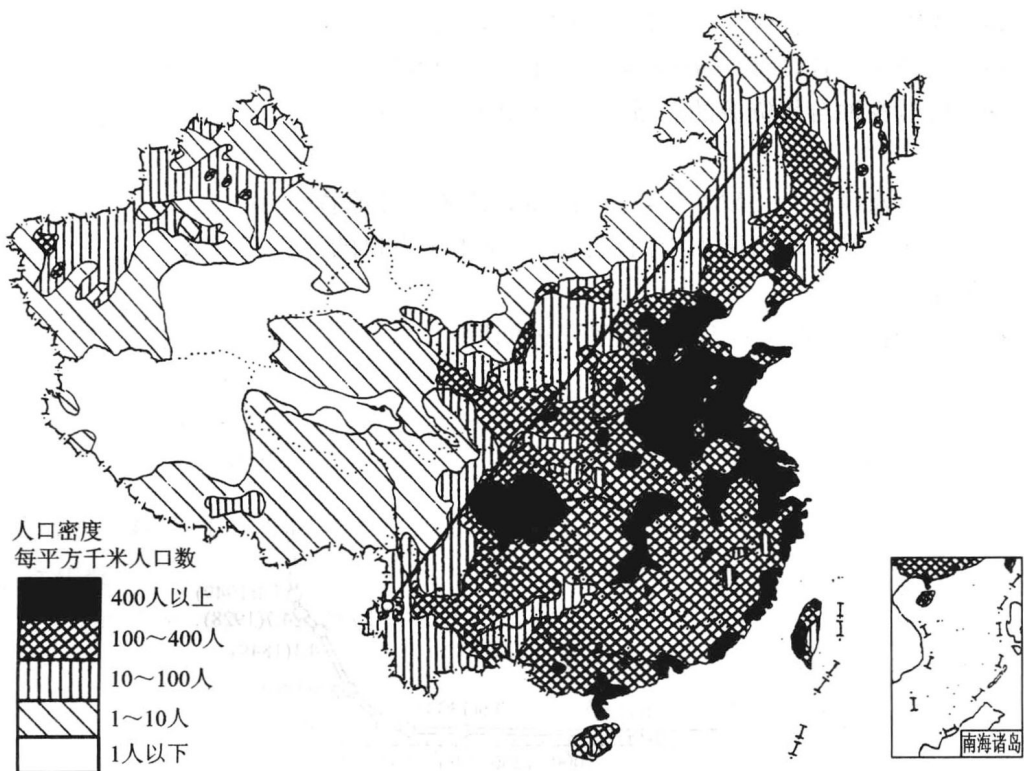
(3) 自 20 世纪 70 年代大力推行\_\_\_\_\_以来,人口的出生率和自然增长率明显下降,但由于我国\_\_\_\_\_,每年净增的人口数量仍很大,人口增长基本上呈\_\_\_\_\_上升状况。

20. 读“我国人口密度图”,回答下列问题:

(1) 我国人口分布的地区差异,有一条最基本的分界线,大体可以从黑龙江省的

\_\_\_\_\_市到云南省的\_\_\_\_\_县画一条直线。

(2) 上述直线是我国重要的人口地理界限。此线的东南部面积占了全国面积的43%，人口却占了全国总人口的\_\_\_\_\_%，此线的西北部面积占了57%，人口只占全国总人口的\_\_\_\_\_%，人口密度悬殊。



(3) 简述我国人口分布地区差异的原因。

---



---



---

### 拓展视野

#### 1. 中国人口的增长

新中国成立以来中国净增的人口，相当于美国、加拿大、德国、英国、法国、意大利、日本这7个发达国家人口的总和。当今中国，以1991年为例，每年净增人口相当于每年新增加一个北京市再加上一个青海省的人口，每月新增加一个大县的人口，每周新增

加一个小县的人口。平均每天净增 4.1 万人,每小时净增 1 712 人,每分钟净增近 29 人。中国每年的新增人口需消耗掉 20% 左右的新增国民收入。从 1952 年到 1988 年的 37 年中,国民收入虽增加 10 倍,但人均收入仅增加 4.8 倍。以 1990 年为例,中国有 48.5% 的增产粮食和 45.6% 的增产肉类用于新增人口;有 35% 的新设医院病床及 37.7% 的城镇竣工住宅,用于城镇地区新增人口。由于每年净增人口多,1990 年中国人均耕地已降到不足 0.1 公顷,只及世界人均水平的 1/4。人均淡水资源也只及世界的 1/4。中国粮食的产量居世界第一,但人均占有量只及美国的 22%。

思考题:我国每年大量的净增人口会带来哪些问题?

## 2. 中国人口的老龄化

老龄化的标准很多,最直接、最重要的一个标准,就是当 60 岁以上的人口占总人口 10% 以上时就进入老龄社会。按 2005 年统计,中国 60 岁以上的人口是 1.44 亿,占全国人口的 11%,因此说,中国已经进入了老龄化社会。

中国的老龄化有四个特点:第一,人数多。60 岁以上的人口已经是 1.44 亿,世界上 60 岁超过 1 亿人口的只有中国。第二,进展快。据统计,到 21 世纪中叶,大概到 2045 年左右,中国 60 岁以上人口将占到 30%。从 2005 年的 11% 到 2045 年的 30%,中国用了不到半个世纪的时间,而许多国家用了一百年的时间。因此,我们的进程大大快于其他国家。第三,我们的生产率水平比较低。我们刚刚达到了小康,人均 GDP 比许多西方国家低很多,这样用来支持这方面事业可动用的财力也是有限的。就是通常大家说的,我们是先老后富,而许多国家是先富后老。第四,历史欠账比较大。我们国家经历了由计划经济向市场经济转变的过程。计划经济体制下,当时是没有养老积累的,那么,这个包袱就留到现在,这是其他国家所没有的。

老龄化会给社会带来很多问题,归纳起来主要有三个:第一,养老金的压力比较大。2007 年,中国 4 600 万享受养老金的人员付出的养老金已经超过了 5 000 亿,这是巨大的数字。第二,医疗的费用会加大。按照一般统计,老年人所花费的医疗费用是年轻人的 3 倍以上。第三,老年人需要照顾,老年护理等事业也有很大的压力。

思考题:

(1) 人口老龄化的标准是什么? 我国是否进入了老龄化社会?

(2) 人口老龄化给社会带来的主要问题有哪些?

## 3. 人口日

1987 年 7 月 11 日,世界人口达到 50 亿。为纪念这个特殊的日子,1990 年联合国



根据开发计划署理事会第36届会议的建议,决定从这一年起将每年7月11日定为“世界人口日”,以唤起人们对人口问题的关注。1999年10月12日世界人口达到60亿,联合国将这一天确定为“世界60亿人口日”。

在中国,第一个“中国人口日”出现在1989年。据国家统计局测算,1989年4月14日中国大陆总人口达到11亿,这一天被定为“中国11亿人口日”。

1995年2月15日凌晨,一个叫赵旭的男婴在北京妇产医院出生,宣告中国第12亿个公民的诞生。2月15日也被定为“中国12亿人口日”。

2005年1月6日零点2分,中国第13亿个公民在北京妇产医院出生,这一天也成为“中国13亿人口日”。

(1) “世界60亿人口日”是\_\_\_\_\_年\_\_\_\_\_月\_\_\_\_\_日。

(2) “中国13亿人口日”是\_\_\_\_\_年\_\_\_\_\_月\_\_\_\_\_日。

### 探究活动

未来几十年我国人口面临的困难:

国家人口计生委主任张维庆在“中国13亿人口日”全国电视电话会上说,在今后几十年,人口总体素质不高、流动人口规模庞大、出生人口性别比持续升高、贫困人口脱贫困难、艾滋病及其他传染性疾病的滋长蔓延等五大难点将相互叠加。同时还要面对四大压力,即就业人口对经济承载的压力、贫富差距对社会承载的压力、生产生活方式对资源承载的压力、人口总量对环境承载的压力。人口和计划生育工作既面临稳定低生育水平的艰巨任务,又要统筹解决人口素质、人口结构和人口分布等方面存在的突出矛盾和问题。

(1) 根据以上材料,选择你所关注的我国人口问题的某一方面进行进一步的深入了解,在此基础上撰写一篇小论文。

(2) 探究世界上不同国家的人口政策,想一想,我国的计划生育政策是否适用于其他国家?

(3) 探究家乡外来人口的数量和来源,以及给家乡建设和发展带来的有利和不利影响。