

TONGBUXUEXI



经山东省中小学教材审定委员会审查通过

同步学习

地理

八年
级
上



明天出版社
MINGTIANCHUBANSHE



TONGBUXUEXI

同步学习

地理

八年级上

本书编写组



明天出版社
MINGTIANCHUBANSHE



131

同步学习

地 理

八年级上

明天出版社出版

(济南经九路胜利大街 39 号)

<http://www.sdpress.com.cn>

<http://www.tomorrowpub.com>

山东省新华书店发行 济宁市火炬书刊印务中心印刷

*

880 × 1230 毫米 32 开本 5 印张 177 千字

2007 年 8 月第 1 版 2008 年 8 月第 2 版第 2 次印刷

ISBN 978 - 7 - 5332 - 5473 - 5

定价:5.00 元

如有印装质量问题,请与印刷厂调换。

说明

TONGBUXUEXI

从2001年秋季开始,新一轮基础教育课程改革实验在全国正式启动,新的《课程标准》,新的实验教材,新的教学理念,改变了老师们的教学行为,也改变了同学们的学习行为。为适应新课程改革的需要,帮助同学们更好地用科学的方法掌握学科知识体系,培养学生的创新精神和实践能力,济宁市教研室组织具有丰富教学经验的中学教师和教研人员,精心编写了这套“同步学习”系列丛书。

本书充分体现了新课程改革的理念和特点,正确处理传授知识与培养能力的关系,注重培养学生的独立性和自主性,引导学生质疑、调查、探究,促进学生在教师指导下主动地、富有个性地学习。

本书强调以课程标准为依据,从实验教材出发,适当向外拓展,力求全面体现国家对不同阶段的学生在“知识与技能、过程与方法、情感态度与价值观”等方面的基本要求。

本书最大的特点是与教学同步,依据教材内容进行编排。有利学生在课上或课下对所学教材进行巩固和测控,进而把所学知识转化为能力。

由于时间和水平所限,不足之处,望同学们批评指正,以便进一步修改完善。

编者





目录

TONGBUXUEXI

八
年
级
上

1

第一单元 国土与居民	(1)
第1课 辽阔的疆域	(1)
第2课 行政区划	(5)
第3课 众多的人口	(9)
第4课 和睦的民族大家庭	(13)
单元检测(一)	(18)
第二单元 自然环境	(23)
第1课 地形地势特征	(23)
第2课 地形分布	(30)
第3课 气温和降水	(41)
第4课 气候的基本特征	(47)
第5课 长江	(52)
第6课 黄河	(58)
单元检测(二)	(62)
期中试题	(69)
第三单元 中国的自然资源	(78)
第1课 自然资源	(78)
第2课 土地资源	(82)
第3课 水资源	(87)
单元检测(三)	(93)



第四单元 经济与文化 (99)

第1课 农业的分布 (99)

第2课 农业的发展 (104)

第3课 工业的分布 (109)

第4课 工业的发展 (114)

第5课 交通运输网 (118)

第6课 交通运输方式的选择 (123)

第7课 丰富多彩的文化 (126)

单元检测(四) (130)

期末测试题 (135)

参考答案 (141)



第一單元



国土与居民

第 1 课 辽阔的疆域

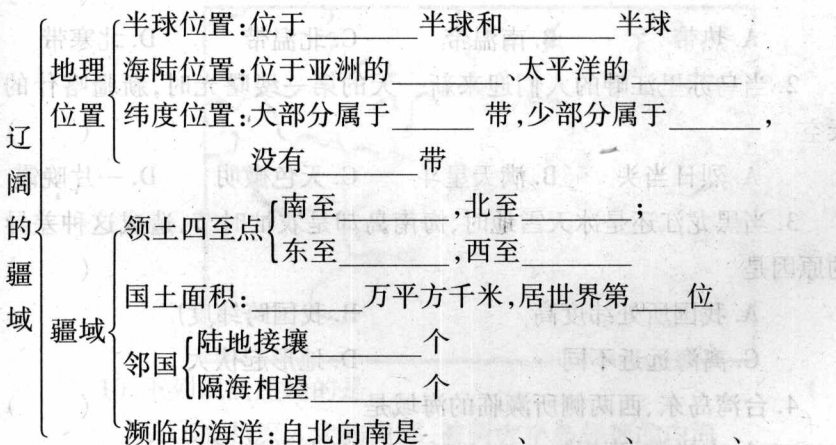


课标导航

1. 运用地图说出我国的地理位置及其特点,并能分析其地理位置优越性。
2. 记住我国的领土面积,在地图上指出我国的邻国,记住濒临的海洋,说明我国既是陆地大国,又是海洋大国。



网络构建





津津点萃

为什么说我国地理位置十分优越？

我国地理位置的优越性,可以从以下两个方面来解释:

(1)从纬度位置看,我国南北跨度广,气候差异大,世界上绝大部分粮食作物和经济作物都可以在我国找到适宜生长的地方。多种多样的气候为发展多种经济提供了有利条件;(2)从海陆位置看,我国是一个海陆兼备的国家,东临太平洋,使我国东部地区降水丰沛,有利于农业生产。沿海有许多优良港口,便于发展海洋事业;西部深入亚欧大陆内部,使我国陆上交通能与中亚、西亚和欧洲直接往来,便于对外交往与合作。



自我展示

一、选择题

1. 我国领土南北跨纬度近 50° , 大部分位于五带中的哪一带?

()

- A. 热带 B. 南温带 C. 北温带 D. 北寒带

2. 当乌苏里江畔的人们迎来新一天的第一缕曙光时, 新疆喀什的天空

()

- A. 烈日当头 B. 满天星斗 C. 天色微明 D. 一片晚霞

3. 当黑龙江还是冰天雪地时, 海南岛却是农忙时节, 造成这种差异的原因是

()

- A. 我国所处纬度高 B. 我国跨纬度广
C. 离海远近不同 D. 地形起伏大

4. 台湾岛东、西两侧所濒临的海域是

()

- A. 太平洋、南海 B. 太平洋、东海
C. 太平洋、黄海 D. 太平洋、渤海



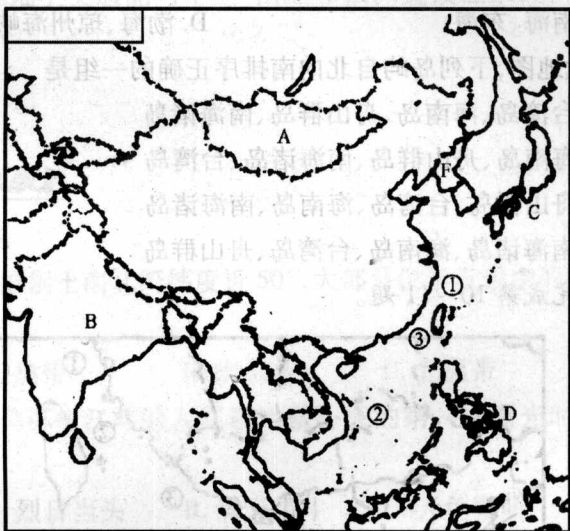
- C. ③海是我国的内海
D. ④海峡南侧的海南岛是我国领土的最南端

11. 下列关于②海峡的说法正确的是

- A. 是连接太平洋和印度洋的重要水道
B. 连接东海和南海,属于南海一部分,是我国东部沿海进入太平洋的必经水道
C. 是我国南北海上航行、大陆与台湾交往的必经水道
D. 海峡东侧海岛是我国与日本有领土争议的区域

二、综合题

12. 读下图,完成下列要求。



(1) 分别用符号 E、W、S、N 在图上表示出我国领土的四端点。

(2) 在图上填注我国面积最大邻国的名称。

(3) 写出图中数码代表的海、岛屿的名称。

① _____ 海

② _____ 海

③ _____ 岛

(4) 我国陆上接壤的国家中,人口最多的是 _____ (填写字母代




号和国家名称);我国隔海相望的国家中,经济最发达的是_____ (填写字母代号和国家名称)。



视野拓展

神奇的北极村

漠河县的漠河村是中国最北端的一个小山村,由于位置偏远和气候严寒,素有“中国北极村”之称。冬季北极村的平均气温低至 -40°C 。北极村位于大兴安岭七星山、远宝山脚下,东西南三面环绕着苍茫而连绵的青山,北临黑龙江,对面就是俄罗斯。北极村的胜景是夏天的“白夜”和冬天的“黑昼”。每年夏季,漠河的白天便越来越长,晚上也相应地越来越短,尤其是夏至前后半个月,每晚只有子夜一两个钟头,天色稍微昏暗一些,随后又是艳阳高照,这种日不落现象我们称之为“白夜”(当然,真正的“白夜”必须在北极圈以内才会出现)。夏至傍晚,当“夜色”降临的时候,天空仍像平日有云的白天那样明亮,由深红变为淡紫的晚霞,一直在西北的地平线上持续到午夜,黑夜短暂,转瞬即逝,晚霞和黎明的曙光紧紧相连。北极村冬天的白天并不白,天空灰蒙蒙的,持续时间也不长,当地人称之为“黑昼”。因此,在北极村旅游有时会有“颠倒黑白”之感。



第2课 行政区划



课标导航

1. 在中国政区图上能准确找出 34 个省级行政单位的位置、行政中心,并能说出其简称。



2. 通过对我国辽阔疆域、优越位置的学习,激发爱国情怀。



网络构建

6

行政区划划分三级: _____、_____、_____。
 省级行政区划: 34 个省级行政区包括 _____ 个省、_____ 个直辖市、
 _____ 个自治区、_____ 个特别行政区。



自我展示

一、选择题

1. 参照地图册,找出北回归线自东向西穿过的我国省级行政单位

()

- A. 福建、广东、广西、贵州 B. 云南、广东、江西、福建
 C. 云南、广西、广东、台湾 D. 台湾、广东、广西、云南

2. 下列属于我国三级行政区划的是

()

- A. 省、自治区、直辖市 B. 省、县、乡
 C. 省、特别行政区、直辖市 D. 省、区、县

3. 全部位于热带的省是

()

- A. 台湾省 B. 广东省 C. 海南省 D. 福建省

4. 与渤海、黄海都相邻的省级行政单位是

()

- A. 河北、山东 B. 辽宁、山东
 C. 山东、江苏 D. 辽宁、河北

5. 下列省区轮廓与其对应的简称错误的是

()



秦

A



鲁

B



黔

C



辽

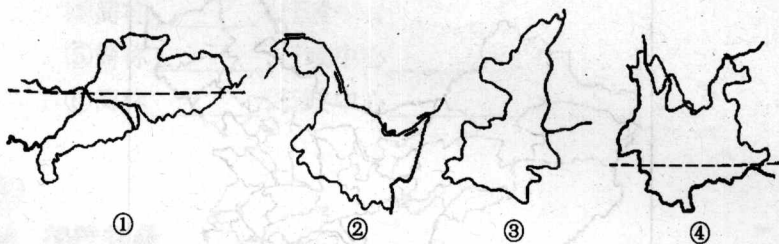
D



6. 下列省级行政区的简称中,与河流无关的是 ()

- A. 闽 B. 湘 C. 鲁 D. 赣

7. 关于下列四个省(区)的说法正确的是 ()



- A. ①省南部濒临的海域是东海
 B. 我国领土的最东端、最北端都在②省
 C. ③省的行政中心是太原市
 D. ④省的简称是川或蜀

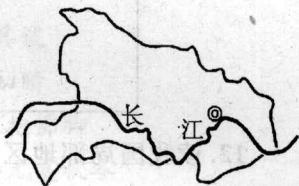
读某省轮廓图,完成第8~9题。

8. 该省会是 ()

- A. 长沙市 B. 武汉市
 C. 南昌市 D. 郑州市

9. 该省简称是 ()

- A. 粤 B. 湘 C. 鄂 D. 豫



10. 下列省(区)与简称、省会的连线,正确的是 ()

- A. 青海——青——兰州 B. 湖北——湘——武汉
 C. 广西——粤——桂林 D. 贵州——黔——贵阳

二、综合题

11. 读图和相关材料,完成下列要求。

材料:从2001年1月1日起,西部地区将在资金投入、投资环境、对外开放、科技教育等方面享受多项优惠政策,这就是我国政府做出的重大决策——西部大开发,具体包括的12个省区:重庆、四川、贵州、云南、西藏、陕西、甘肃、宁夏、青海、新疆、内蒙古、广西。

(1) 在图中相应位置填写西部大开发所包括的省区简称。



(2) 试着用西部省、自治区、直辖市的简称编两句顺口溜,看谁记得快!

(3) 我国首都是_____ ,几乎被_____ 省所包围。



12. 读我国局部地区图,回答下列问题。

(1) 山东省东临两大边缘海分别是:

① _____ 海

② _____ 海

(2) 关于山东省的说法,正确的是 ()

A. 两大临海中,②海是我国内海

B. 行政中心是济南

C. 邻省③简称是豫

D. 与日本、印尼隔海相望





(3) 请将山东省周围省份③、④、⑤、⑥四省的简称和行政中心分别填写在下面的横线上。

③简称_____，行政中心_____；

④简称_____，行政中心_____；

⑤简称_____，行政中心_____；

⑥简称_____，行政中心_____。



视野拓展

猜谜语

- | | |
|------------|------------|
| 1. 银河渡口 | 2. 盛夏穿棉衣 |
| 3. 船出长江口 | 4. 氮磷钾 |
| 5. 千里戈壁 | 6. 夸夸其谈 |
| 7. 双喜临门 | 8. 久雨初晴 |
| 9. 中国最大的村落 | 10. 急来抱佛脚 |
| 11. 欧洲无战争 | 12. 四季无夏秋冬 |

(以上谜语,各打一省会城市名)

第3课 众多的人口



课标导航

1. 说出我国人口总数,依据图中数据说明我国人口增长趋势。说出我国的人口国策。
2. 人口过多的危害;我国的人口基本国策。
3. 运用人口分布图说出我国人口的分布概况。
4. 树立科学的人口发展观。



- A. 劳动力短缺 B. 兵源不足
C. 性别比例失调 D. 住房紧张, 就业困难
4. 我国实行计划生育以来, 人口出生率和自然增长率明显下降的时期是 ()

- A. 20 世纪 50 年代以来 B. 20 世纪 60 年代以来
C. 20 世纪 70 年代以来 D. 20 世纪 80 年代以来

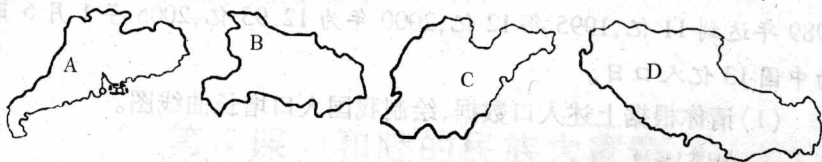
5. 我国人口增长过快出现的问题是 ()

- A. 人口老龄化 B. 资源环境压力大
C. 死亡率高 D. 人口地区分布不平衡

6. 关于我国人口增长的正确叙述是 ()

- A. 人口增长速度回升快
B. 人口基数大, 每年净增人口仍然很多
C. 人口开始减少
D. 人口基数大, 每年总人口在减少

7. 下面我国四个行政区中, 具有典型的地广人稀特点的是哪一个



8. 我国人口东多西少, 为了促进西部大开发, 正确的做法或观点是 ()

- A. 把东部人口大量向西部迁移, 人多力量大, 有利于开发
B. 不宜于大量移民, 应发展教育, 提高人口素质, 保持环境
C. 西部自然条件优越, 可以大量移民
D. 西部地区人口数量少, 人口素质高, 适合发展高新技术产业

9. 下列关于我国人口政策的说法, 正确的是 ()

- A. 实行计划生育是我国的一项基本国策
B. 少数民族人口少, 不需要计划生育