

2009
畅销辅导用书

根据最新公务员录用考试大纲编写

浙江省人事考试专用辅导

ZHEJIANGSHENG RENSHI KAOSHI ZHUANYONG FUDAOSHI

(2001—2008)

浙江省公务员录用考试 历年真题详解

ZHEJIANGSHENG GONGWUYUAN LUYONG KAOSHI
LINIAN ZHENTI XIANGJIE

高 守 主 编

- 公务员录用考试用书
- 事业单位公开招聘考试用书
- 附军队转业干部录用考试试卷

浙江人民出版社

浙江省人事考试专用辅导书

ZHEJIANGSHENG RENSHI KAOSHI ZHUANYONG FUDAOSHU

2009
畅销辅导用书

根据最新公务员录用考试大纲编写

(2001—2008)

浙江省公务员录用考试 历年真题详解

ZHEJIANGSHENG GONGWUYUAN LUYONG KAOSHI
LINIAN ZHENTI XIANGJIE

高 守 主 编

浙江人民出版社

图书在版编目(CIP)数据

浙江省公务员录用考试历年真题详解/高守主编. —2
版. —杭州: 浙江人民出版社, 2007. 9(2008. 10 重印)

ISBN 978 - 7 - 213 - 03641 - 5

I. 浙… II. 高… III. 公务员—招聘—考试—中国—
解题 IV. D630.3-44

中国版本图书馆 CIP 数据核字(2007)第 151154 号

书 名	浙江省公务员录用考试历年真题详解
作 者	高 守 主 编
出版发行	浙江人民出版社 杭州市体育场路 347 号 市场部电话: (0571)85061682 85176516
责任编辑	叶国斌
封面设计	罗信文
电脑制版	杭州大漠照排印刷有限公司
印 刷	浙江印刷集团有限公司
开 本	787×1092 毫米 1/16
印 张	20.75
字 数	52.8 万
插 页	1
版 次	2007 年 10 月第 1 版 2008 年 10 月第 2 版 2008 年 10 月第 3 次印刷
书 号	ISBN 978 - 7 - 213 - 03641 - 5
定 价	40.00 元

如发现印装质量问题,影响阅读,请与市场部联系调换。



前 言

(2009 年版)

为了净化公务员考试用书市场,为广大考生提供精品辅导用书,公务员录用考试专业指导用书编委会特组织公务员考试命题研究方面的专家编写了“公务员录用考试专业指导用书”系列丛书,前几年已经陆续推出了“指定参考用书”系列、“专业考试用书”系列,现隆重推出“精品辅导用书”系列修订版。丛书具有以下几个特点:

一、紧扣大纲,与时俱进

这套丛书是根据《中华人民共和国公务员法》的精神及最新公务员录用考试公共科目大纲编写的。首先,新大纲尽管对公务员招考职位有行政执法类与综合管理类的区分,但公务员资格考试使用同一张试卷。其次,丛书内容紧扣大纲编写。根据大纲的要求,增加了选词填空、逻辑判断、法律常识方面的内容。如常识判断部分,新大纲主要侧重测查应考者的法律知识运用能力,内容主要涉及宪法、民商法、行政法、经济法、刑法、诉讼法等。资料分析方面,具体的表述没有太大的变化,但例题部分有些变动。往年给定的例题是统计表,现在更强调统计图。统计表和统计图的难度是不一样的,统计表主要侧重于计算,统计图则侧重于定性。统计图相对容易些,可以通过观察得出结论。以上这些变化在这套书中都有非常明显的反映。可以说这套“精品辅导用书”系列是公务员法实施以来,唯一根据最新考试大纲编写的辅导教材。

二、作者权威,讲解精到

丛书的作者都是长期从事公务员考试命题研究的专家,有着丰富的经验和相当的影响力。如王益宝老师是著名的“行政职业能力测验”研究及培训方面的专家,曹文彪老师是“申论”研究及培训方面的权威,高守是公务员考试网(www.kaoshi.cc)的首席培训官。作者对考试的每种题型都进行了深入的剖析,找出准确回答的理论根据,并概括出高分作答的基本方法及技巧,以便考生迅速熟悉考试的特点、要求,快速提升应对考试的能力。“精品辅导用书”注重系统性、科学性。如《行政职业能力测验精品辅导》中,每一章都有概述、常见题型精讲、解题技巧总结、能力拓展。这种结构的设计,不仅使考生较容易掌握每一类题目的要求、解题技巧,也使考生能有贴近实战的演练机会。又如《申论精品辅导》,它不仅使考生了解申论考试的目的、意义,更有助于考生掌握申论考试的重要环节和要领,包括阅读材料的技巧、概括大意的方法、高分论述的关键等。

三、紧贴实战,难度相当

以往的辅导用书很多内容东拼西凑,知识点、题型过于陈旧,解析过于简单,缺乏系统



性,更不要说兼顾难度了。考生使用那样的辅导用书不仅达不到应有的效果,而且会浪费时间,效果适得其反。“精品辅导用书”系列是以历年真题为分析材料,尤其是以近几年的中央真题为基础,兼顾浙江、北京、上海、江苏、山东、福建、广东、广西等省份的真题。这样分析起来更具针对性,更贴近考试。像《行政职业能力测验精品辅导》中的能力拓展题,都选自中央及地方的公务员录用考试中有代表性的真题,有难度,有深度,贴近实战。另外,作者总结出的规律也有普遍意义,既适合中央、国家机关公务员的考试,又适合地方公务员的考试。“精品辅导用书”第一版推出后,得到了考生的广泛好评,也成为各大培训机构的首选教材。现根据最新大纲精神,对原书的内容、结构进行调整和完善,使第二版更加贴近实战。

四、品种丰富,具备特色

“公务员录用考试专业指导用书”丛书已经形成了三大系列近 10 个品种,它们是“指定参考用书”系列:浙江省人事厅主编的《行政职业能力测验》、《申论》、《综合基础知识》;“精品辅导用书”系列:《申论精品辅导》、《行政职业能力测验精品辅导》、《中央、国家机关公务员录用考试历年真题详解》、《浙江省公务员录用考试历年真题详解》、《面试》等。这些书各有侧重,如“指定参考用书”系列注重公共知识的梳理,行政职业能力测验与申论的理论指导,“精品辅导用书”系列强调实战技巧的提升。当然在准备公务员考试时,侧重点是不一样的,考生可根据自己的实际情况自主选择。此外,丛书不仅适用于考中央、国家机关公务员的考生,也适用于考地方国家机关公务员的考生。

五、资料新颖,互动性强

丛书涉及的资料非常丰富、新颖,涵盖面广,除了历年的中央、国家机关公务员录用考试的真题外,还涉及浙江、上海、北京、山东、江苏、福建、辽宁、广东、广西等省(区)的真题。而且很多是近一两年的真题,尤其是 2008 年的真题。这些都得益于公务员考试网(www.kaoshi.cc)的大力支持、帮助。另外,为配合这套丛书的出版,浙江人民出版社公务员考试书籍热门信箱(chuban110@163.com)也已经开通。

相信这套丛书的修订再版,必将推动公务员考试用书向规范、精品方向迈进,也必定会给考生带来收获的喜悦!

公务员录用考试专业指导用书编委会

2008 年 10 月



目 录

CONTENTS

第一部分 《行政职业能力测验》试卷及答案详解

2008 年浙江省公务员录用考试《行政职业能力测验》试卷	(1)
参考答案及详解	(20)
2007 年浙江省公务员录用考试《行政职业能力测验》试卷	(30)
参考答案及详解	(47)
2006 年浙江省公务员录用考试《行政职业能力测验》试卷	(55)
参考答案及详解	(74)
2005 年浙江省公务员录用考试《行政职业能力测验》试卷	(80)
参考答案及详解	(100)
2004 年浙江省公务员录用考试《行政职业能力测验》试卷	(108)
参考答案及详解	(126)
2003 年浙江省公务员录用考试《行政职业能力测验》试卷	(133)
参考答案及详解	(149)
2002 年浙江省公务员录用考试《行政职业能力测验》试卷	(155)
参考答案及详解	(171)
2001 年浙江省公务员录用考试《行政职业能力测验》试卷	(176)
参考答案及详解	(192)

第二部分 《申论》试卷及详解

2008 年浙江省公务员录用考试《申论》试卷	(196)
试卷详解	(201)



2007年浙江省公务员录用考试《申论》试卷	(205)
试卷详解	(210)
2006年浙江省公务员录用考试《申论》试卷	(214)
试卷详解	(218)
2005年浙江省公务员录用考试《申论》试卷	(224)
试卷详解	(226)
2004年浙江省公务员录用考试《申论》试卷	(233)
试卷详解	(234)
2003年浙江省公务员录用考试《申论》试卷	(237)
试卷详解	(238)
2002年浙江省公务员录用考试《申论》试卷	(240)
试卷详解	(242)
2001年浙江省公务员录用考试《申论》试卷	(245)
试卷详解	(247)

附录一 军队转业干部录用考试试卷及参考答案

宁波市军队转业干部录用考试试卷	(249)
参考答案	(252)
杭州市军队转业干部录用考试试卷	(253)
参考答案	(262)
浙江省军队转业干部录用考试试卷(一)	(263)
参考答案	(269)
浙江省军队转业干部录用考试试卷(二)	(272)
参考答案	(278)
浙江省军队转业干部录用考试试卷(三)	(281)
参考答案	(285)

附录二 2008年中央、国家机关公务员录用考试试卷及详解

2008年中央、国家机关公务员录用考试《行政职业能力测验》试卷	(287)
参考答案及详解	(311)
2008年中央、国家机关公务员录用考试《申论》试卷	(321)
参考答案	(326)



第一部分

《行政职业能力测验》试卷及答案详解

2008年浙江省公务员录用考试 《行政职业能力测验》试卷

这项测验共有五个部分,130道题,总分为100分。各部分不分别计时,但都给出参考时限,供你参考以分配时间。

请在题本和答题卡上严格按照要求填写自己的姓名、涂写准考证号。

请仔细阅读下面的注意事项,这对你获得成功非常重要:

1. 题目应在答题卡上作答,在这份题本上作答无效。
2. 你可以在本题本的空隙处打草稿纸。
3. 监考人员宣布考试开始后,你才可以开始答题。
4. 监考人员宣布考试结束时,你应立即放下铅笔,停止答题。

5. 考试结束后,当你将题本、答题卡交给监考人员时,请让监考人员在你的准考证上签名以证明你确已将题本和答题卡交给监考。否则,若题本、答题卡遗失,由你承担责任。监考人员签名后,你可离开考场。

6. 在这项测验中,可能有一些试题是很容易的,但任何人都很难在规定时间内答对所有的题目,因此你不要在一道题上思考时间太久,遇到不会答的题目,可先跳过去,待答完了那些容易的题目后再去思考,否则,你可能没有时间去答后面更容易的题目。试题答错不倒扣分。

7. 特别提醒你注意,填涂答案时一定要认准题号。严禁折叠答题卡!

第一部分 数量关系

(共25题,参考时限25分钟)

本部分包括两种类型的试题:

一、数字推理:共10题。给你一个数列,但其中缺少一项,要求你仔细观察数列的排列规律,然后从四个选项中选出最符合规律的一项来填补空缺项。

请开始答题:

1. 20 20 33 59 98 ()

A. 150

B. 152

C. 154

D. 156



2. 1 4 3 1 $\frac{1}{5}$ $\frac{1}{36}$ ()
 A. $\frac{1}{92}$ B. $\frac{1}{124}$ C. $\frac{1}{262}$ D. $\frac{1}{343}$
3. 675 225 90 45 30 30 ()
 A. 27 B. 38 C. 60 D. 124
4. 34 -6 14 4 9 $\frac{13}{2}$ ()
 A. $\frac{22}{3}$ B. $\frac{25}{3}$ C. $\frac{27}{4}$ D. $\frac{31}{4}$
5. 0 7 26 63 124 ()
 A. 209 B. 215 C. 224 D. 262
6. $\frac{1}{3}$ 3 $\frac{1}{12}$ $\frac{4}{3}$ $\frac{3}{64}$ ()
 A. $\frac{13}{84}$ B. $\frac{64}{75}$ C. $\frac{3}{52}$ D. $\frac{3}{32}$
7. 1 4 14 31 55 ()
 A. 83 B. 84 C. 85 D. 86
8. $\frac{1}{12}$ 2 $\frac{7}{6}$ $\frac{10}{3}$ $\frac{44}{9}$ ()
 A. $\frac{199}{18}$ B. $\frac{283}{21}$ C. $\frac{365}{24}$ D. $\frac{467}{27}$
9. 3 65 35 513 99 ()
 A. 1427 B. 1538 C. 1642 D. 1729
10. 2 5 13 35 97 ()
 A. 214 B. 275 C. 312 D. 336

二、数学计算：共 15 题。每道试题呈现一道算术式，或表述数字关系的一段文字或几何图形，要求你迅速、准确地计算或认证出答案。

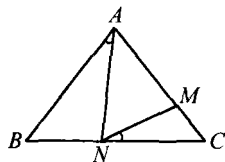
请开始答题：

11. 把分数 $\frac{3}{7}$ 用小数来表示，则该小数小数点后第 2008 位的数字是()。
 A. 1 B. 2 C. 4 D. 5
12. $\frac{1}{42} + \frac{1}{56} + \frac{1}{72} + \frac{1}{90} + \frac{1}{110}$ 的值是()。
 A. $\frac{1}{6}$ B. $\frac{5}{66}$ C. $\frac{7}{85}$ D. $\frac{11}{128}$
13. 在自然数 1 至 50 中，将所有不能被 3 除尽的数相加，所得的和是()。
 A. 865 B. 866 C. 867 D. 868
14. 一个边长为 1 的正方形木板，锯掉四个角使其变成正八边形，那么正八边形的边长是多少？()
 A. $\frac{1}{2}$ B. $\frac{\sqrt{2}}{2}$ C. $2-\sqrt{2}$ D. $\sqrt{2}-1$



15. 如右图所示,在 $\triangle ABC$ 中,已知 $AB = AC, AM = AN, \angle BAN = 30^\circ$ 。问 $\angle MNC$ 的度数是多少? ()

- A. 15° B. 20°
C. 25° D. 30°



16. 现有 A、B、C 三桶油,先把 A 的 $\frac{1}{3}$ 倒入 B 桶,再把 B 桶的 $\frac{1}{4}$ 倒入 C 桶,最后把 C 桶的 $\frac{1}{10}$ 倒入 A 桶。经这样操作后,三桶油各为 90 升。问 A 桶原来有油多少升? ()

- A. 90 升 B. 96 升 C. 105 升 D. 120 升

17. 有面积为 1 米²、4 米²、9 米²、16 米² 的正方形地毯各 10 块,现有面积为 25 平方米的正方形房间需用以上地毯来铺设,要求地毯互不重叠而且刚好铺满。问最少需几块地毯? ()

- A. 6 块 B. 8 块 C. 10 块 D. 12 块

18. 有颜色不同的四盏灯,每次使用一盏、两盏、三盏或四盏,并按一定的次序挂在灯杆上表示信号,问共可表示多少种不同的信号? ()

- A. 24 种 B. 48 种 C. 64 种 D. 72 种

19. 如图所示,在 3×3 方格内填入恰当的数后,可使每行、每列以及两条对角线上的三个数的和都相等。问方格表内“X”的值是多少? ()

- A. 2 B. 9
C. 14 D. 27

3		X
		6
8		

20. 甲、乙两人沿直线从 A 地步行至 B 地,丙从 B 地步行至 A 地。

已知甲、乙、丙三人同时出发,甲和丙相遇后 5 分钟,乙与丙相遇。如果甲、乙、丙三人的速度分别为 85 米/分钟、75 米/分钟、65 米/分钟。问 AB 两地距离为多少米? ()

- A. 8000 米 B. 8500 米
C. 10000 米 D. 10500 米

21. 有 A、B 两个电脑显示器,已知旧显示器 A 的宽与高的比例是 4 : 3,新显示器 B 的宽与高的比例是 16 : 9,如果两个显示器的面积相同,问 B 的宽与 A 的宽度之比是 ()。

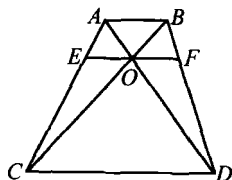
- A. $\sqrt{3} : 1$ B. $\sqrt{3} : 6$ C. $2 : \sqrt{3}$ D. $4 : \sqrt{3}$

22. 若商品的进货价降低 8%,而出售价不变,那么利润(按进货价而定)可由目前的 $p\%$ 增加到 $(p+10)\%$ 。问 p 的值是 ()。

- A. 20 B. 15 C. 10 D. 5

23. 如图所示,梯形 ABCD 的两条对角线 AD、BC 相交于 O,EF 平行于两条边且过 O 点。现已知 $AB = 6, CD = 8$ 。问 EF 的长度为多少? ()

- A. 8.5 B. 9
C. 9.5 D. 10



24. 某人月初用一笔人民币投资股票,由于行情较好,他的资金每月都增加 $\frac{1}{3}$ 。即使他每月末都取出 1000 元用于日常开销,他的资金仍然在 3 个月后增长了一倍。问他开始时投资了



多少人民币? ()

- A. 9900 元
B. 9000 元
C. 12000 元
D. 11100 元

25. 小明、小刚和小红三人一起参加一次英语考试,已知考试共有 100 道题,且小明做对了 68 题,小刚做对了 58 题,小红做对了 78 题。问三人都做对的题目至少有几题? ()

- A. 4 题
B. 8 题
C. 12 题
D. 16 题

第二部分 言语理解与表达

(共 30 题,参考时限 25 分钟)

每道题包括一段话或一个句子,后面是一个不完整的陈述,要求你从四个选项中选出一个来完成陈述。注意:答案可能是完成对所给文字主要意思的提要,也可能是满足陈述中其他方面的要求,你的选择应与所提要求最相符合。

请开始答题:

26. 出于对进城农民工生活的深切关怀,作家们在叙述农民进城的故事时,大都会情不自禁地持有一种严正的道德立场,这些故事往往被简化为一种苦难叙事或控诉文学。在这种叙事图景中,城市和农村往往被抽象化为两个相对立的价值世界,农民们在城市中的挣扎,也总是被演绎为一曲关于质朴价值遭到毁灭的挽歌。这段文字的主旨是()。

- A. 现代文学创作应更多关注进城农民工的生活
B. “三农问题”积重难返,城乡差距日益扩大,进城农民工生活艰难
C. 文学创作关于农民进城故事的叙述,有利于引起社会对他们的关注
D. 关于进城农民工的文学创作,不应局限于简单的价值判断

27. 《竹书纪年》的整理者也受到后世的一都独尊制度和思想的影响,在整理此书时,有意删掉了一些不符合“更不徙都”的材料。然而这样删削,却为人们廓清那些本来就不易弄清的遥远的历史问题带来了更多的麻烦。幸好有一些文献,特别是《括地志》又将“更不徙都”以外的一些材料拾掇起来,乍看上去这些材料是相互矛盾的,实质上却是客观事实的反映。对这段话的主旨概括最恰当的一项是()。

- A. 《竹书纪年》并不是一部完整意义上的史书,因此它隐瞒了一些事实
B. 史书中关于一些历史事实的记载往往自相矛盾
C. 不同史书之间的交叉验证有助于我们发掘历史的真相
D. 封建独尊制度的流毒贻害至今,对于考古学是一个严峻的挑战

28. 英特尔表示,其新一代处理器已经不再使用铅作为原料,预计到 2008 年将停止使用卤素。通过这些举措,英特尔处理器对于环境的危害将大大降低。英特尔新型处理器的一个最大特点是采用了铪,可以有效地解决电泄漏的问题,使处理器功耗效率提升了 30%。随着晶体管的体积不断缩小,电泄漏也更加严重,导致处理器发热和功能过大的问题日益突出。从某种程度上讲,电泄漏已经成为阻碍处理器性能进一步提升的瓶颈。对这段话的主要意思概括最恰当的一项是()。

- A. 英特尔公司已经成功开发出了解决电泄漏问题的新技术
B. 电泄漏问题是处理器生产过程中亟待解决的瓶颈问题



- C. 随着晶体管体积的不断缩小,处理器的发热和功耗问题将越来越严重
- D. 英特尔公司的新一代处理器应用了新材料,不仅更加环保,而且提升了功率

29. 面对心理辅导与治疗的本土化,我们要对西方的理论存有一种开明的态度,迫切的问题是:我们如何以实证方式如结果研究,来检验有关理论在中国人中之有效性,然后去芜存菁。同时,通过吸收、借鉴外国的理论和方法,发展或创造出适合中国文化和中国人特点的心理辅导和治疗体系。对这段话的主要意思概括最恰当的一项是()。

- A. 心理学是一门因人而异、因材施教的学科
- B. 我们迫切需要用实证方式来验证西方心理辅导与治疗理论的科学性
- C. 心理辅导与治疗的本土化目标的实现,要建立在对外方理论去伪存真和自主创新的基础上
- D. 尽可能开明地对待西方理论,海纳百川,博采众长,方能实现心理辅导与治疗的本土化

30. 伏尔泰以天纵之资,博览群书,吃掉了的东西自己加以消化,作为营养,为他的“理性哲学”服务。伏尔泰涉猎的诸“家”当中,中国只是不很重要的“一家”,并不是“情有独钟”;用显微镜把它单挑出来像“特写镜头”一样放大,那不是“幻觉”,也是“错觉”。这段文字主要说明()。

- A. 伏尔泰用中国素材为其“理性哲学”服务
- B. 中国素材在伏尔泰的哲学体系中占重要地位
- C. 夸大中国因素在伏尔泰哲学体系中的作用是不对的
- D. 伏尔泰用“特定镜头”的方式来描绘中国

31. 过去有人认为,犯罪是因为罪犯心理不健全或对社会感到疏离等原因而从事犯罪行为,因此不能凭借惩罚来阻止。不过,从微观经济学的角度来看,多数罪犯都会根据自己的情况来做理性选择。这种分析方法对于公共政策的制定和司法审判都形成了相当程度的影响。现在,如果法官和立法者对犯罪采取宽松的态度,就会引起民众强烈不满。由此可见,很多人也开始从微观经济学的角度来诠释犯罪行为了。这段话表达的主要意思是()。

- A. 大多数罪犯都是理性的
- B. 心理性或社会性因素是犯罪的主要原因
- C. 微观经济学改变了很多人对犯罪的看法
- D. 用微观经济学诠释犯罪行为更为科学

32. 民族主义曾经是社会争取统一与独立的现代化力量,而今一旦立国成功,却很容易变成一种保守压迫的力量。几乎没有政治领袖具有这样的见识:将其国民的需要置于国家目标之上,而常常是实现现代化的手段本身变成了目的。对这段文字理解不正确的是()。

- A. 民族主义是一把双刃剑
- B. 民族主义具有保守与压迫的本质属性
- C. 有远见的政治家会将国民的需要置于重要地位
- D. 在现代国家的建立过程中,民族主义起过积极性作用

33. 人们试图去预测世界发展线路或寻求过分简化及单向的解决办法,对此我们都应保持怀疑的态度,因为世界形势极其复杂。发展趋势分析则在我们展望未来时提供了一种更为错综复杂的观点,使我们集中关注所要面临的决策分析。对这段文字理解正确的是()。

- A. 发展趋势分析在一定程度上能避免简单化的倾向



- B. 简单化的思维对认清世界发展路线是毫无意义的
- C. 发展趋势分析是一种精确的趋势预测方法
- D. 鉴于世界形势的极端复杂性,预测发展趋势是徒劳的

34. 传统的道德是对应着较单纯的生活和与人际关系结合密切的小组织产生的,道德教化在生活单纯的小组织里还能发挥作用。但在高度复杂化的现代社会,如果把人的爱心和慷慨,仅由面对面的方式表现,把移风易俗的重任仅寄望于少数有德者,很难想象这个社会会变成个什么样子。根据这段文字,理解错误的是()。

- A. 道德是在一定的环境中产生并发挥作用的
- B. 道德教化在传统社会中具有积极功能
- C. 在现代社会发扬传统道德是一件非常困难的事情
- D. 道德教化在现代社会的功能趋于式微

35. 2001年,占世界人口4.68%的美国人消耗了世界卫生资源的46.7%,人均卫生费用支出4873美元;占世界人口0.5%的加拿大也消耗了2.22%的世界卫生资源。美、加两国的卫生资源可谓充足,但是调查显示,当时还有13%的美国人、11%的加拿大人没有享受到必需的卫生服务。在美国,53%的医疗需求未得到满足者认为,这主要是由于费用过高导致的,在加拿大,32%的未满足者认为,等候时间过长是主要原因。作者通过这段文字最有可能想说明的观点是()。

- A. 不能笼统地将未满足需求作为卫生资源总量供给不足的根据
- B. 发达国家消耗了世界上大部分的卫生资源
- C. 美、加两国的卫生水平高,卫生资源总量充足
- D. 世界各国占有与消耗的卫生资源是极不均衡的

36. 传统凯恩斯主义的缺陷、新古典主义的成效与失误启发了一些学者构建微观基础的宏观经济学,并另辟蹊径地对劳动力市场与产品市场进行实证分析,以期解释宏观失业与经济波动的原因。他们以工资、价格刚性和非市场出清假设取代新古典主义的工资、价格灵活性和市场出清假设,并把它结合到宏观产量与就业决定理论中而得出凯恩斯主义结论,这样就产生了新凯恩斯主义。对以上文字理解正确的一项是()。

- A. 新古典主义的成效与失误是宏观经济学的基础
- B. 微观基础的宏观经济学的突破在于对劳动力市场和产品市场的实证分析
- C. 新凯恩斯主义就是以工资、价格刚性和非市场出清假设取代新古典主义的假设
- D. 工资、价格灵活性和市场出清假设也许是新古典主义的成效与失误所在

37. 将传统节日纳入国家法定节日,体现的是对中国传统文化的尊重和回归。中国传统文化是我们精神家园的重要组成部分。但是这些年来,一些“洋节”越来越成为时尚,传统节日反倒有被人们,特别是青年人淡忘的趋势。下列不符合文意的一项是()。

- A. 作者支持将传统节日纳入国家法定节日的做法
- B. 传统节日是中国传统文化的重要组成部分
- C. 一些“洋节”越来越成为时尚,大部分青年人已经淡忘了传统节日
- D. 将传统节日纳入国家法定节日可以唤起大家对传统文化的重视

38. 在一个低气压的时代,水土特别不相宜的地方,谁也不存什么幻想,期待文艺园地里会有奇花异卉探出头来。然而天下比较重要的一些事故,往往在你冷不防的时候出现。史家或社会学家,会用逻辑来证明,偶发的事故实在是酝酿已久的结果。但没有这种分析头脑的大



众,总觉得世界上真有魔术棒似的东西在指挥着,每件新事故都像从天而降,教人无论悲喜都有些措手不及。张爱玲女士的作品给予读者的第一个印象,便有这情形。对这段话理解不正确的一项是()。

- A. 张爱玲作品的问世在当时社会背景下是一个特例
- B. 在文艺园地里奇花异卉的出现是不能用科学和逻辑来解释的
- C. 大众对于张爱玲作品问世的感觉是太突兀、太奇迹
- D. 张爱玲作品的问世并不是偶然的,存在一定的必然性

39. 我不幸偶尔看了一本外国的讲论儿童的书,才知道游戏是儿童最正当的行为,玩具是儿童的天使。于是20年来毫不忆及的幼小时候对于精神的虐杀的这一幕,忽地在眼前展开,而我的心仿佛也同时变成了铅块,很重很重地堕下去了。但心又不竟坠下去而至于断绝,他只是很重很重地坠着,坠着。我也知道补过的方法的:送他风筝,赞成他放,劝他放,我和他一同。我们嚷着,跑着,笑着。——然而他其实已经和我一样,早已有了胡子了。下列不能从这段话中得出的一项是()。

- A. “我”曾经阻止过“他”正当的游戏行为
- B. “我”为自己20年前的愚蠢行为感到愧疚
- C. 20年后“我”的忏悔对于“他”已无实际意义
- D. “我”在小时候也没放过风筝

40. 以下各句中,加下划线的词语使用恰当的一项是()。

- A. 在原则问题上,党员干部应该有自己的立场,采取似是而非的态度是极不负责任的。
- B. 王刚任公司经理以来,公司的业绩一落千丈,员工的工资福利待遇也越来越差,这次他被免职,实在是人心所向。
- C. 在世界杯决赛前夕,面对部分足球流氓的过激行为,英国警方以暴易暴,逮捕了五名带头制造事端的不法分子。
- D. 孙明利用业余时间创作的油画获得了国际大奖,面对记者的采访,他谦虚地说自己只是略通一二,远远谈不上登堂入室。

41. 以下各句中,加下划线的词语使用不恰当的一项是()。

- A. 习习的风轻掠过河面,微波粼粼,投射到长廊斑驳的白墙上,竟是我说不出的美轮美奂。
- B. 但近来作文,避忌已甚,有时骨鲠在喉,不得不吐,遂亦不免为人所憎。
- C. 一个腐败分子被查办了,固然是咎由自取,人们会拍手称快,但同时更应引起有关部门深刻的反思。
- D. 冤案一再发生,而又迟迟没有体制上和制度上的进一步完善,这恐怕正说明了,我们的反思多属于文过饰非。

42. 下列各句中,句意明确,没有语病的一句是()。

- A. 在适当的阶段对所学知识进行及时的总结,是李波同学取得优异成绩的一条成功经验。
- B. 《哈利波特》这部科幻大片对我来说有较大的兴趣
- C. 一则小品的好坏,不仅在于构思的巧妙,语言的诙谐幽默,还要考虑观众的文化背景和历史传统。



D. 在市场取向的社会环境中,借由文化创意产业发展不那么庸俗化和低劣的产品,早已不是一件令人大惊小怪的事。

43. 下列各句中,句意明确,没有语病的一项是()。

A. 美国哈佛大学一位名叫理查德·哈斯的天体物理学家和一位地质学专家领导的科研小组正在对一块陨石进行研究。

B. 在世界主要文明中,唯有日耳曼民族的起源不详,他们确切的史料起始于纪元前半个世纪罗马人的征讨。

C. 刚发行的这期《老年周刊》,以大约一半的篇幅,对老年人关注的饮食问题进行了重点采访和报道。

D. 为和平解决朝鲜核问题,目前国际社会正采取了多种措施协力斡旋调解。

44. 下列各句中,有语病的一句是()。

A. 众所周知,房地产行业是个资源消耗型行业,对土地、水泥、钢铁消耗巨大,同时它也是一个资本密集型行业,对利率比较敏感。

B. 农业、农村和农民问题,是关系全面建设小康社会和现代化事业全局的重大问题。

C. 某些司法部门的这种做法不利于公民宪法权利的保护,也不利于宪法作为国家根本大法的最高权威。

D. 今年是本届政府任期的最后一年,我们要以更加昂扬的精神状态,努力把各项工作做得更好,向人民交出满意的答卷。

45. 我们的纪录片的问题,_____手法上的落后_____对现实关注得少,_____缺乏深度、缺乏对社会人文主题的深度开采,缺乏用影像来表达一个比较深刻和开放性话题的能力,正是这一点使当代纪录片在整体上缺乏厚度和广度。填入横线部分最恰当的一项是()。

A. 在于 而不是 或是 B. 在于 和 而不是

C. 不在于 或是 而是 D. 不在于 且 因而

46. 该书的资料来源显得有些杂乱,编辑也比较粗糙,但整本书却_____了一个清晰的大主题:提倡一种生活情调和处世哲学。填入横线部分最恰当的一项是()。

A. 贯穿 B. 隐藏

C. 体现 D. 蕴含

47. 影片《大国崛起》讲述了一个新的历史叙事,它关注不同的大国在不同历史时期“崛起”的原因,以开放和坦然的心态直面那些过去被_____的历史。填入横线部分最恰当的一项是()。

A. 赞扬、肯定,甚至奉为教条 B. 扬弃、赞美,甚至视为真理

C. 批判、避讳,甚至遗忘 D. 忽视、避讳,甚至批判

48. 再卑微的人也有不容他人_____的自尊。填入横线部分最恰当的一项是()。

A. 猥亵 B. 亵渎 C. 侵犯 D. 干涉

49. 自张爱玲在大洋彼岸以自己独特的方式_____告别人世至今,张爱玲研究已经_____,海峡两岸三地出版的张爱玲传记、张爱玲研究专著和张爱玲评论汇编接连不断。填入横线部分最恰当的一项是()。

A. 悄然 蔚为大观 B. 悄悄 汗牛充栋

C. 悄然 汗牛充栋 D. 悄悄 蔚为大观



50. 将下列词语依次填入横线处,最恰当的一组是()。

① 他家的宠物狗贝贝可难_____了,像小孩一样爱挑食。

② 在韩剧《渊盖苏文》里,唐太宗被弓箭射成了独眼龙,很明显_____了我国历史,颠倒黑白。

③ 现代大部分国家都认同_____的重要,虽然它们产生法律、立法代表的方法不太相同,它的好处在于能防止由特定的个人凌驾法律而伤害其他大多数人的利益。

A. 伺候 篡改 法治

B. 侍候 篡改 法制

C. 伺候 窜改 法制

D. 侍候 窜改 法治

51. 小说只是小说,文学只是文学,既不当误认作一部历史,亦不当误认作一篇科学的论文。对于文艺,除掉_____以外,不妨作一种研究;但这种研究,不当为历史的或科学的,只是趣味的研究。填入横线部分最恰当的一项是()。

A. 欣赏

B. 口味

C. 鉴赏

D. 评论

52. 都说眼下属于图像时代。且不说电视、电影、光盘等_____着文化消费和阅读走向,单单老照片、老漫画、老插图等等历史陈迹的_____,便足以表明人们已不再满足于在文字里感受生活,感受历史了。填入横线部分最恰当的一项是()。

A. 引领 席卷而来

B. 引导 沉渣泛起

C. 主导 异军突起

D. 引领 纷至沓来

53. 晚清的新学之士,提及开通民智,总是首推报馆与学校。两者同为“教育人才指导”、“传播文明”之“利器”,却因体制及利益不同,无法_____。填入横线部分最恰当的一项是()。

A. 珠联璧合

B. 相辅相成

C. 相得益彰

D. 取长补短

54. 卢梭在《爱弥尔》的序文中说:“大人常在孩子中求大人,他们不想一想,未成大人时的孩子是什么样子的?”这句话的意思是说,大人因为不理解孩子,而强迫孩子照大人的样子做人,这是目前儿童教育的_____。填入横线部分最恰当的一项是()。

A. 病根

B. 症状

C. 困境

D. 趋势

55. 宋代周守中的《养生类纂》载有:“沟渠通浚,屋宇洁净无移气,不生瘟疫病。”古代的中国政府对于沟渠的通塞也很注意,每逢雨季之前,就命水利官员加以_____以免泛滥。填入横线部分最恰当的一项是()。

A. 整治

B. 疏浚

C. 疏导

D. 疏通

第三部分 判断推理

(共 35 题,参考时限 30 分钟)

本部分包括四种类型的试题:

一、图形推理:包括两种类型的题目,共 10 题。


1. 每道题目的左边 4 个图形呈现一定的规律性。根据这种规律,你需要在右边所给出的



备选答案中选出一个最合理的正确答案。每道只有一个正确答案。

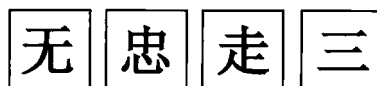
请开始答题：

56.



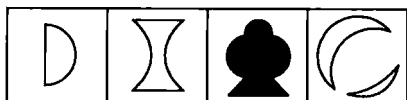
A. B. C. D.

57.



A. B. C. D.

58.




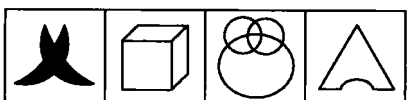
A. B. C. D.

59.



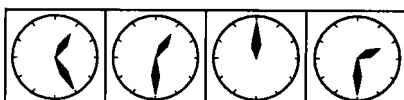
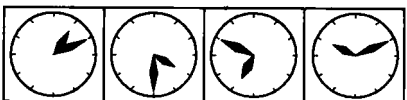
A. B. C. D.

60.



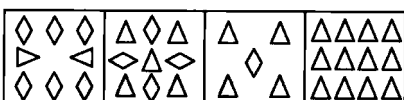
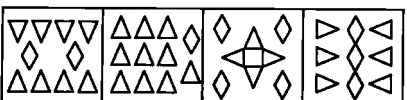
A. B. C. D.

61.



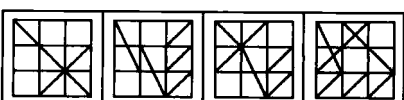
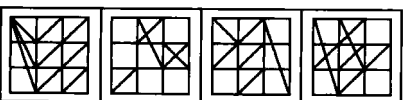
A. B. C. D.

62.



A. B. C. D.

63.



A. B. C. D.