

2009年

国家公务员录用考试专用教材

浙江、江苏公务员录用考试 历年真题汇编及答案精解

李永新◎主编

- ★ 收录真题最多
- ★ 包含题型最全
- ★ 优化答题思路
- ★ 点拨解题技巧



法律出版社
LAW PRESS · CHINA

2009 年国家公务员录用考试专用辅导教材(地方卷)

浙江、江苏公务员录用考试 历年真题汇编及答案精解

(含 2008 年最新真题)

主 编 李永新
撰稿人 李永新 张永生 邓湘树
宋 震 王学永 包新宇
吴鸿民 李 鹏 宋英超
高富锋 李 林 许 华

出版/法律出版社
总发行/中国法律图书有限公司
印刷/北京中科印刷有限公司

开本/787×1092 毫米 1/16
印本/2008 年 4 月第 1 版

法律出版社·北京市丰台区莲花池西里 7 号(100073)
电子邮箱/inf@lawpress.com.cn
网址/www.lawpress.com.cn

中国法律图书有限公司·北京市丰台区莲花池西里 7 号(100073)
全国法律图书总发行/子公司电话:

第一发行所/010-63939781/9782 西安分公司/029-85338845 重庆分公司/023-63733446
上海分公司/021-63192968 深圳分公司/0755-83595953

法律出版社

邮发/ISBN 978-7-5036-8334-3

封面设计/乔新宇
编辑统筹/沈丹丹/法律出版社
经销/新华书店
责任编辑/王 磊

印张/25 字数/580千字
印次/2008 年 4 月第 1 次印刷

销售热线/010-63939782/9783
咨询电话/010-63939786

中国法律图书有限公司·北京市丰台区莲花池西里 7 号(100073)

西安分公司/029-85338845 重庆分公司/023-63733446
上海分公司/021-63192968 深圳分公司/0755-83595953

定价:50.00 元

图书在版编目(CIP)数据

浙江、江苏公务员录用考试历年真题汇编及答案精解/
李永新主编. —北京:法律出版社,2008.8
2009年国家公务员录用考试专用辅导教材
ISBN 978-7-5036-8704-4

I. 浙… II. 李… III. 公务员—招聘—考试—
中国—解题 IV. D630.3-44

中国版本图书馆CIP数据核字(2008)第119081号

©法律出版社·中国

责任编辑/张瑞珍

装帧设计/乔智炜

出版/法律出版社

编辑统筹/法律考试出版分社

总发行/中国法律图书有限公司

经销/新华书店

印刷/北京中科印刷有限公司

责任印制/沙磊

开本/787×1092毫米 1/16

印张/28 字数/788千

版本/2008年8月第1版

印次/2008年8月第1次印刷

法律出版社/北京市丰台区莲花池西里7号(100073)

电子邮件/info@lawpress.com.cn

销售热线/010-63939792/9779

网址/www.lawpress.com.cn

咨询电话/010-63939796

中国法律图书有限公司/北京市丰台区莲花池西里7号(100073)

全国各地中法图分、子公司电话:

第一法律书店/010-63939781/9782 西安分公司/029-85388843 重庆公司/023-65382816/2908

上海公司/021-62071010/1636 北京分公司/010-62534456 深圳公司/0755-83072995

书号:ISBN 978-7-5036-8704-4

定价:50.00元

(如有缺页或倒装,中国法律图书有限公司负责退换)

编者说明

浙江、江苏两省公务员考试的科目较多,考试题型变化丰富,考试的综合难度较大。尤其最近几年,这种逐步加大难度的趋势更为明显。并且各省的公务员考试题型大致相同,命题特点及内容相互借鉴,为了使更多的考生能够系统、全面地了解浙江、江苏两省考题的情况,我们组织公务员考试实战专家,精心编写了《浙江、江苏公务员录用考试历年真题汇编及答案精解》。第六部分着重讲解了2008年真题。本书特点如下:

【专家编写】 本书由多次参加公务员考试,具有丰富实战经验的考试实战专家编写。考试实战专家从考生作答角度全面分析题型特点、命题思路及解答过程,会使考生真正了解作答过程,快速提高成绩。

【内容最全】 本书收录了近几年浙江与江苏国家公务员考试行政职业能力测验真题、申论真题、公共基础知识真题、专业知识、面试真题,是目前收录真题数量最多、最全的浙江、江苏两省的备考用书。

【答案精准】 答案参照人事部门相关标准答案,并由多名考试专家反复论证,可确保答案的精确性。

【解析最详】 本书的真题解析与其他辅导资料只进行简单的提示不同,而是对真题进行了全面、深入、细致的解析,以使读者能真正举一反三,触类旁通。

本书虽长期打造,精心准备,但不免有疏漏之处,也请广大读者批评指正。

编者
2008年8月

目 录

第一部分 行政职业能力测验

2007年浙江省录用国家公务员和机关工作人员考试《行政职业能力倾向测验》试卷	(1)
参考答案及解析	(16)
2006年浙江省录用国家公务员和机关工作人员考试《行政职业能力倾向测验》试卷	(22)
参考答案及解析	(39)
2005年浙江省录用国家公务员和机关工作人员考试《行政职业能力倾向测验》试卷	(45)
参考答案及解析	(62)
2004年浙江省党政机关录用国家公务员和机关工作人员考试《行政职业能力倾向测验》试卷	(70)
参考答案及解析	(86)
2003年浙江省录用国家公务员和机关工作人员考试《行政职业能力倾向测验》试卷	(92)
参考答案及解析	(106)
2007年江苏省录用国家公务员和机关工作人员考试《行政职业能力倾向测验》试卷	(111)
参考答案及解析	(127)
2006年江苏省录用国家公务员和机关工作人员考试《行政职业能力倾向测验》试卷	(133)
参考答案及解析	(148)
2005年江苏省录用国家公务员和机关工作人员考试《行政职业能力倾向测验》(A类)试卷	(154)
参考答案及解析	(169)
2004年江苏省录用国家公务员和机关工作人员考试《行政职业能力倾向测验》(A类)试卷	(174)
参考答案及解析	(190)
2004年江苏省录用国家公务员和机关工作人员考试《行政职业能力倾向测验》(B类)试卷	(196)
参考答案及解析	(211)

第二部分 申 论

2007年浙江省录用国家公务员和机关工作人员考试《申论》试卷	(216)
参考答案及解析	(220)
2006年浙江省录用国家公务员和机关工作人员考试《申论》试卷	(222)
参考答案及解析	(226)
2005年浙江省录用国家公务员和机关工作人员考试《申论》试卷	(228)
参考答案及解析	(231)

2004 年浙江省党政机关录用国家公务员和机关工作人员考试《申论》试卷	(233)
参考答案及解析	(235)
2003 年浙江省录用国家公务员和机关工作人员考试《申论》试卷	(237)
参考答案及解析	(239)
2002 年浙江省录用国家公务员和机关工作人员考试《申论》试卷	(241)
参考答案及解析	(243)
2001 年浙江省录用国家公务员和机关工作人员考试《申论》试卷	(245)
参考答案及解析	(247)
2007 年江苏省录用国家公务员和机关工作人员考试《申论》试卷	(249)
参考答案及解析	(255)
2006 年江苏省录用国家公务员和机关工作人员考试《申论》试卷	(257)
参考答案及解析	(263)
2005 年江苏省录用国家公务员和机关工作人员考试《申论》试卷	(265)
参考答案及解析	(268)
2004 年江苏省录用国家公务员和机关工作人员考试《申论》试卷	(270)
参考答案及解析	(273)

第三部分 公共基础知识

2005 年江苏省录用国家公务员和机关工作人员考试《公共基础知识》(A类)试卷	(275)
参考答案及解析	(285)
2005 年江苏省录用国家公务员和机关工作人员考试《公共基础知识》(B类)试卷	(291)
参考答案及解析	(300)

第四部分 专业知识

2005 年浙江省录用国家公务员和机关工作人员考试《行政管理专业知识》试卷	(307)
参考答案及解析	(313)
2005 年浙江省录用国家公务员和机关工作人员考试《法律专业知识》试卷	(317)
参考答案及解析	(324)
2005 年浙江省录用国家公务员和机关工作人员考试《计算机专业知识》试卷	(331)
参考答案及解析	(336)

第五部分 面试

2006 年 3 月浙江省宁波市公务员考试面试试题	(340)
2006 年 4 月浙江省省级机关公务员考试面试试题	(341)
2005 年浙江省省级机关公务员考试面试试题	(343)
2004 年浙江省公务员考试面试试题	(345)
2006 年 5 月江苏省公务员考试面试试题	(350)
2005 年 5 月江苏省公务员考试面试试题	(351)

第六部分 2008 年真题集锦

2008 年浙江省录用国家公务员和机关工作人员考试《行政职业能力倾向测验》试卷	(353)
参考答案及解析	(370)
2008 年江苏省录用国家公务员和机关工作人员考试《行政职业能力倾向测验》(A 类)试卷	(383)
参考答案及解析	(398)
2008 年浙江省录用国家公务员和机关工作人员考试《申论》试卷	(405)
参考答案及解析	(410)
2008 年江苏省录用国家公务员和机关工作人员考试《申论》试卷	(414)
参考答案及解析	(420)
2008 年江苏省录用国家公务员和机关工作人员考试《公共基础知识》(A 类)试卷	(422)
参考答案及解析	(431)

第一部分 行政职业能力测验

2007年浙江省录用国家公务员和机关工作人员 考试《行政职业能力倾向测验》试卷

说明

这项测验共有五个部分,125道题,总分为120分。时限120分钟。各部分不分别计时,但都给出了参考时限,供你参考以分配时间。

请在题本和答题卡上严格按照要求填写自己的姓名、涂写准考证号。

请仔细阅读下面的注意事项,这对你获得成功非常重要。

1. 题目应在答题卡上作答,在这份题本上作答无效。
2. 你可以在此题本的空隙处打草稿。
3. 监考人员宣布考试开始后,你才可以开始答题。
4. 监考人员宣布考试结束时,你应立即放下铅笔,停止答题。
5. 考试结束后,当你将题本、答题卡交给监考人员时,请让监考人员在你的准考证上签名,以证明你确已将题本和答题卡交给监考人员。否则,答题本、答题卡遗失,由你承担责任。监考人员签名后,你才可离开考场。
6. 在这项测验中,可能有一些试题是很容易的,但任何人都很难答对所有的题目。因此不要在一道题上思考时间太久,遇到不会答的题目,可先跳过去。待答完了那些容易的题目后,如果有时间再去思考,否则,你可能没有时间去答后面的更容易的题目。试题答错不倒扣分,因此你可以根据猜测来回答那些没有把握的题目。
7. 特别提醒你注意,填涂答案时一定要认准题号。严禁折叠答题卡!

第一部分 数量关系

(共25题,参考时限30分钟)

本部分包括两种类型的试题:

一、数字推理:共10题。给你一个数列,但其中缺少一项,要求你仔细观察数列的排列规律,然后从四个选项中选出最符合规律的一项来填补空缺项。

请开始答题:

1. 0.5 2 $\frac{9}{2}$ 8 ()

A. 12.5 B. $\frac{27}{2}$ C. $14\frac{1}{2}$ D. 16

2. 100 8 1 $\frac{1}{4}$ ()

A. $\frac{1}{4}$ B. $\frac{1}{12}$ C. $\frac{1}{20}$ D. $\frac{1}{32}$

3. 85 52 () 19 14

A. 28 B. 33 C. 37 D. 41

4. 1 6 30 () 360
A. 80 B. 90 C. 120 D. 140
5. 0 9 26 65 () 217
A. 106 B. 118 C. 124 D. 132
6. 243 217 206 197 171 () 151
A. 160 B. 158 C. 162 D. 156
7. 36 24 () $\frac{32}{3}$ $\frac{64}{9}$
A. $\frac{431}{27}$ B. $\frac{140}{9}$ C. $\frac{49}{3}$ D. 16
8. 5 7 4 9 25 ()
A. 168 B. 216 C. 256 D. 296
9. () 35 63 80 99 143
A. 24 B. 15 C. 8 D. 1
10. 3 18 60 147 ()
A. 297 B. 300 C. 303 D. 307

二、数学运算：共 15 题。每道试题呈现一道算术式，或表述数字关系的一段文字或几何图形，要求你迅速、准确地计算或论证出答案。

请开始答题：

11. $1^{2007} + 3^{2007} + 5^{2007} + 7^{2007} + 9^{2007}$ 的值的个位数是：
A. 5 B. 6 C. 8 D. 9
12. 把圆的直径缩短 20%，则其面积将缩小：
A. 40% B. 36%
C. 20% D. 18%
13. 小张在做一道除法题时，误将除数 45 看成 54，结果得到的商是 3，余数是 7。问正确的商和余数之和是：
A. 11 B. 18 C. 26 D. 37
14. 把自然数 1, 2, 3, 4, 5, …, 98, 99 分成三组，如果每组数的平均数恰好相等，那么此平均数为：
A. 55 B. 60 C. 45 D. 50
15. 某部队战士排成了一个 6 行、8 列的长方形阵。现在要求各行从左至右 1, 2, 1, 2, 1, 2, 1, 2 报数，再各列从前到后 1, 2, 3, 1, 2, 3 报数。问在两次报数中，所报数字不同的战士有：
A. 18 个 B. 24 个
C. 32 个 D. 36 个

16. 同时扔出 A、B 两颗骰子（其六个面上的数字都为 1, 2, 3, 4, 5, 6），问两颗骰子出现的

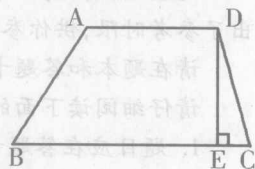
数字的积为偶数的情形有几种？

- A. 27 种 B. 24 种
C. 32 种 D. 54 种

17. A、B 两地相距 100 公里，甲以 10 千米/小时的速度从 A 地出发骑自行车前往 B 地。6 小时后，乙开摩托车从 A 地出发驶向 B 地。问为了使乙不比甲晚到 B 地，摩托车每小时至少要行驶多少千米？

- A. 24 千米 B. 25 千米
C. 28 千米 D. 30 千米

18. 如图所示，梯形 ABCD，AD // BC，DE ⊥ BC，现在假设 AD、BC 的长度都减少 10%，DE 的长度增加 10%，则新梯形的面积与原梯形的面积相比，会怎样变化？

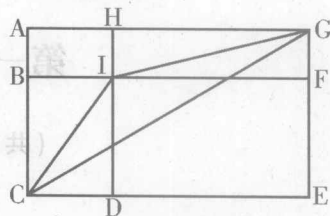


- A. 不变
B. 减少 1%
C. 增加 10%
D. 减少 10%

19. 某单位实行五天工作制，即星期一至星期五上班，星期六和星期日休息。现已知某月有 31 天，且该单位职工小王在该月休息了 9 天（该月没有其他节日），则这个月的六号可能是下列四天中的哪一天？

- A. 星期五 B. 星期四
C. 星期三 D. 星期一

20. 如图所示，长方形 ACEG 被线段 BF、HD 分成四个大小不等的小长方形。已知 AH 为 6cm，GF 为 3cm，DE 为 10cm，BC 为 7cm。则三角形 ICG 的面积为：



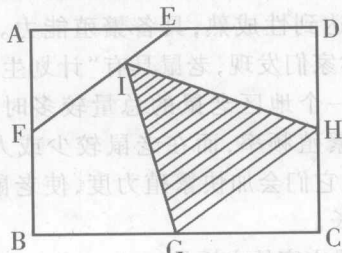
- A. 32cm^2 B. 28cm^2
C. 30cm^2 D. 26cm^2

21. 某代表团有 756 名成员，现要对 A、B 两议案分别进行表决，且他们只能投赞成票或反对票。已知赞成 A 议案的有 476 人，赞成 B 议案的有 294 人，对 A、B 两议案都反对的有 169 人。则赞成 A 议案且反对 B 议案的有：

- A. 293 人 B. 297 人

- C. 302 人 D. 306 人

22. 如图所示,矩形 ABCD 的面积为 1, E、F、G、H 分别为四条边的中点, FI 的长度是 IE 的两倍,问阴影部分的面积为多少?



- A. $\frac{1}{3}$ B. $\frac{1}{4}$ C. $\frac{5}{16}$ D. $\frac{7}{24}$

23. 先将线段 AB 分成 20 等分,线段上的等分点用“ Δ ”标注,再将该线段分成 21 等分,等分点用“O”标注(AB 两点都不标注),现在发现“ Δ ”和“O”之间的最短处为 2 厘米,问线段 AB 的长度为多少?

第二部分 言语理解与表达

(共 30 题,参考时限 25 分钟)

每道题包含一段话或一个句子,后面是一个不完整的陈述,要求你从四个选项中选出一个来完成陈述。注意:答案可能是完成对所给文字主要意思的提要,也可能是满足陈述中其他方面的要求,你的选择应与所提要求最相符合。

请开始答题:

26. 边沁认为,动机和意图作为行为过程中的两个因素,其道德价值要通过行为结果表现出来。动机并非毫无作用,有动机才有意图,有意图才能发生行为,有行为才会产生结果,但动机和意图的好坏不取决于主观的道德动机,而是要看它们带来的行为结果。

对这段文字理解正确的是:

- A. 人的道德品质可以从行为上来判断
B. 动机和意图具有独立的道德价值
C. 动机和意图的好坏依行为结果的好坏而定
D. 动机和意图的依据不存在于客观效果

- A. 2460 厘米 B. 1050 厘米

- C. 840 厘米 D. 680 厘米

24. 林子里有猴子喜欢吃的野果,23 只猴子可以在 9 周内吃光,21 只猴子可以在 12 周内吃光,问如果有 33 只猴子一起吃,则需要几周吃光?(假定野果生长的速度不变)

- A. 2 周 B. 3 周

- C. 4 周 D. 5 周

25. 某工程由小张、小王两人合作刚好可以在规定的时间内完成。如果小张的工作效率提高 20%,那么两人只需用规定时间的 $\frac{9}{10}$ 就可完成工程;如果小王的工作效率降低 25%,那么两人就需延迟 2.5 小时完成工程。问规定的时间是:

- A. 20 小时 B. 24 小时

- C. 26 小时 D. 30 小时

中,而存在于主观领域
27. 因为存在城乡二元结构,同样的经济收入,在城市生活十分艰难,而在农村却可能过得舒适。城市是市场化的,而农村却有相当部分非市场因素存在。总体来讲,进城农民工愿意接受很低的工作报酬,就是因为农村生产劳动力的成本比城市低。这也使中国从全球化中获得很多利益。

这段文字意在说明:

- A. 中国从全球化中获得好处的根本原因
B. 我国城乡二元结构的存在具有一定的合理性
C. 缩小城乡贫富差距,是推进我国城市化建设的必要条件
D. 建设社会主义新农村,必须打破城乡二元结构

28. 政策和制度在相当程度上带有人们的主观意志,或者说是人们意志作用的结果。因此在宏观经济管理过程中,行政调节方法

运用得是否合理和科学,主要取决于人们主观上对客观事物的认识是否正确,取决于人们对客观规律和复杂的经济活动的了解和掌握程度。

这段文字的主旨是:

- A. 行政调节方法在宏观经济管理中的局限性
- B. 政策和制度在制定过程中存在不科学性
- C. 应该用经济和法律等其他调节方法取代行政调节方法
- D. 政策和制度的正确与否,取决于其制定者的主观因素

29. 关联交易和资金转移在其他国家是明令禁止的,而在中国,借壳上市却成了许多人股市淘金的捷径。如果上市是为企业筹集资金,借壳也无可指责。然而,看多了像蓝田这样的皮包公司的伎俩,我们不能不对股市上的概念打上几个问号。

下列陈述,不能从文意中得出的是:

- A. 通过借壳上市的方法可以为企业筹集资金
- B. 为企业筹集资金不是皮包借壳上市的真正目的
- C. 关联交易和资金转移在我国常有发生
- D. 中国在现阶段应该取消借壳上市的做法

30. 世界自然基金会的报告显示,如今生物物种消亡的速度比以往任何时候都快。目前非洲有 13000 头犀牛,而原先在这片大陆上,这种庞然大物的数目曾达到 100 万头。在非洲,河马的数量下降了 95%,现在那里只有 1300 头河马,而在 30 年前,这种厚皮动物的数量达到 29000 头。每年至少有 800 头河马的牙齿和肉在非洲被交易。

对这段话的理解正确的是:

- A. 世界自然基金会的主要职能是关注和保护地球生物物种
- B. 在过去的 30 年中全世界河马的数量已经下降了 95%
- C. 现在,生物物种的消亡速度要大大快于其他种类的动物
- D. 人类的活动是河马数量急剧下降的主要原因

要原因

31. 据悉,一只成熟的母鼠大约 20 天左右即繁殖一次,一胎少的可生六七只、多则十来只小老鼠。而一只小老鼠出生 1.5—2.5 个月就可达到性成熟,具备繁殖能力。有趣的是,科学家们发现,老鼠具有“计划生育”的功能。当一个地区老鼠的总量较多时,老鼠会减缓其繁殖频率,而在老鼠较少或人们大举灭鼠后,它们会加快繁殖力度,使老鼠快速地产倍增长。

这段文字的主旨是:

- A. 老鼠的寿命短,因此生育周期也短
- B. 老鼠中存在着生育数量自我调节现象
- C. 老鼠的繁殖能力惊人,危害性很大
- D. 老鼠的繁殖能力取决于外界环境因素

32. 创作一首成功的(甚至伟大的)作品不必采用很强的旋律,但是动听的、容易哼唱的旋律,总会给予普通的外行听众更多的欢乐。许多没有研究或分析过音乐的人,很容易被擅长旋律的作曲家所吸引。将巴洛克时期的作曲家和 20 世纪的一些作曲家相比,古典作曲家和浪漫作曲家都使自己的旋律更容易上口,长旋律比短促的旋律容易掌握。

根据这段话,理解正确的是:

- A. 优秀的作曲家就是擅长掌握听众耳朵的作曲家
- B. 与现代作曲家相比,古典作曲家更能使自己的旋律容易上口
- C. 浪漫作曲家在作曲过程中特别擅长对短旋律的运用
- D. 社会主义制度下的音乐创作应当以大众的口味为导向

33. 欣赏是文学活动的有机组成部分,只有在欣赏过程中,作品才能获得其本质性,成为文学作品。传统文学理论忽视文学欣赏,致使文学研究难以更进一步,也阻碍了文学创作的发展。现代文学理论与传统文学理论的最大不同,就在于对文学欣赏的重视程度。可以这样说,对文学欣赏的研究,是现代文学理论的起点,现代文学理论就建立在文学欣赏理论的基础上。

根据这段话,理解最准确的是:

- A. 现代文学理论重视文学欣赏的过程

B. 文学创作是文学欣赏的前提

C. 文学欣赏是作品获得本质性的途径,它是文学活动最主要的部分

D. 文学欣赏活动的普及奠定了文学理论的基石

34. 圣婴现象是一个全球性的气候型态,每四年发生一次,每次发生大约会维持一年半左右的时间,并影响全世界的气候。据统计,在上个世纪总共发生了23次。1998年发生的圣婴现象规模甚大,当时给美国造成了洪水、农作物欠收等灾害,损失大约15亿美元。可是因为气候型态的改变却造成植物生长季节变长,冬天暖气燃油的使用量减少等情形,实际上,圣婴现象对美国经济的影响反而是净收益了150亿美元。

根据这段文字,下列理解正确的是:

A. 1998年的圣婴现象对美国造成的损失实际上远不止15亿美元

B. 圣婴现象是指上世纪的一种常见的影响面很广的气候灾害

C. 面对圣婴现象带来的灾害,1998年冬天美国公民主动减少暖气燃油的使用

D. 1998年的圣婴现象给美国带来了灾害,也带来了意外的积极效应

35. 我国现阶段发展老龄产业,不仅能够满足老年人群的特殊需要,还有利于形成新的消费热点,扩大内需,增加就业岗位,优化产业结构。同时能促进城乡协调发展和待际反馈,它将在应对人口老龄化和促进经济社会发展之间架起一座桥梁,达成双赢的局面。

对本文主旨理解最准确的是:

A. 中国社会的老龄化问题亟待解决

B. 我国老年人群的消费市场存在巨大潜力

C. 目前我国推动老龄产业发展的时机已经成熟

D. 老龄产业的发展必将在很大程度上拉动我国经济的增长

36. 二恶英是一种持久性有机污染物,目前对二恶英的治理存在各方面的难题。首先,对二恶英的检测技术要求很高,采样要求很严格,需要特殊的高灵敏检测仪器。其次,二恶英类化合物分布广泛、污染源多。垃圾焚烧是二

恶英的一个重要来源,美、日、德都有比较先进的技术来处理,如活性炭吸附、催化剂处理等,但中国目前还很少采用这些办法。作为一个发展中国家来说,污染物处理的技术和成本都是需要考虑的问题。

根据这段话,理解正确的是:

A. 技术和成本是制约我国治理二恶英污染的主要因素

B. 我国目前还不具备从环境中检测出二恶英的技术水平

C. 增加经费投入能够解决目前的问题

D. 由于分布广泛,根除二恶英污染是不可能的

37. 调查发现,现在有25%的婴儿的血液和头发中水银含量超标,有6%的母亲体内水银超出标准。研究人员说,即便鱼类所含水银量均符合安全标准,假如孕妇长期并过量食用,也会使水银经胎盘传给胎儿。由于胎儿的排泄能力较差,这样水银便很容易在其体内积聚下来,这会影响婴儿脑部的发育,造成智力发展迟缓。

根据以上文字,理解正确的是:

A. 孕妇体内的水银超标,其婴儿体内的水银肯定也超标

B. 孕妇饮食不当是造成婴儿智力发展迟缓的根本原因

C. 孕妇长期并过量食用鱼类会影响婴儿脑部发育

D. 现行的鱼类产品的水银含量安全标准是不科学的

38. 人类具有相信“自己人”的倾向,一个有经验的谈话者,总是使自己的声调、音量、节奏与对方相称,就连坐的姿势也尽力给对方在心理上有相容之感。比如,并排坐着比相对而坐在心理上更具有共同感。

这段话的主旨是:

A. 有经验的谈话者一般都比较自信,在交谈过程中能掌控局面

B. 人们总是更善于和自己熟悉的人谈话

C. 谈话过程中的坐姿与声调、音量、节奏等同样重要

D. 创造相容感能对谈话过程产生积极的作用

39. “龙”的英文“Dragon”,在西方世界被认为是一种充满霸气和攻击性的庞然大物。“龙”的形象往往让对中国历史和文化了解甚少的外国人片面而武断地产生一些不符合实际的联想。“龙”在内的一些中国形象标志也往往具有一定的局限性,容易招致误读误解或别有用心的歪曲。

这段文字最有可能是在表述:

- A. 反对“龙”作中国形象标志的理由
- B. 建议把“龙”作为中国形象的标志
- C. “龙”在西方人眼中的形象
- D. “龙”是中华民族的图腾

40. 厚重的历史文化遗产不是城市建设、城市发展的包袱,而是精神理念的载体,容易凝聚成为现代建设最大的财富。开发人的内在动力,产生文化效应,大幅度提高市民素质、各种文化形态随之融汇渗透、辐射四方。

这段话直接支持了这样一种观点,即:

- A. 物质层面的财富是城市建设可感可触的基础
- B. 历史文化景观作为城市建设的新视点的观念尚难为人们接受
- C. 文化建设是城市建设的主要组成部分
- D. 历史文化遗产有益于提升城市的精神品质和塑造城市的风貌形象

41. 当你把社会看作一个复杂的系统的时候,重视多种因素的动态协调,才会更好地促进社会的和谐。假如遇到问题,就从概念出发,进行简单的定性和判断,强求一致,非此即彼。这种思维的简单化、片面化、极端化,都与和谐社会的要求格格不入。

这段话的主旨是:

- A. 构建和谐社会需要系统思维
- B. 简单化、片面化地处理社会问题的方法是不正确的
- C. 面对复杂的问题时,我们不能简单地去做定性,简单地去做出判断
- D. “求同存异”是构建和谐社会的一个理念

42. 作为一个发展中国家,自主创新并非自己创新,更非封闭式创新。不能排斥技术引进,但技术创新能力无法通过引进直接获得,关键技术更是买不来,日本和韩国引进技术和消

化吸收费用的比例分别为1:5和1:8,而我国的比例为1:0.15。

由此可见,我国技术引进的主要问题是:

- A. 对引进技术的消化吸收和再创新不够
- B. 过分依赖技术引进,自主创新能力不强
- C. 引进先进技术的力度还不够
- D. 引进的技术并不是世界上最先进、最关键的技术

43. 下列句子中没有歧义的一项是:

- A. 他俩拿着一本书在看
- B. 居民很少发现赌博
- C. 小张到处传播小道消息
- D. 小李埋怨自己不应该

44. 下列句子中没有歧义的一项是:

- A. 需要相信自己的人
- B. 他们谁也没有干涉我的权利
- C. 任何事都要从头做起
- D. 他理解小张有困难

45. 下列句子中,句意明确,没有语病的一句是:

- A. 有极少数党组织至今仍不敢发展那些本人表现很好只是家庭出身不好的党员
- B. 该经济特区,具有较强的工业基础,具有较丰富的动植物、矿产资源
- C. 某杂志将莱卡列入了“21世纪影响人类生活的十大服装品牌”之一
- D. 国家决定免征关税和进口增值税的目的和意义,在于进一步和扩大利用外资,鼓励引进国外的先进技术和设备,促进产业结构的调整和进步

46. 下列句子中,句意明确,没有语病的一句是:

- A. 中国美院的每一个大学生将来都希望自己成为一个出色的美术家
- B. 在古代,这类音乐作品只有文字记载,没有乐谱资料,既无法演奏,也无法演唱
- C. 入世后,面对如此强大的竞争对手,通过强强联合的方式来实现文化产业的集团化,无疑是一个重要举措
- D. 我们必须拿出自己的正版计算机游戏软件,否则,拿不出新软件,就难以抵制不健康的盗版软件

47. 下列句子中标点符号使用完全正确的

一项是:

A. 许多人以为乐观主义的人不过是“嬉皮笑脸”,“随随便便”,“一切放任”,“得过且过”,“唯唯诺诺”

B. 我们要领会“俯首甘为孺子牛”这句话的深刻意义

C. 看台上,同学们一个劲地喊着:“加油”,“加油”的口号,为运动员鼓劲

D. 一个没有理想的人,不但不知道明天走到哪里?做什么?就连今天做什么?为什么要这样做?都弄不清楚

48. 下列句子中加点词语使用正确的一项是:

A. 看对方的神态,全然没有剑拔弩张、严阵以待的气势,倒有几分闲庭信步、瓜田李下话桑麻的味道

B. 胡同文化是一种封闭的文化,住在胡同里的居民大都安土重迁,不大愿意搬家

C. 这伙盗贼真是猖狂,竟然在犯罪现场就地分赃,结果被及时赶到的警察全部擒获

D. 有的人说是“反腐倡廉”,做的却是“贪污腐化”,真的令人不可理喻

49. 下列句子中加点词语使用不正确的一项是:

A. 这一套百科全书,内容涉及各个领域、各个学科,真是蔚为大观、丰富多彩

B. 她有过的胆量,且有勇有谋,任何情况下都不会畏葸不前

C. 大家议论了好久,莫衷一是,想不出好办法

D. 当代诗坛颇不景气,想起唐诗宋词的成就,不禁让人产生今非昔比的感觉

50. 他们单位办公室主任王某向来说话严谨,让人找不到_____。

填入横线部分最恰当的一项是:

- A. 南北 B. 破绽
C. 头绪 D. 弊端

51. 由于缺乏诚信,这家大商场越办越差,现在每天去那里购物的顾客_____。

填入横线部分最恰当的一项是:

- A. 寥寥无几 B. 人迹罕至
C. 熙来攘往 D. 门可罗雀

52. 人们对于蜜蜂的赞美,尤其充满_____的情趣。在思想史上、艺术史上,许许多多人都歌颂过蜜蜂。这不仅仅因为蜜蜂能够酿蜜,而且人们也能从蜜蜂酿蜜中得到_____。它能够博采,又能提炼,终于,黄澄澄、香喷喷的蜜糖给酿造出来了。它的酿蜜可以说是一种卓越的创造。

填入横线部分最恰当的一项是:

- A. 哲理 重要的启示
B. 生活 实惠的馈赠
C. 甜蜜 滋味的享受
D. 奋进 创造的幸福

53. 人文教育的重要目的在于使学生经由大学教育,能够_____纯粹功利的职业取向,_____狭隘的专业意识,从细小的专业分支中走出来。

填入横线部分最恰当的一项是:

- A. 抵制 扭转 B. 制止 克服
C. 抵制 克服 D. 制止 扭转

54. 填入下列句子中横线上词语,正确的一组是:

①相关部门多次派人来_____这个公司的财务工作,发现了许多问题。

②在我结婚的那天,妈妈拿出一个翡翠镯子给我,说那是祖上_____下来的。

- A. 检查 流传 B. 检察 流传
C. 检查 留传 D. 检察 留传

55. 五十多年后回顾这段历史,杜老依然_____ ,然而他也没有_____ 土改实施过程中的缺陷,例如消灭富农和侵犯中农,以及没有严格依法保护劳动者财产利益。

填入横线部分最恰当的一项是:

- A. 直言不讳 回避
B. 毫无隐瞒 忌讳
C. 慷慨激昂 避嫌
D. 激情满怀 避讳

第三部分 判断推理

(共 35 题, 参考时限 30 分钟)

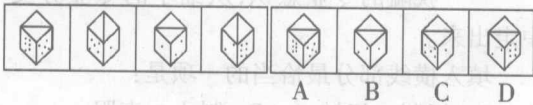
本部分包括四种类型的试题:

一、图形推理: 包括三种类型的题目, 共 10 题。

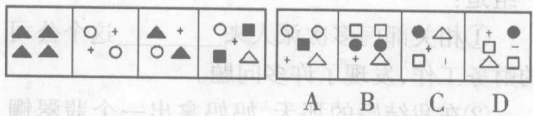
1. 每道题目的左边 4 个图形呈现一定的规律性。根据这种规律, 你需要在右边所给出的备选答案中选出一个最合理的正确答案。每道题只有一个正确答案。

请开始答题:

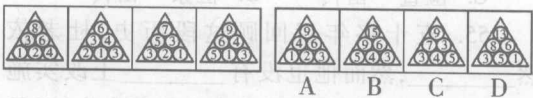
56.



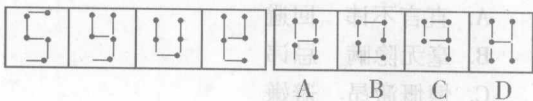
57.



58.



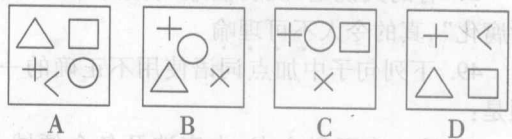

59.



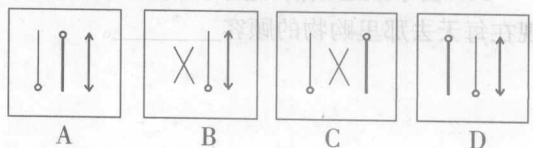
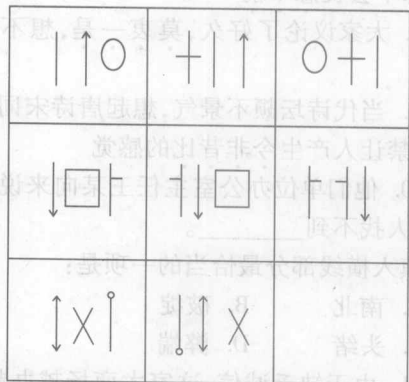
2. 请从所给的四个选择项中, 选择最适合的一个填在问号处, 使之呈现一定的规律性。

请开始答题:

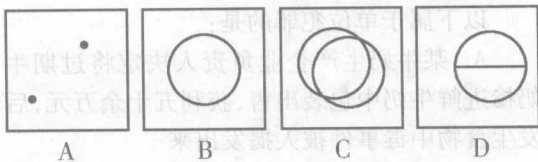
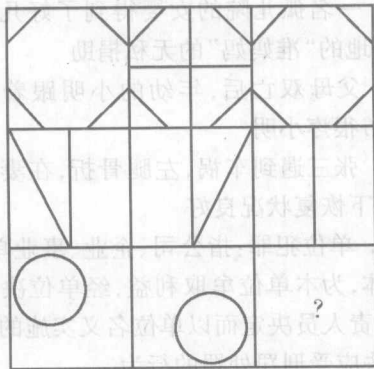
60.



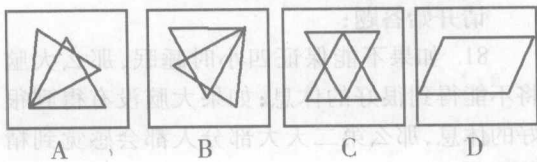
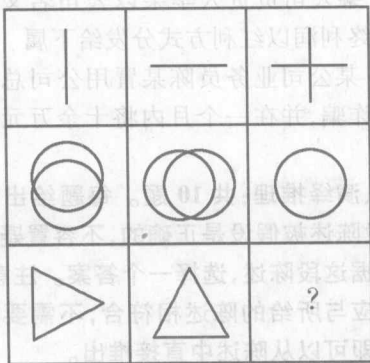
61.



62.



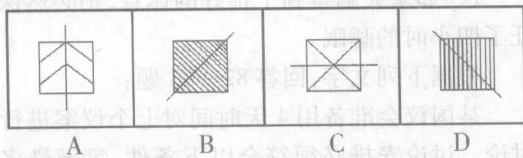
63.



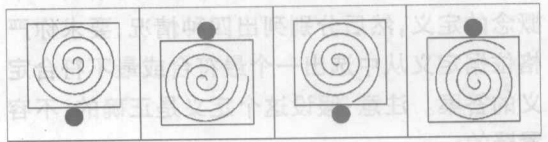
3. 在所给的4个图形中,有一个图形呈现的“特点”与其他三个图形呈现的“特点”是不同的,请你把这个图形选出来。注意“特点”是最明显、最突出的特点。

请开始答题:

64.



65.



二、类比推理:共10题。先给出一对相关词,要求你在备选答案中找出一对与之逻辑关系上最贴近或相似的词。

请开始答题:

66. 鸿沟:逾越

A. 技术:创新 B. 关系:恶化

C. 伤口:敷平 D. 堤坝:加固

67. 鼠标:键盘

A. 电脑:音响 B. 门:窗户

C. 棉花:丝绸 D. 红花:绿叶

68. 制度:管理

A. 文盲:教育 B. 法律:审判

C. 成功:竞争 D. 警报:逃生

69. 客车:货车

A. 居民楼:商务楼 B. 蝌蚪:青蛙

C. 男生:女生 D. 遥控器:电视机

70. 警察:安全

A. 太阳:温暖 B. 酒吧:娱乐

C. 乞丐:流浪 D. 飞机:战争

71. 糖:苦

A. 孤儿:可怜 B. 复杂:简单

C. 明确:模糊 D. 美国:弱小

72. 绿色:健康

A. 决赛:关键 B. 尖叫:恐惧

C. 危机:管理 D. 警报:逃生

73. 罚单:银行

A. 钥匙:门锁 B. 干裂:唇膏

C. 请帖:客户 D. 合同:律所

74. 古诗:李白

A. 国家:楼兰 B. 民间艺术:手工陶艺

C. 运动:拳击 D. 民族冲突:加沙地带

75. 弗洛伊德:心理

A. 厄尔尼诺:气象

B. 唐古拉斯:巅峰

C. 中情六局:情报

D. 超级女生:媒体

三、定义判断:共5题。每道题先给出一个概念的定义,然后分别列出四种情况,要求你严格依据定义从中选出一个最符合或最不符合定义的答案。注意:假设这个定义是正确的,不容置疑的。

请开始答题:

76. 政府信用:政府按照有借有还的商业信用原则,以债务人身份来取得收入,或以债权人身份来安排支出,也称为财政信用。

下列属于政府信用的是:

- A. 某县财政全年收缴税款两千万元,预期其中一部分用于公共设施建设
- B. 为建设环保型城市,其市政府强令重型污染企业撤出市区,并处以巨额罚款
- C. 财政部日前决定再发行160亿元20年期国债,本期国债为固定利率付息债
- D. 某国有企业通过破产还债程序还清部分欠款并注销企业

77. 风险投资:由职业金融家投入到新兴、迅速发展的、具有巨大竞争潜力的企业中的一种权益资本。

下列属于风险投资的是:

- A. 余某瞅准时机投资某新型电池制造公司,并取得其25%的股份
- B. 某外地老板听说房价还会涨,于是在杭州市中心购买了三套精装修房子
- C. 老伍每年为自己与妻子购买大量养老保险,期望能够减轻子女赡养负担
- D. 小宋将积蓄交给某“信得过”的朋友发放高利贷,利息率高达10%

78. 足值货币:是指这样的一种货币,它本身具有十足的内在价值,并且它是以自身所包含的实际价值同商品世界一切商品相交换的,是一种内在价值的等量交换,并以其内在价值量的大小来决定交换的比例。

下列属于足值货币的是:

- A. 信用卡
- B. 美元
- C. 银行承兑票据
- D. 贵金属货币

79. 监护权:指民事主体对无民事行为能力人和限制民事行为能力人实施监督和保护,并排除他人非法干涉的权利。

以下属于行使监护权的是:

- A. 安全部门人员紧随塞舌尔总统出访,密

切监视周围情况,以保证总统的安全

B. 一名孤儿院的女婴得到了好几位来自全国各地的“准妈妈”的无私捐助

C. 父母双亡后,年幼的小明跟着爷爷生活,爷爷很疼小明

D. 张三遇到车祸,左腿骨折,在妻子的用心照顾下恢复状况良好

80. 单位犯罪:指公司、企业、事业单位、机关、团体,为本单位牟取利益,经单位决策机构或由负责人员决定而以单位名义实施的危害社会、依法应受刑罚处罚的行为。

以下属于单位犯罪的是:

A. 某牛奶生产企业负责人决定将过期牛奶掺进鲜牛奶中包装出售,获利五十余万元,后发生食物中毒事件被人揭发出来

B. 某企业财务伪造公司印章签单,欠下巨额债务之后准备逃逸,最后锒铛入狱

C. 某公司负责人李某以公司名义将当年巨额年终利润以红利方式分发给下属

D. 某公司业务员陈某冒用公司总经理名义实施诈骗,并在一个月内将十余万元赃款挥霍一光

四、演绎推理:共10题。每题给出一段陈述,这段陈述被假设是正确的,不容置疑的。要求你根据这段陈述,选择一个答案。注意,正确的答案应与所给的陈述相符合,不需要任何附加说明即可以从陈述中直接推出。

请开始答题:

81. 如果不能保证四小时睡眠,那么大脑将不能得到很好的休息;如果大脑没有得到很好的休息,那么第二天大部分人都会感觉到精神疲劳。

因此,可以推断:

A. 只要大脑得到充分休息,就能消除精神疲劳

B. 大部分人的精神疲劳源于睡眠不足

C. 如果你只睡眠三小时,那么第二天一定会精神疲劳

D. 如果大脑得到了很好的休息,则必然保证了四小时的睡眠

根据下列文字,回答82—83题:

某国议会准备用4天时间对七个议案进行讨论。讨论安排必须符合以下条件:每天最多