

宇恒文化
YU HENG CULTURE

全新改版
NEW
学海风暴
系列

学海风暴

同步系列

丛书主编：冷媛



八年级历史（上） （配川教版）

喀什维吾尔文出版社
新疆电子音像出版社

☆ 突出重点 ☆ 突破难点 ☆ 锁定热点 ☆ 直击中考

责任编辑：侯淑婷

封面设计：王博



学海掀起风暴 知识改变命运

让学海风暴来的更猛烈些吧！

ISBN 978-7-5373-1687-3



9 787537 316873 >

本册定价 12.90 元

学海风暴

同步系列

丛书主编：冷媛



八年级历史（上）

（配川教版）

本册主编：黄菊英

本册副主编：邓永娟、付万根
（排名不分先后）

喀什维吾尔文出版社
新疆电子音像出版社

全新版
NEW

突出重点 ☆ 突破难点 ☆ 锁定热点 ☆ 直击中考

前 言

“东方欲晓，
莫道君行早，
踏遍青山人未老，
风景这边独好！”

我们太应该重视这个“独”了！

世上被人们公认的景点都是独特的：埃及金字塔，中国古长城，法国凯旋门，罗马斗兽场……

世上被人们赞誉的美景都独具风采：泰山日出，威尼斯水城，巴西热带雨林，非洲撒哈拉大沙漠……

文学作品中的经典人物也独具个性：王熙凤的笑里藏刀，鲁滨逊的坚毅顽强，奥赛罗的嫉妒仇恨……

独特是一种能力，
独特是一种智慧，
独特是一种超然！

《学海风暴》便是众多教辅资料中的独特品牌！

“人无我有，人有我优”是我们奉行的最高准则。

“没有最好，只有更好”是我们遵循的服务理念。

经编写组殚精竭虑倾心打造的《学海风暴》教辅丛书，具有以下独特之处：

●**权威性** 丛书主笔均为全国优秀的一线特高级教师，国家级、省级骨干教师，可谓强强联合、名师荟萃。先进的教学理念、成功的教学经验、科学的操作方式，组成了独树一帜的信息方阵。莘莘学子可以由此轻松“步蟾宫”“跃龙门”。

●**新颖性** 以新课标精神为指导，突出学生的主体性，强化人文意识的终极关怀，强调“感受、观察、体验、参与社会生活”的能力，注重构建“情景化”“生活化”的学习氛围，把学生引向好学、会学、乐学的理想天地。

●**科学性** 丛书各科既有对知识的宏观梳理，又有对解题思路的微观探究；既有对个案技巧的点拨，又有对整体规律的总结。以科学的方法打通了思维心理的屏蔽通道，为提升同学们的综合应用能力架起了一座金色之桥。

●**实用性** 实事求是，尊重实际，是本丛书的出发点，也是落脚点。从体例的设计，到内容的编写，本丛书都充分考虑到教学过程的特点和学生的实际需要，大处着眼，小处着手，努力使本丛书成为实实在在的学生的帮手，能切实的帮助学生积累知识，训练能力，开阔思维，提高成绩。

“删繁就简三秋树，领异标新二月花。”我们坚信，《学海风暴》定会给你的求学带来无穷的乐趣，定会引领你跨越人生的“十八盘”，去领略那“一览众山小”的无限风光！

学海弄潮，激流勇进，梦想成真！

《魔力导学》系列编写组

2008年8月





第一学习主题 列强的侵略和中国人民的抗争

第1课 鸦片战争	(1)
第2课 第二次鸦片战争	(4)
第3课 左宗棠收复新疆和甲午中日战争	(7)
第4课 八国联军侵华战争	(11)
第一学习主题自我评价卷	(14)

第二学习主题 近代化的起步

第5课 洋务运动	(16)
第6课 戊戌变法	(19)
第7课 辛亥革命	(21)
第8课 新文化运动	(25)
第二学习主题自我评价卷	(28)

第三学习主题 新民主主义革命的兴起

第9课 五四运动和中国共产党的成立	(30)
第10课 国民革命运动	(33)
第11课 人民军队的建立	(36)
第12课 红军长征	(38)
第三学习主题自我评价卷	(42)

第四学习主题 中华民族的抗日战争

第13课 抗日救亡运动	(44)
第14课 全国抗日战争的开始	(47)
第15课 国共合作抗日	(51)
第16课 抗日战争的胜利	(53)
第四学习主题自我评价卷	(57)

第五学习主题 人民解放战争的胜利

第17课 全面内战的爆发	(59)
第18课 国民党在大陆统治的覆灭	(62)
第五学习主题自我评价卷	(66)

第六学习主题 经济和社会生活

第19课 近代民族工业	(68)
第20课 近代社会生活	(69)

第七学习主题 科学技术与思想文化

第21课 教育和科学技术	(72)
第22课 思想文化	(73)
第六、第七学习主题自我评价卷	(76)
期中自我评价卷	(78)
期末自我评价卷	(80)
参考答案	(82)



第一学习主题 列强的侵略和中国人民的抗争

第1课 鸦片战争

课程解读

夯实基础，温故知新

一、虎门销烟

1. 背景：_____世纪初，清王朝已由盛转衰，封建统治危机四伏。_____国成为世界上最强大的资本主义国家，为了牟取暴利，向中国大量输送_____。

2. 鸦片的危害：使中国的_____大量外流，严重影响清政府的财政，加重了_____的负担，大批官僚、地主、军官、士兵吸食鸦片，使清政府政治更加腐败，军队的战斗力进一步_____给中华民族带来了灾难。

3. 经过：(1)为了维护清王朝的统治，_____帝派_____为钦差大臣，到广东查禁鸦片。

(2)时间及地点：_____年6月，林则徐下令将缴获的鸦片，在_____海滩当众销毁。

4. 影响：_____沉重打击了英国侵略者，振奋了民族精神，显示了中国人民反抗外来侵略、维护民族尊严的坚强意志。_____也因此成为中国近代史上的民族英雄。

二、鸦片战争

1. 爆发的原因：英国为了打开中国大门和维护可耻的_____。

2. 时间：_____年6月。

3. 结果：_____年8月_____战败被追求和。

三、中英《南京条约》

1. 签订：1842年8月在_____清政府被迫同英国签订了近代史上第一个丧权辱国的不平等条约——《_____》。

2. 主要内容

(1)割让_____给英国；赔款_____万元；开放广州、_____、_____、宁波、_____五处为通商口岸，允许英国在_____派驻领事；中国征收英商货物进出口_____应由两国协商。

(2)1843年，英国又通过《虎门条约》和《_____》获得了“_____”“片面最惠国待遇”和在通商口岸租地造房居住等特权。

3. 鸦片战争的影响：《南京条约》等一系列不平等条约的签订，严重破坏了中国领土和_____的完整。中国_____开始解体，开始沦为_____。_____是中国近代史的开端。

课内基础闯关

同步测控，步步为营

一、选择题

①鸦片战争爆发前，向中国大量走私鸦片的主要列强是 ()

- A. 英国 B. 美国 C. 荷兰 D. 西班牙

②毒品是人类的公害，联合国确定每年6月26日为国际“禁毒日”。被誉为“中国禁毒第一人”、“世界禁毒先驱”的近代伟人是 ()

- A. 左宗棠 B. 魏源 C. 林则徐 D. 邓世昌

③英国向中国走私鸦片的直接原因是 ()

- A. 换取中国商品 B. 掠夺中国白银
C. 扭转贸易逆差 D. 打破清朝闭关锁国政策

④中国近代史上第一个不平等条约是 ()

- A. 中英《南京条约》 B. 《北京条约》
C. 中日《马关条约》 D. 《辛丑条约》

⑤《南京条约》附件中，英国取得的权益不包括 ()

- A. 领事裁判权 B. 片面最惠国待遇
C. 在华传教权 D. 在通商口岸租地建房

⑥《南京条约》的内容中，破坏中国关税主权的条款是 ()

- A. 赔款2100万元
B. 开放广州
C. 割让香港岛
D. 英商进出口货物缴纳的税款，中国须同英国商定

⑦英国发动鸦片战争的主要目的是 ()

- A. 打开中国市场 B. 维护鸦片贸易
C. 割占中国领土 D. 打击林则徐的禁烟运动

⑧道光帝派林则徐到广东查禁鸦片的主要原因是 ()

- A. 鸦片走私导致了白银外流
B. 鸦片走私影响到清朝的统治
C. 鸦片输入严重摧残吸食者的身体
D. 林则徐的上书深深打动了道光帝

⑨中英《南京条约》的内容，不包括 ()

- A. 割让香港岛
B. 赔款2100万银元
C. 领事裁判权
D. 规定英商缴纳的税款，中国须同英国商定

10 中英《南京条约》规定开放的通商口岸不包括 ()

- A. 广州 B. 厦门 C. 上海 D. 天津

二、综合题

11 阅读下列材料:

材料一 杂剧《枪毙居》写道:“鸦片烟,真狡狴……这是西洋要把中国害,远从印度运将来……女子变妖怪,男子变痴呆。未老身先死,已死身不埋。”

材料二 1840年爆发的第一次鸦片战争,当时中国投入陆军兵力约10万人,水师约1万人,船只多系木质铁皮,铁炮质差,杀伤力小;英军约2万人,直接参战的陆海军0.6~0.7万人,出动战舰20艘,“船坚炮利”,其结果是以中国的惨败和英国的胜利而结束。

请完成:

(1) 鸦片什么时候输入中国? 英国为什么向中国输入鸦片?

(2) 鸦片战争中国失败的根本原因是什么?

(3) 鸦片战争带给我们哪些历史的思考?

12 材料分析题

阅读下列材料:

材料一 “我所畏者鸦片烟,杀人不计亿万千。君知炮打肢体裂,不知吃烟肠胃皆熬煎,君知火箭破产业,不知买烟费尽囊中钱。” ——《炮子谣》

材料二 “如果不赶快禁烟,几十年后,恐怕没有能作战的士兵,也没有充作军饷的白银了。” ——林则徐

材料三 6月3日……他命人在海滩高处,围起栅栏……待生石灰将池水煮沸后,投下鸦片,鸦片就渐渐销毁。



请回答:

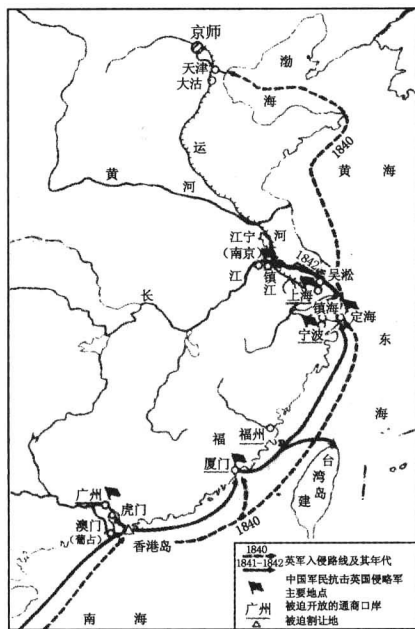
(1) 材料一、二揭示了鸦片的输入给中国带来了哪些危害?

(2) 材料三所描述的场景发生在哪个历史事件中? 文中的“他”是谁?

(3) 材料三描述的历史事件的发生有什么历史意义?

13 识图分析题

识读下图:





请回答:

(1)这幅地图是哪次侵华战争的形势图?

(2)通过这次战争,中国被迫开放的通商口岸,由南至北分别是哪几个城市?

(3)这次战争对中国社会产生了怎样的影响?




课外拓展提高

沙场百战,大战不殆

一、选择题

①下图所再现的19世纪30年代末中国人民反抗侵略的壮举,应是 ()



- A. 虎门销烟
- B. 戊戌喋血
- C. 辛亥风云
- D. 抗日烽火

②右图人物是1841年在虎门炮台英勇抵抗英军壮烈牺牲的清军将领,他是 ()

- A. 林则徐
- B. 关天培
- C. 左宗棠
- D. 邓世昌



③中国开始沦为半殖民地半封建社会的标志是 ()

- A. 《尼布楚条约》的签订
- B. 《南京条约》的签订
- C. 《北京条约》的签订
- D. 《辛丑条约》的签订

④《南京条约》的内容中,破坏了我国领土完整的条款是 ()

- A. 赔款2100万元
- B. 开放五口通商
- C. 协定关税
- D. 割香港岛给英国

⑤英国从《南京条约》的附件《虎门条约》中获得的权益是 ()

- ①协定关税
- ②五口通商
- ③领事裁判权
- ④片面

最惠国待遇 ⑤在租界地永久居住

- A. ①②③⑤
- B. ①②④
- C. ③④⑤
- D. ②③④

⑥鸦片战争是英国蓄谋已久的侵略战争,这是因为 ()

①英国要改变中英贸易中的不利地位 ②英国要维护可耻的鸦片走私 ③英国要掠夺中国廉价的工业原料 ④英国要在中国倾销他们的工业品 ⑤林则徐销烟造成了他们的经济损失

- A. ①②③⑤
- B. ①②④⑤
- C. ①③④⑤
- D. ①②③④

⑦虎门销烟销毁的鸦片主要是哪两个国家的 ()

- A. 英法
- B. 法美
- C. 英俄
- D. 英美

⑧2007年是香港回归十周年,香港被割让给英国,是开始于 ()

- A. 伊犁条约
- B. 南京条约
- C. 北京条约
- D. 巴黎和约

⑨下列内容能体现中国开始沦为半殖民地半封建社会的是 ()

①封建统治危机四伏,阶级矛盾尖锐 ②国家主权开始遭到严重破坏 ③封建统治者推行闭关锁国政策 ④自给自足的封建经济逐步解体

- A. ①②
- B. ③④
- C. ①③
- D. ②④

二、综合题

⑩阅读下列材料:

割香港岛给英国;赔款2100万元;开放广州、厦门、福州、宁波、上海五处为通商口岸;英商进出口货物需缴纳的税款,中国须同英国商定。

请回答:

(1)上述材料出自哪一个条约?

(2)这个条约的签订使中国的领土主权遭到了怎样的破坏?

(3)开放通商口岸给中国造成了什么影响?

(4)协定关税破坏了中国哪一方面的主权?



(5) 巨额赔款的影响是什么?

⑪ 阅读下列材料:

材料一 顺治十八年,清政府颁布“迁海令”,将北起河北、山东,南至广东的沿海居民内迁三十里,并且将所有沿海船只悉行烧毁,寸板不许下海。时刻了望,违者死无赦。

材料二 天朝物产丰盈,无所不有,原不藉外夷货物以通有无。

请回答:

(1) 清朝前期的对外贸易政策是什么?

(2) 清朝采取上述政策是出于什么考虑?

(3) 综合上述材料,你如何评价清朝的这一政策?

⑫ 阅读下列材料:

闻一多先生的《七子之歌》表达了被列强割占或租占的七个地区渴望重回母亲怀抱的感情。其中一首写道:“我好比凤阁阶前守夜的黄豹,母亲啊,我身份虽微,地位险要。如今狞恶的海狮扑在我身上,啖着我的肉……母亲!我要回来,母亲!”1997年7月1日,“守夜的黄豹”终于回归祖国怀抱。

请回答:

(1) 材料中的“黄豹”指什么?它的割占与哪一条约有关?

(2) “黄豹”被割占了约多少年?

(3) “黄豹”被割占,对中国产生了什么危害?

第2课 第二次鸦片战争

课程解读 夯实基础,温故知新

一、火烧圆明园

1. 背景:列强为继续扩大侵略权益,进一步打开中国市场,发动了_____。

2. 时间:_____年10月至1860年10月。

3. 暴行:

(1) 主凶:英国和_____,火烧_____。

(2) 帮凶:美国和_____,趁火打劫,侵占我国领土。

二、俄国侵占中国大批领土

1. 时间:从_____到19世纪80年代。

2. 割地:割占中国_____和_____领土150多万平方公里。

3. 俄国割占中国北方领土表:

时间	条约	割占领土范围	割占面积
1858年	中俄《_____》	_____	60多万平方公里
_____	中俄《北京条约》	_____	约40万平方公里
1860年 1864年	中俄《北京条约》 中俄《勘分西北界约记》	中国巴尔喀什湖以东以南	_____多平方公里
19世纪 80年代	中俄《改订条约》 以及以后五个勘界议定书	中国西北部	_____

三、太平军抗击洋枪队



1. 1851年, _____ 在广西桂平金田村发动起义, 建号太平天国, 起义军称“_____”。_____年, 起义军占领南京, 把南京改名为 _____, 定为都城, 建立起与清朝对峙的政权。

2. 1860年, 太平军逼近上海, 中外势力勾结起来成立了 _____, 由美国人 _____ 统领。

8月, 洋枪队配合清军进犯 _____ 的太平军, _____ 率太平军把洋枪队打得落花流水。

1862年9月, 太平军围攻宁波, 在 _____ 的战斗中, 击毙 _____, 严惩了洋枪队。



课内基础闯关

同步测控, 步步为营

一、选择题

- ①第二次鸦片战争的发动者是 ()
 ①美国 ②英国 ③法国 ④俄国
 A. ①② B. ①③ C. ②③ D. ②④
- ②火烧圆明园的国家是 ()
 ①美国 ②英国 ③法国 ④俄国
 A. ①② B. ①③ C. ②③ D. ②④
- ③被西方称为“万园之园”的中国皇家园林是 ()
 A. 北京的紫禁城 B. 西安的华清池
 C. 洛阳的牡丹园 D. 北京的圆明园
- ④1853年太平天国改南京为天京, 定为都城, 这标志着太平天国运动 ()
 A. 开始兴起
 B. 正式建立与清王朝相对峙的农民政权
 C. 进入全盛时期
 D. 开始抗击外国侵略者的斗争
- ⑤第二次鸦片战争的起止时间是 ()
 A. 1840~1842年 B. 1856~1860年
 C. 1842~1856年 D. 1894~1895年
- ⑥在1858年, 一位沙皇俄国的渔夫在黑龙江以北地区捕鱼遭到清军的阻挠, 可这个渔夫却说自己是合法的, 他的理由是 ()
 A. 沙皇俄国武力比中国强大
 B. 这里自古就是沙皇俄国的领土
 C. 这是中俄《北京条约》规定的
 D. 这是中俄《瑷珲条约》规定的
- ⑦历史小组同学在测绘清王朝国土面积时, 发现现在中国的国土面积与当时相差很多。造成这种局面的原因是 ()
 A. 第一次鸦片战争英国占领香港岛
 B. 甲午中日战争日本侵占我国沿海岛屿
 C. 美国“门户开放”政策造成的

D. 第二次鸦片战争俄国割占的结果

⑧在众多的俄国与中国签订的不平等条约中割占中国领土最多的条约是 ()

- A. 中俄《北京条约》
 B. 中俄《瑷珲条约》
 C. 中俄《勘分西北界约记》
 D. 中俄《改订条约》以及以后五个勘界议定书

⑨历史上割占中国领土最多的国家是俄国, 它一共割占中国领土 ()

- A. 180多万平方公里 B. 120多万平方公里
 C. 170多万平方公里 D. 150多万平方公里

⑩中俄《北京条约》的签订时间是 ()

- A. 1860年 B. 1844年
 C. 1850年 D. 1843年

⑪2007年9月, 全国政协常委何鸿燊以6910万港元的价格, 购入原属圆明园海晏堂12万肖“水力钟”喷泉的马首铜像。这一精美艺术珍品是什么事件中流失海外的 ()

- A. 鸦片战争 B. 第二次鸦片战争
 C. 甲午中日战争 D. 八国联军侵华战争

⑫先后担任过洋枪队头目的有 ()

- ①华尔 ②戈登 ③穆拉维约夫 ④奕山
 A. ①② B. ②③ C. ③④ D. ①④

二、综合题

⑬列举第二次鸦片战争前后, 列强侵华罪行三例。

⑭阅读下列材料:

材料一 英国《泰晤士报》的随军记者从北京发回的通讯写道:在场的每个军人都掠夺很多。在进入皇宫的宫殿后,谁也不知道该拿什么东西。为了拿金子,而把银子丢了,为了拿镶有珠玉的饰品和宝石,又把金子丢了,无价的瓷器和珐琅器,因为太大不能运走,竟被打碎。

材料二 法国大作家雨果愤怒地谴责英法联军的暴行,他说:有一天,两个强盗闯入了夏宫,一个动手抢劫,一个把它付诸一炬。原来胜利就是进行一场掠夺……有一个胜利者把一个个口袋都塞得满满的,至于那另外一个,也如法炮制,装满了好几口箱子。然后,他们双双拉着手荣归欧洲。这就是两个强盗的一段经历。

请回答:

(1)材料中提到的“夏宫”是指哪座建筑?

(2) 材料中“两个强盗”分别指谁?

(3) 材料中的事件发生于哪次战争期间?

(4) 这场战争爆发期间是哪两个国家帮助和纵容了文中的强盗?

15 识别右图, 请回答:

(1) 此人是谁, 哪国人?



(2) 他组织了一支什么军队? 其主要目的是什么?

(3) 请说出他率领的这支队伍与太平军交战的地点。

(4) 他最终的下场如何?

课外拓展提高 沙场百战, 大战不殆

一、选择题

- ① 第二次鸦片战争期间, 统治中国的皇帝是 ()
 A. 光绪帝 B. 道光帝 C. 咸丰帝 D. 同治帝
- ② 参观圆明园遗址最能使我们牢记 ()

- A. 落后就要挨打 B. 誓死卫国的崇高精神
 C. 鸦片危害严重 D. 北京曾是清朝的都城

③ 与图中遗迹有关的历史事件是 ()



- A. 鸦片战争 B. 第二次鸦片战争
 C. 甲午中日战争 D. 八国联军侵华战争

④ 中国近代史上最先进行反封建反侵略斗争的阶级是 ()

- A. 农民阶级 B. 地主阶级
 C. 工人阶级 D. 资产阶级

⑤ 要控诉第二次鸦片战争期间英法联军的罪行, 首选的史实是 ()

- A. 被毁后的圆明园废墟
 B. 割占中国的香港
 C. 在北京紫禁城抢劫
 D. 镇压义和团运动

⑥ 1851年, 洪秀全在广西桂平县金田村发动起义, 建号 ()

- A. 太平军 B. 太平天国
 C. 拜上帝教 D. 天王

⑦ 太平天国的都城在今天的 ()

- A. 杭州 B. 南京 C. 广州 D. 武昌

⑧ 下列条约中, 割地、赔款、开放通商口岸三项都有的是 ()

- A. 《瑷珲条约》 B. 《天津条约》
 C. 《北京条约》 D. 《望厦条约》

⑨ 第二次鸦片战争中俄国侵占我国大片领土, 其中面积最大的一片位于 ()

- A. 外兴安岭以南、黑龙江以北
 B. 乌苏里江以东
 C. 伊犁西北部
 D. 中国巴尔喀什湖以东、以南

⑩ 英法发动第二次鸦片战争的根本原因是 ()

- A. “马神甫”事件
 B. 进一步打开中国市场扩大侵略权益
 C. “亚罗号”事件
 D. 因鸦片被查禁、销毁

⑪ 浙江慈溪一带曾流传着一首民歌, 说: “洋人好比一只鹰, 黄毛高鼻绿眼睛。鸱鹰凶恶怕云打, 洋人怕的红头军。”这首民歌反映了当时的哪一历史事件 ()



- A. 三元里人民抗英斗争
- B. 关天培虎门抗敌
- C. 太平军抗击洋枪队
- D. 义和团抗击联军

12 太平天国运动遇到了中国历史上任何一次农民战争不曾遇到过的新情况。这种新情况主要是指 ()

- A. 肩负反帝反封建的双重任务
- B. 中外反动势力勾结起来联合进攻
- C. 中国当时正处于剧烈的社会变革时期
- D. 满清政府的军队和汉族地主武装联合围攻

二、综合题

13 材料一 “据估计,被劫掠和破坏的财产,总值超过六百万镑,在场的每个军人都掠夺很多。在进入皇宫的宫殿后,谁也不知道该拿什么东西……”

材料二 “俄国不需要花费一分钱,出动一兵一卒,却能比任何一个参战国得到更多的好处。”

(1) 材料一反映的中国被劫掠发生在哪次战争中? 这次遭劫掠和破坏的地方是哪儿?

(2) 材料二中说,俄国“比任何一个参战国得到更多的好处”,请运用事实说明俄国得到哪些好处?

14 填写俄国割占中国领土表,并分析此表对中国的影响。

时间	条约名称	割占领土范围	割占领土面积
1858年			
	中俄《北京条约》		
		中国巴尔喀什湖以东以南	
			7万多平方千米

15 阅读下列材料:

“中国不断起义已延续了十年之久,现在不管引起这些起义的社会原因如何,也不管这些原因是通过什么形式表现出来的,推动这次大爆炸的毫无疑问是英国的大炮。”

请回答:

(1) 材料中的“大爆炸”指的是什么?

(2) 这一运动的领袖是谁? 这一运动爆发在哪里?

(3) 你认为导致这一运动失败的原因有哪些?

第3课 左宗棠收复新疆和甲午中日战争

课程解读

夯实基础,温故知新

一、左宗棠收复新疆

1. 背景:

(1) _____年,中亚浩罕国军事头目_____率军侵入新疆,擅自建立政权,对新疆各族人民实行严酷的_____和民族压迫。

(2) 为达到控制新疆的目的,_____两国承认阿古柏政权,_____还直接出兵占领了_____地区。

2. 时间及人物: 1876年,_____被任命为钦差大臣,率兵讨伐阿古柏。

3. 结果: 清军收复了除_____地区以外的新疆全部领土。_____年清政府在新疆建立行省。

4. 意义: _____收复新疆,粉碎了_____、_____侵略者肢解中国的阴谋,捍卫了祖国领土的完整。

二、黄海战役中的邓世昌

1. 甲午中日战争: _____年,日本发动侵华战争。这年是旧历甲午年,历史上称这次战争为“_____”。

2. 黄海海战:

(1) 时间: _____年9月17日。

(2) 经过: 在黄海海面,日本舰队突然进攻北洋舰队。

中国海军提督_____率领舰队迎战。致远号管带_____壮烈牺牲。

(3)结果:日军大举入侵中国。1895年初,日军进攻北洋舰队基地_____,北洋舰队全军覆没。

三、《马关条约》的内容及其危害

1. 时间:_____年。

2. 签订:_____代表清政府同日本首相伊藤博文签订中日《_____》。

3. 主要内容:清政府割_____、台湾、澎湖列岛及附属岛屿给日本;赔偿日本军费白银_____亿两;增开苏州、_____、沙市、_____为通商口岸;允许日本在中国通商口岸开设_____。

4. 影响:《_____》的签订,使中国丧失了大片领土和更多的主权,刺激了帝国主义瓜分_____的野心,中国民族危机空前严重。

课内基础闯关

同步测控,步步为营

一、选择题

①近代中国一切灾难祸害的总根源和社会发展的障碍是 ()

- A. 官僚地主 B. 封建军阀
C. 帝国主义 D. 买办资本家

②19世纪60、70年代,企图支持阿古柏政权进而控制新疆的国家是 ()

- A. 俄日 B. 俄英 C. 美日 D. 美英

③晚清杨昌浚的诗写道:“大将筹边尚未还,湖湘子弟满天山。新栽杨柳三千里,引得春风度玉关。”这句诗颂扬 ()

- A. 刘铭传在台湾抗击清军
B. 关天培在虎门抗击英军
C. 新疆人民抗击阿古柏统治
D. 左宗棠收复新疆

④成为俄英两国分裂新疆的共同傀儡,被称为“一仆二主”的人物是 ()

- A. 奕山 B. 李鸿章
C. 阿古柏 D. 琦善

⑤《马关条约》中体现了帝国主义时代特征的条款是 ()

- A. 割辽东半岛、台湾、澎湖列岛给日本
B. 赔款日本军费白银2亿两
C. 增开新的通商口岸
D. 日本可以在通商口岸开设工厂

⑥“东沟海战天如墨,炮震烟迷船掀侧。致远鼓楫冲重围,万火丛中呼杀贼。”根据所学历史知识,判断下列选

项中与此诗相关的历史事件是 ()

- A. 鸦片战争 B. 甲午中日战争
C. 第二次鸦片战争 D. 中法战争

⑦最能说明《马关条约》使外国侵略势力深入内地的是 ()

- A. 割占辽东半岛
B. 增开重庆等地为通商口岸
C. 允许投资设厂
D. 赔偿日本军费白银2亿两

⑧日本于1894年发动侵华战争,其目的不包括 ()

- A. 称霸世界 B. 推翻清朝腐朽统治
C. 侵略中国 D. 征服朝鲜

⑨下列关于《马关条约》对中国造成的影响,正确的是 ()

- A. 使中国开始沦为半殖民地
B. 使中国半封建化程度进一步加深
C. 大大加深了中国的半殖民地化
D. 使中国完全沦为半殖民地半封建社会

⑩俄国干涉日本割占辽东半岛的真实目的是 ()

- A. 履行国际主义义务
B. 害怕日本损害俄国在中国东北的利益
C. 维护清政府统治
D. 维护其他国家的利益

⑪日本割占台湾和哪一个不平等条约有关 ()

- A. 《南京条约》 B. 《马关条约》
C. 《北京条约》 D. 《辛丑条约》

⑫陕甘总督左宗棠提出“不能扶起东边却倒西边”所表达的意思是 ()

- A. 海防重要 B. 塞防重要
C. 海防与塞防并重 D. 两者都不重要

二、综合题

⑬阅读下列材料:

1895年4月23日,俄国驻日公使向日本政府递交照会称:日本领有辽东半岛不仅有经常危及中国首都之忧虑,同时将使朝鲜国家的独立有名无实,有碍将来远东的永久和平,因此,俄国政府向日本皇帝陛下政府再次表示诚挚的友谊,兹劝告日本政府应断然放弃领有辽东半岛。

请回答:

(1)日本是通过哪一个不平等条约割占辽东半岛?

(2)俄国出面干涉时标榜的理由是什么?其真实目的



是什么?

(3)在此事件中,还有哪两个国家和俄国一起干涉日本割占辽东半岛?

(4)俄国干涉还辽的结果怎样?

14 1895年,有人题联于京师城门:“万寿无疆,普天同庆;三军败绩,割地求和。”你认为这副对联有无道理?为什么?请对中国在甲午中日战争中失败的原因及《马关条约》签订后对中国的影响做简要评述。

15 识图分析题

识读下图,回答问题:



“此日漫挥天下泪,有公足壮海军威。”

(1)上图中的人物是谁?挽联中的“此日”是指何时?

(2)此人在哪一战争、哪一战役中壮烈牺牲?我们应

学习他的什么精神?



课外拓展提高

沙场百战,大战不殆

一、选择题

1 促使列强联合干涉日本归还中国辽东半岛的主要原因是 ()

- A. 日、俄对东北地区的争夺
- B. 法国支持俄国抵制日本
- C. 日、德争夺山东半岛
- D. 三国反对英日同盟

2 新疆设立行省是在 ()

- A. 1871年
- B. 1875年
- C. 1876年
- D. 1884年

3 “此日漫挥天下泪,有公足壮海军威。”这副沉痛的挽联,是人们为哀悼哪一位民族英雄而撰写的 ()

- A. 关天培
- B. 林则徐
- C. 左宗棠
- D. 邓世昌

4 19世纪70年代,英俄承认阿古柏的政权与阿古柏签订商约,其目的是 ()

- A. 通过支持阿古柏,进而控制新疆
- B. 使阿古柏政权称臣
- C. 利用阿古柏与清军抗衡
- D. 英俄在争夺新疆过程中妥协

5 清政府在新疆设立行省的主要目的是 ()

- A. 维护管理“丝绸之路”和“东西交通”
- B. 加强与西北少数民族的关系
- C. 为恢复伊犁准备条件
- D. 加强西北边疆的管理和防务

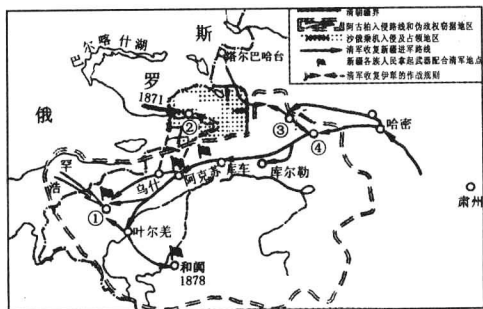
6 甲午中日战争爆发的时间是 ()

- A. 1894年
- B. 1895年
- C. 1898年
- D. 1899年

7 下列发生在新疆的重大事件,按时间先后顺序排列正确的是 ()

- ①阿古柏率兵入侵新疆
 - ②沙俄出兵占领伊犁地区
 - ③中俄签约,中国收回伊犁
 - ④清政府在新疆设立行省
- A. ①②③④ B. ②③④①
C. ①③②④ D. ①②④③

8 读“收复新疆示意图”19世纪80年代初,中国收回的地区是 ()



A. ① B. ② C. ③ D. ④

9 “太后不识国事险，危亡犹筹万寿典。挪用军费修颐和，此战岂能不失败。”诗中的“此战”指的是 ()

- A. 鸦片战争 B. 第二次鸦片战争
C. 甲午中日战争 D. 八国联军侵华战争

10 《马关条约》中阻碍中国民族工业发展最为严重的一项是 ()

- A. 赔款白银 2 亿两
B. 增开沙市、重庆、苏州、杭州为商埠
C. 允许日本在通商口岸开设工厂
D. 开辟内河航线

11 《马关条约》和《南京条约》在内容方面不同的是 ()

- A. 割地 B. 开设工厂
C. 通商 D. 赔款

12 清末著名诗人丘逢甲在《春愁》中写道：“春愁难遣强看山，往事惊心泪欲潸。四百万人同一哭，去年今日割台湾。”诗中的“往事”是指中国在下列哪次战争中的失败 ()

- A. 鸦片战争 B. 第二次鸦片战争
C. 甲午中日战争 D. 八国联军侵华战争

二、综合题

13 下面是《马关条约》的主要内容：

清政府割辽东半岛、台湾、澎湖列岛给日本；赔偿日本军费白银 2 亿两；开放沙市、重庆、苏州、杭州为商埠；允许日本在通商口岸开设工厂。

请回答：

(1) 材料中领土割让的内容对中国造成的危害是什么？

(2) 从《马关条约》增辟通商口岸的内容中，你认为列强在侵略中国方面的主要变化是什么？

(3) 巨额赔款又有哪些危害？

(4) 允许日本在通商口岸开放工厂，对日本侵略中国又提供了哪些便利？

14 1895 年有人写出这样的对联：“台湾今已归日本，颐和园又搭天棚。”想一想，台湾是中国的领土，为什么“今已归日本”？“颐和园又搭天棚”是在干什么？这两件事联系起来，说明什么问题？

15 阅读材料，回答问题。

材料一 “重新疆者，所以保蒙古；保蒙古者，所以卫京师。”

材料二 “新疆不复，于肢体之元气无伤；海疆不防，则心腹之患愈棘。”

(1) 上述两段材料，分别是谁的观点？他们的主要思想是什么？

(2) 你对此如何评价？



第4课 八国联军侵华战争

课程解读

夯实基础，温故知新

八国联军侵华战争

八国联军侵占北京

背景:1900年春,_____运动发展到京津地区,斗争矛头直指帝国主义侵略势力。

经过 { 1900年6月,为镇压义和团反帝爱国运动,____、____、美、俄、____、____、意、奥八国联军两千多人,由天津向北京进犯各国舰队夺取_____炮台,八国联军攻占_____。

罪恶:到处烧杀抢掠,无恶不作。

签订:1901年,清政府被迫同英、法、美、俄、日、德、意、奥等国,签订了丧权辱国的《_____》。

经济:清政府赔偿白银_____,以海关等税收作担保。

政治:清政府保证严禁_____活动。

军事:清政府拆毁_____,允许帝国主义国家派兵驻扎北京到山海关铁路沿线要地
外交:划定北京_____为使馆界,允许各国驻兵保护,不准中国人居住。

影响:清政府完全成为帝国主义统治中国的工具,中国完全沦为_____。

签订条约主要内容

课内基础闯关

同步测控，步步为营

一、选择题

- ① 轰轰烈烈的义和团运动最早兴起于 ()
A. 天津 B. 河北 C. 山东 D. 广西
- ② 义和团运动的斗争矛头是 ()
A. 清政府 B. 帝国主义
C. 基督教 D. 瓦德西
- ③ 八国联军的侵华战争是为了镇压 ()
A. 禁烟运动 B. 太平天国运动
C. 戊戌变法运动 D. 义和团运动
- ④ 1900年6月,率领八国联军侵略中国的是 ()
A. 西摩尔 B. 瓦德西
C. 华尔 D. 阿古柏
- ⑤ 义和团抵抗八国联军取得胜利的战役地点是 ()
A. 南京 B. 天津 C. 廊坊 D. 北京
- ⑥ 在八国联军侵略中国过程中,他们先后攻占了 ()

①上海 ②南京 ③天津 ④北京

A. ①② B. ③④ C. ①③ D. ②④

⑦ 八国联军入侵中国时的中国皇帝是 ()

- A. 道光皇帝 B. 咸丰皇帝
C. 光绪皇帝 D. 同治皇帝

⑧ 率领八国联军洗劫北京城的联军统帅是 ()

- A. 瓦德西 B. 义律
C. 阿古柏 D. 华尔

⑨ 下列内容中属于《辛丑条约》的是 ()

- A. 赔款白银2 100万两
B. 割让香港岛
C. 英商进出口货物缴纳的税款,中国须同英国商定
D. 划定北京东交民巷为使馆界,允许各国驻兵保护

⑩ 向列强保证今后要“量中华之物力,结与国之欢心”的是 ()

- A. 慈禧太后 B. 李鸿章
C. 光绪皇帝 D. 左宗棠

⑪ 在《辛丑条约》中,列强要求清政府赔款白银4.5亿两,以清朝海关税收作为担保。这暴露了帝国主义要 ()

- A. 掠夺中国的野心
B. 把持中国海关的野心
C. 从中国海关走私的野心
D. 控制中国经济命脉的野心

⑫ 《辛丑条约》签订后,中国完全沦为半殖民地半封建社会。这说明中国的主权 ()

- A. 完全被列强所把持
B. 相当一部分为列强所占据
C. 仍全部为清朝所掌握
D. 是独立的

二、综合题

⑬ 阅读下列材料:

材料一 义和团,起山东,不到三月遍地红。孩童个个拿起刀,保国逞英雄。

——义和团歌谣

材料二 此次义和团民之起,数月之间,京城蔓延已遍,其众不下数十万,自兵民以至王公府第,处处皆是,同声与洋教为仇,势不两立。剿之则即刻祸起肘腋……只可因而用之,徐图挽救。

——清政府致各省督抚电文

请回答:

(1) 材料一所提到的义和团运动在山东兴起的主要原因是什么?从中可以看出义和团运动具有什么性质?