

高中课程新学案

LISHI

历史

高中三年級

主编 宋玉柱 张西河

GAO ZHONG KE CHENG XIN XUE AN



G 高中课程新学案
GAO ZHONG KE CHENG XIN XUE AN

历史

高中三年级

主 编: 宋玉柱 张西河
副主编: 刘春晓 左振硕
编 者: 田红梅 张风云 马福山 赵进步
袁家仁 左振硕 潘宝建 梁秀昌
刘春晓 姜 洵 李以学 马自玲
王海迎 朱江山 赵尊义

G 高中课程新学案

GAO ZHONG KE CHENG XIN XUE AN

编委会名单

主任:葛晓光

副主任:金立村 陈为词 陈中杰 宋玉柱

委员:朱成广 庞云龙 郭允远 崔广进 冯连奎 刘成坤
李子恩 傅石灵 张西河 相炜 张伟

高中课程新学案

历史

高中三年级

*

明天出版社出版

(济南经九路胜利大街 39 号)

<http://www.sdpress.com.cn>

<http://www.tomorrowpub.com>

山东省新华书店发行 山东新华印刷厂临沂厂印刷

*

889 × 1194 毫米 16 开本 16 印张 822 千字
2007 年 7 月第 1 版 2008 年 8 月第 2 版第 2 次印刷

ISBN 978 - 7 - 5332 - 5419 - 3

定价:12.80 元

如有印装质量问题,请与印刷厂调换。

(电话:0539—2925659)

前言

为了帮助广大师生积极应对 2009 年山东省新的高考形势与要求,我们组织了部分骨干教师,依据山东省高考方案及文科综合测试考试说明,从高三教学实际出发,结合高中历史课程标准与人教版教科书,精心编写了这本复习学案,供高三学生一轮复习使用。

本着一轮复习求稳定、重基础、求实效的指导思想,我们在编写本学案时,基本上是在模块内进行整合,没有对教科书的内容结构作大幅度的调整。按照时序先后、同类归并、内在联系等角度对某一模块内的知识结构顺序稍作组合,将必修与选修 5 本教科书的内容重新编排为 15 个复习单元,每个单元基本上相当于教科书中的两个或两个以上的单元。由于新高考方案对必修与选修内容考查比例的不同,所以本学案重点放在对必修内容的整合上,其中必修内容占 13 个单元,选修内容占 2 个单元。

为了提高备考复习的针对性和实效性,我们依据复习课的特点及学生的认识过程与规律,精心设计学案的内容结构与实施环节。“课时”学案包括“内容标准+合作探究+达标测评”三个内容板块,非常符合复习课的实施要求与特点,具有较强的可操作性,保证了复习过程的完整性与有效性。每一单元都附有“单元能力训练”,检测学生的复习效果,有利于提高学生分析问题、解决问题的能力。另外,每一单元还增加了“高考链接”,将近年来的高考试题呈现给学生,开阔学生的视野,增强他们的实战能力。


本学案是集体智慧的结晶,参加本书编写的有:田红梅(第一单元)、张风云(第二单元)、马福山(第三单元、综合训练一)、赵进步(第四单元)、袁家仁(第五单元)、左振硕(第六单元、综合训练二)、潘宝建(第七单元)、梁秀昌(第八单元)、刘春晓(第九单元)、姜洵(第十单元)、李以学(第十一单元、综合训练三)、马自玲(第十二单元)、王海迎(第十三单元)、朱江山(第十四单元)、赵尊义(第十五单元、综合训练四)等。本书对高三一轮复习有很强的指导性,因此建议广大师生对本学案要“全面使用、全程使用”;同时由于条件与水平有限,本学案肯定有许多不合校情、学情之处,因此建议广大师生对本学案又要“优化使用、灵活使用”,切实发挥其导学功能,提高课堂复习效率。

编者

2008 年 8 月

目 录

走进山东省文科综合能力测试	(1)
第一单元 古代东西方的政治制度	(17)
第二单元 近现代欧美政治制度和社会制度的演变	(30)
第三单元 近代西方列强的侵华与中国的民主革命	(42)
第四单元 现代中国的政治建设与对外关系	(59)
第五单元 当今世界政治格局与世界经济的发展趋势	(73)
第六单元 古代中国的自然经济	(87)
第七单元 资本主义世界市场的形成与近代中国的民族工业	(99)
第八单元 20 世纪世界经济体制的创新与调整	(111)
第九单元 中国特色的社会主义建设与中国近现代社会生活的变迁	(124)
第十单元 中国传统文化主流思想与西方人文主义思想	(141)
第十一单元 近代以来中国的思想解放潮流及重大思想理论成果	(153)
第十二单元 古代、现代中国的科学技术与文化	(165)
第十三单元 近代以来的世界科学技术与文学艺术	(181)
第十四单元 中外古代史上的重大改革	(197)
第十五单元 中外近代史上的重大改革	(211)
综合训练一 (必修 1)	(229)
综合训练二 (必修 2)	(233)
综合训练三 (必修 3)	(238)
综合训练四 (选修 1)	(244)
综合训练五 (必修、选修)	(248)



走进山东省文科综合能力测试

自2007年起,全国高考文科综合能力测试,山东省开始自主命题。由于山东省实行“3+X+1”的高考模式,这就使得文科综合能力测试与全国卷相比具有一些新的特点。了解山东省文科综合命题情况,特别是文综前提下历史学科的命题特点,对科学备考具有十分重要的意义。

(一)2008年山东省文综《考试说明》(节选)

一、命题指导思想

1.命题以《普通高中思想政治课程标准(实验)》《普通高中历史课程标准(实验)》《普通高中地理课程标准(实验)》《2008年普通高等学校招生全国统一考试大纲(文科·课程标准实验版)》和《2008年普通高等学校招生全国统一考试(课程标准实验版)山东卷考试说明》为依据,不拘泥于某一版本教科书。

2.命题以能力测试为主导,注重考查考生所学思想政治、历史和地理学科基础知识、基本技能的掌握程度和综合运用所学知识分析、解决实际问题的能力。

3.命题重视“新材料、新情境”的创设与运用,鼓励考生多角度、创造性地思考和解决问题。

4.命题保持相对稳定,体现新课程理念。

5.命题力求科学、准确、公平、规范,试卷应有较高的信度、效度、必要的区分度和适当的难度。

二、考核目标与要求

文科综合能力测试强调对思想政治、历史、地理各学科知识的整体把握和综合运用,既要体现学科特点,又要体现学科间的联系,注重运用所学知识多层次、多角度分析和解决问题的能力。据此,并根据考生完成测试的基本思维过程拟定“文科综合能力测试”的考核目标与要求(“考核目标”即综合测试的能力目标,“要求”是分别对每一考核目标不同层次和水平的界定)见下表。

要求 目标	I	II	III
获取和解 读信息	从题目的表述中获取回答问题的有关信息,理解考试要求	快速、全面、准确地从题目提供的图文材料中最大限度地获取有效信息	对有效信息进行完整、准确的理解,并合理整合,形成综合性的信息解读
调动和运 用知识	调动和运用所掌握的相关学科的基本知识,与试题的有关信息建立正确的联系,并对相关问题作出必要的判断	根据试题的要求,调动和运用自主学习过程中所获得的相关重要信息,理解和分析问题	根据试题的要求,自主选择 and 综合运用多种相关学科知识及基本技能解决问题,适当体现学科渗透
描述和阐 释事物	用简洁的文字语言、图形语言或其他表达方式,准确描述或说明所涉及的相关事物的基本概念、基本特征、发展过程、基本观点等	运用历史的、辩证的观点和方法,认识、分析并把握相关事物的本质和基本规律,并作出正确的阐释	分析、比较试题所涉及的事物、现象,作出科学的综合阐释
论证和探 讨问题	结合所学知识,从试题提供的信息中发现或提出科学的、具有一定创新意识的问题	运用批判、借鉴、引用、比较、归纳等方式,对有关现象、问题(或某些观点)进行论证、评论,提出的论据要充分,结论要合理	综合运用相关学科的原理和方法,论证和探讨问题,体现出创新性思维和正确的情感、态度与价值观。观点明确、表述清晰、逻辑严谨

三、考试形式与试卷结构

1. 考试形式

考试形式为闭卷、笔试。考试时间为 150 分钟。试卷满分为 240 分。

2. 试卷结构

(1)文科综合科目的试卷包括第 I 卷(选择题)和第 II 卷(非选择题)。其中,第 I 卷全部为必做题;第 II 卷分为必做题和选做题两部分。

必做题部分全部根据思想政治、历史和地理学科的必考内容命题。其中,思想政治必做题的分值比重约占 36%,地理、历史必做题的分值比重分别约占 32%。

选做题部分采取“超量给题,限量做题”的方式。凡列入山东省 2008 年普通高考文科综合科目考试命题范围的每个选考模块内容均单独命制 1 道题目,每道题目的分值均为 10 分。要求每位考生从思想政治、历史、地理三科中各选择 1 道题目作答,不按要求选做者,阅卷时将根据所选科目题号的先后顺序只判最前面的 1 道题目,其他作答的题目答案无效。所有选做题均不跨学科或跨选考模块命题。

(2)文科综合科目试卷的第 I 卷共 25 题,每题 4 分,共 100 分。第 II 卷共 140 分,其中,必做题部分共 4 题,110 分;选做题部分每位考生限选 3 题,共 30 分。每位考生的卷面答题总量为 32 道题目。

(3)第 I 卷答案涂在答题卡上,第 II 卷答案答在答题纸上。

四、题型示例(历史部分)

(一)选择题:在每小题的四个备选项中,只有一项最符合题目的要求。

14. 古人所谓“慎终追远,民德归厚矣”,强调的是祭祀祖先、悼念死者的教化作用。这一主张属于

- A. 儒家思想
- B. 道家思想
- C. 墨家思想
- D. 法家思想

【参考答案】 A

15. 右图为宋代济南刘家功夫针铺印记,其上部文字为“济南刘家功夫针铺”;中部文字为“认门前白兔儿为记”;下部文字为“收买上等钢条,造功夫细针,不误宅院使用,转卖兴贩,另有加饶,请记白”。从该“印记”中能够获取的准确历史信息是



- A. 宋代开始生产钢针
- B. 宋代出现中国最早的商标、广告
- C. 宋代已有集原料收购、生产加工和批发贩卖为一体的经营方式
- D. 宋代出现了资本主义生产关系萌芽

【参考答案】 C

16. 在近代中国,民众与外国传教士及信徒的冲突被称为“民教冲突”。据记载,冲突最多的三个年份分别是 1884 年、1898 年、1900 年,这表明

- A. 中西文化冲突不可调和
- B. 传教活动均以武力为后盾
- C. 清政府对传教活动态度强硬
- D. 民教冲突随民族危机加深而突显

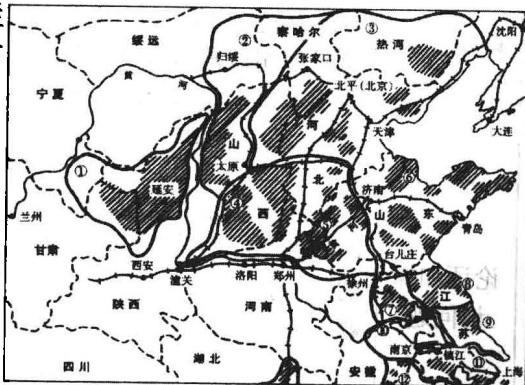
【参考答案】 D

17. 叶圣陶在一则日记中写到:“课后阅读报纸,见专电栏中有云:武昌已为革(命)党所据,新军亦起而相应……从此而万恶之政府即以推倒,亦未见可知也。”日记中的“万恶之政府”指


- A. 清政府
- B. 南京临时政府
- C. 北洋政府
- D. 南京国民政府

【参考答案】 A

18. 右图是某同学在研究性学习中找到的一幅地图。据图中阴影部分判断,他的研究课题是



- A. 工农武装割据的形成
- B. 七七事变前日本占领区域的变化

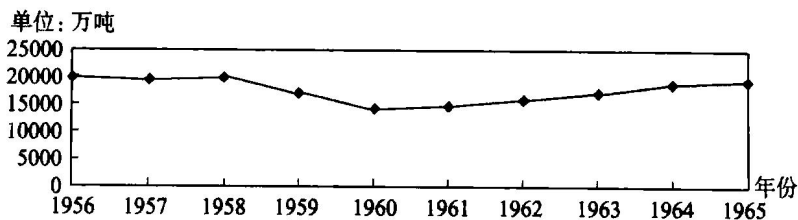


- C. 抗日根据地的建立和发展
- D. 三大战役后解放区的扩大

【参考答案】 C

19. 下图反映的是 1956~1965 年间我国

- A. 煤炭生产的基本状况
- B. 粮食生产的基本状况
- C. 钢铁生产的基本状况
- D. 石油生产的基本状况



【参考答案】 B

20. 1972 年中美上海《联合公报》：“美国认识到，在台湾海峡两边的所有中国人，都认为只有一个中国，台湾是中国的一部分。美国政府对这一立场不提出异议……”美国发表这一声明意在

- A. 缓和中美关系，集中对抗苏联
- B. 承认中国日益提高的国际地位
- C. 缓和中美关系，促进中国统一
- D. 承认封锁新中国政策的错误

【参考答案】 A

21. 马丁·路德说：“我们应当让世俗政权在整个基督教世界中执行它的职务，不要加以任何阻碍。无论什么人，不管他是教皇、主教、传教士，或是修士、修女，世俗权力都有权来管他。”该材料反映了马丁·路德

- A. 倡导人的解放
- B. 否定基督教
- C. 宣扬《圣经》精神
- D. 否定教皇地位

【参考答案】 D

22. 启蒙学说发展了人文主义，这主要表现在

- A. 反对教权主义和蒙昧主义
- B. 宣传天赋人权
- C. 提倡自由平等
- D. 主张建立法治社会

【参考答案】 D

23. 《欧洲经济史》描述了 18 世纪中期以来欧洲某些地区出现的现象，“贵族的炫耀生活，受到财富日益增长的资产阶级的仿效，甚至受到挑战。虽然他们有时被人轻蔑地说成是‘暴发户’，但是，他们的购买力形成了他们自己竞相仿效的基础”。这段描述不能说明 ①工业革命已经影响到社会生活 ②启蒙思想的传播消除了人们的等级观念 ③政治革命使封建贵族告别了昔日生活 ④科技进步降低了生产成本，物价相对低廉

- A. ②③④
- B. ①②③
- C. ①③④
- D. ①②④

【参考答案】 A

24. 1952 年我国邮电部发行纪念十月革命的邮票，名称为“伟大的苏联十月革命 35 周年纪念”，全套 4 枚。其中第一枚图案为毛泽东访苏期间和斯大林在一起；第二枚图案为列宁在第二次全俄苏维埃代表大会上讲话。此套邮票成为我国第一套错体票，其错误在于


- A. 邮票的名称
- B. 周年纪念的时间
- C. 第一枚的图案
- D. 第二枚的图案

【参考答案】 A

25. 右图是一幅政治漫画，画中的法国人和德国人正在讨论，最后达成的共识是

- A. 我们太小，实在无奈
- B. 他们相争，我们得利
- C. 赶快联合，求得生存
- D. 各奔东西，争取自保

【参考答案】 C



26. 在 14~17 世纪的欧洲和中国都产生了许多脍炙人口的文学作品。其中《堂吉珂德》和《水浒传》的相同之处是

- A. 歌颂反抗斗争精神
B. 揭露社会的黑暗
C. 推崇人文主义
D. 反映了资本主义萌芽发展的要求

【参考答案】 B

27. 美国历史学家斯塔夫里亚诺斯总结说：“要确切认识西方的历史或非西方的历史，没有一个包括这两者的全球性观点是不行的；只有运用全球性观点，才能了解各民族在各时代中相互影响的程度。以及这种相互影响对决定人类历史所起的重大作用。”作者在这里强调

- A. 从西方的角度认识非西方的历史
B. 从非西方的角度认识西方的历史
C. 用比较的方法认识西方和非西方的历史
D. 用整体性的观点认识西方和非西方的历史

【参考答案】 D

(二)非选择题

6. 阅读以下材料：

材料一 《韩非子·有度》载：“先王立司南以端朝夕。”(朝夕，指东西方向)《鬼谷子·谋》称：“郑(国)人之取玉也，载司南之本，为其不惑也。”(惑，指迷失方向)

材料二 据《萍洲可谈》载，北宋有人在广州看到“舟师识地理，夜则观星，昼则观日，阴晦观指南针。”

材料三 马克思在《机器、自然力和科学的应用》中说：“火药、指南针、印刷——这是预告资产阶级社会到来的三大发明。火药把骑士阶层炸得粉碎，指南针打开了世界市场并建立了殖民地，而印刷术则变成新教的工具，总的来说变成科学复兴的手段，变成对精神发展创造必要前提的最强大的杠杆。”

材料四 鲁迅在《电的利弊》中说：“外国用火药造子弹御敌，中国却用它做爆竹敬神；外国用罗盘针航海，中国却用它看风水；外国用鸦片医病，中国却拿来当饭吃。”

回答：

- (1)从材料看，司南至迟发明于什么时候？司南和指南针在哪些方面发挥了它的辨别方向的功能？
(2)应如何理解材料三的内容？
(3)材料四中鲁迅揭露了中国社会的什么问题？
(4)指南针在近代西欧和中国的不同用途说明了什么？

【参考答案】

- (1)战国。生产(或采玉)、导航、迷信活动(或看风水)。
(2)马克思指出了中国的三大发明传到欧洲后，在欧洲从封建社会向资本主义社会转变中起了促进作用。
(3)旧中国的愚昧落后，中国古代先进科学技术未能充分发挥其推动社会进步的作用(或古代先进科学技术的沦丧)。
(4)科学技术能否产生巨大的经济效益和社会效益取决于社会环境。(“社会环境”包括社会制度、社会条件、社会生产力的发展水平和社会对科学技术的认识等方面，提到其中一个方面，即可视为正确，但整个答案的意思不能改变)

7. 有研究者在论述“明朝妇女婚姻观的两重性”时，引用过下列材料：

材料一 凡民间寡妇，三十以前夫亡守志(不改嫁)者，五十以后不改节(节操)者，旌表门闾(表彰其家族)，除免本家差役。

——《明会典》

材料二 正史中各代烈女数字：《唐书》54人；《宋史》55人；《元史》187人；《明史》“不下万余人”。

——据祝瑞开：《中国婚姻家庭史》

材料三 女子周胜仙与男子范二郎相遇，“四目相视，各具有情”，二人通过巧妙的自我介绍，订下终身。

——据明中后期小说《醒世恒言》

材料四 孟玉楼丧夫后要改嫁，亲戚及乡邻都赞同，“少女嫩妇的，你拦着不教他嫁人，留着他做什么？”

——据明中后期小说《金瓶梅》



请回答:

(1)该研究者认为,明朝妇女的婚姻观存在两重性,即保守性与自主性。他可能使用上述哪些材料来分别证明?

(2)结合明朝中后期的经济、文化状况,你认为,该研究者提出的明朝妇女婚姻自主性出现的原因是什么?

(3)上述材料分别来自官方文献、学者著作和小说,你对该研究者利用这些材料进行研究有何看法?

【参考答案】

(1)材料一和材料二证明明朝妇女婚姻观的保守性;材料三和材料四证明明朝妇女婚姻观的自主性。

(2)明中后期商品经济的发展,使人们的人生观和价值观发生了变化;明中后期出现了反礼教的思想,鼓舞了明朝妇女追求婚姻自主。

(3)考生可从材料本身的可靠性或对材料的使用等方面提出自己的看法。如:①小说是文学作品,作为史料使用,必须慎重。(或:小说是现实的反映,可以作为史料使用。)②材料三、四的现象是个案,而且出现在明中后期,不足以说明整个明朝妇女婚姻观的自主性。

8. 阅读下列材料,回答:

戊戌变法和义和团运动的爱国救亡主张不尽相同。例如:维新变法大力宣传“优胜劣汰”的社会进步理论,说“吾既自居于弱昧,安能禁人之兼攻?吾既自即于乱亡,安能怨人之取侮?”义和团的一份揭贴则说:“神助拳,义和团,只因鬼子闹中原。……升黄表,焚香烟,请来各等众神仙。……挑铁道,把线砍,旋再毁坏大轮船。……一概鬼子都杀尽,大清一统庆升平。”

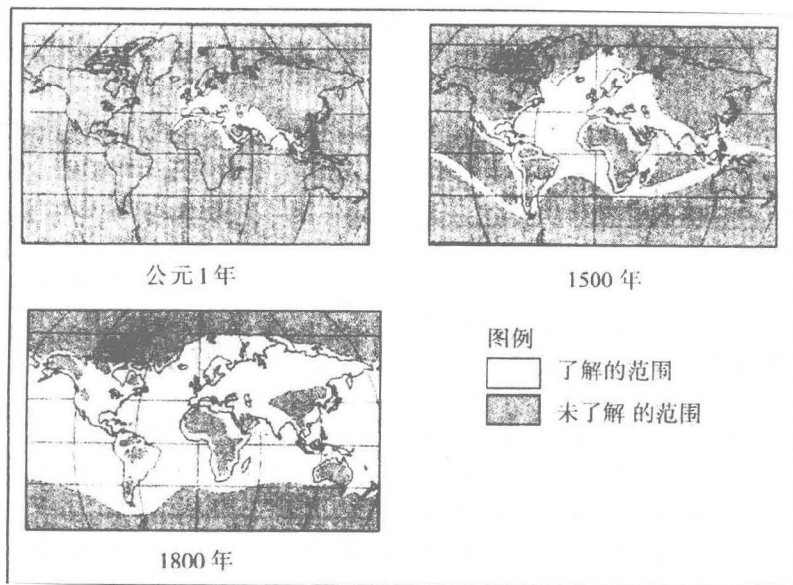
对于当时中国民族危机的原因和挽救民族危亡的途径,维新派和义和团持何种不同观点?两种观点各具有什么积极意义和局限性?

【参考答案】

维新派认为造成中国民族危机的原因主要是在于中国社会制度的落后,以及由此带来国家贫弱。只有通过变法维新,发展资本主义,求得国家富强,才能挽救民族危亡。义和团认为当时的民族危机是由帝国主义侵略造成的,必须通过武力反抗将它们赶出中国。

维新派观点的积极意义在于,它认为只有通过自身的社会改革,中国才能从根本上求富强和独立,但它不主张正面抗击帝国主义的侵略,体现了民族资产阶级的局限性。义和团观点的积极意义在于它主张正面抗击帝国主义的侵略;其局限性在于它不包含进行社会改革内容,还带有蒙昧,迷信和笼统排外的倾向。

9. 阅读以下材料并回答问题。



西方人了解的世界范围示意图

(1)读图,指出西方人了解的世界范围发生了什么变化,世界各民族、各地区之间的关系出现了怎样的发

展趋势。

材料一 1992年是哥伦布航行到美洲500周年,许多国家纷纷举行纪念活动,但也引起美洲印第安人后裔强烈不满。他们打出的一条标语上写着:“你们庆祝的是我们的苦难”。

(2)结合所学知识,全面评价哥伦布航行到美洲的历史影响。

材料二 有人描述20世纪初世界经济联系日益密切的情况时指出,伦敦的居民可以在1911年的某天,一边喝下午茶,一边打电话订购世界上任何产品,想订购多少悉听尊便,并放心地等着这些东西运到自家门口;同时,他也可以把自己的财富投资到地球任何角落的自然资源开发和新的冒险事业中,例如非洲的矿山,或上海的洋行;如果他愿意,他可以利用廉价和舒适的交通工具,立即动身去任何国家,在任何地方都能找到舒适的旅馆;他随身携带的金币可以在世界各个地方兑换成当地货币而通行无阻。

(3)根据材料二,指出20世纪初各国经济联系日益密切表现在哪些方面,从中受益的主要是哪些国家。

材料三 对冷战结束后迅猛发展的经济全球化趋势,有人予以肯定,也有人持否定态度。

(4)根据材料和所学知识,分析经济全球化的两重性,并简要说明发展中国家应该如何面对经济全球化。

【参考答案】

(1)范围不断扩大;摆脱相对孤立,联系不断加强。

(2)哥伦布航行到美洲,第一次把欧亚大陆和美洲联系在一起,对各地区、各民族间的交往作出重要贡献;西方殖民者开始入侵美洲,对美洲实行长期残酷的殖民统治和掠夺。

(3)商品、资本、人员和货币在世界范围的流动;英国等少数资本主义国家。

(4)经济全球化是历史发展的必然趋势,有利于各国经济的互补,加入经济全球化是各国发展经济之路;但在经济全球化中,发达国家居于有利位置,使南北差距拉大;发展中国家应该积极加入,趋利避害。

10.【历史—历史上重大改革回眸】

王安石变法在历史上产生了重大影响,人们对此却评价不一。阅读材料,回答问题。

材料一 今介甫为政……士吏兵农工商僧道无一人得袭故而守常者,纷纷扰扰,莫安其居……

——司马光《家传集》

材料二 司马光:“治天下譬如居室,敝则修之,非大坏则不更造也。”

——《宋史》

材料三 宋大傅荆国王文公安石,适应于时之。其良法美意往往传诸今日莫之能废……

——梁启超《王安石评传》

(1)王安石针对“士、兵、农、商”的改革措施有哪些(每项各举一条)?

(2)结合王安石变法的相关知识,谈谈你对材料二、三中“非大坏则不更造”,和“适应于时代”的理解。

【参考答案】

(1)士:改革科举制度;兵:将兵法、保甲法、保马法;农:青苗法、募役法、农田水利法、方田均税法;商:市易法、均输法。

(2)“非大坏则不更造”指司马光反对王安石变法,维护旧制;“适应于时代”指梁启超肯定王安石变法,主张变革。

11.【历史—近代社会的民主思想与实践】


20世纪初,中国社会发生了深刻变化,旧的习俗被打破,新的观念逐渐形成,社会风气也在悄然改变。阅读材料,回答问题。

今有南清志士某君,北来游学,此君尚未娶妇,意欲访求天下有志女子,聘定为室。其主义如下:一要天足,二要通晓中西学术门径,三聘娶仪节悉照文明通例,尽除中国旧有之陋俗,如有能合以上诸格及自愿出嫁,又有完全自主权者,毋论满汉新旧、贫富贵贱、长幼妍媸均可。

——《大公报》1902年6月26日

(1)上述材料反映了当时新妇女观的哪些内容?

(2)这种新妇女观受到了哪种思想影响?列举近代中国在这种思想影响下发生的思想解放运动和反封建革命。



【参考答案】

(1) 破除缠足陋习; 提倡女子学文化; 摒弃旧式结婚礼俗; 婚姻自主。

(2) 资产阶级民主思想; 维新变法运动、新文化运动、辛亥革命。

19. 根据相关资料完成下列问题。

山东是中华文明的发祥地之一, 在中国文化乃至世界历史中都占重要地位。

(1) 结合史实, 从政治、经济、思想三方面说明山东在中国先秦时期的重要地位。

材料一 登州文会馆是美国传教士狄考文 1876 年创办的一所教会学校, 下表为该校正斋(中单部分) 开设的主要课程:

宗教类	中国经学类	自然科学类	社会科学类及其他
天道渊源、救世之妙、罗马书等	书经、诗经、论语、礼记、孟子、左传、易经等	代数备旨、圆锥曲线、测绘学、格物(声、光、电等)航海法、物理测算、化学、动植物学、微积分学、天文摘要等	读作诗文、万国通鉴、二十一史约编、是非学、富国策等

材料二 试办山东大学堂章程规定: 以四书、五经为体, 以历代史鉴及中外政治、艺学(注: 艺学指算、绘、矿、医、声、光、化、电) 为用。

——安作璋等《齐鲁文化通史》

(2) 分析材料一、二, 指出两所学校在课程设置上的共同之处。这类新式学校的创办对山东近代经济发展有何积极影响?

材料三 改革开放以来, 山东省已成为外商投资的重点地区。2005 年外商直接投资额达 89.7 亿美元, 占全国外商直接投资总额的比重达 14.9%。其中, 制造业是外商直接投资的主要领域。下表为山东省各地市 1992~2005 年累计外商直接投资额占全省同期累计外商直接投资总额的比重。

地区	投资比重(%)	地区	投资比重(%)	地区	投资比重(%)
济南	5.36	潍坊	7.26	临沂	1.68
青岛	37.19	济宁	2.91	德州	2.13
淄博	4.14	泰安	1.16	聊城	0.98
枣庄	1.13	威海	10.91	滨州	1.14
烟台	19.12	莱芜	0.68		

(3) 依据上表概括山东省外商直接投资集中分布的两个地带, 并说明其形成的主要影响因素。

(4) 简要回答这种分布对山东省经济发展的主要影响。

材料四 自 2000 年中央提出加快实施“走出去”战略以来, 山东境外投资进入快速发展的新阶段, 呈现一些新特点。

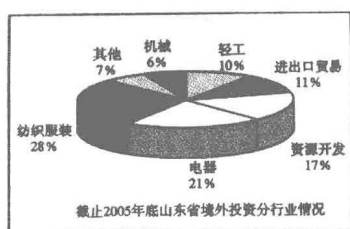


图1

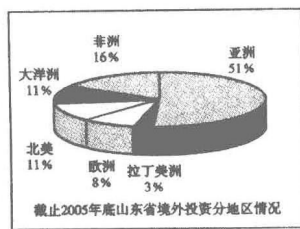


图2

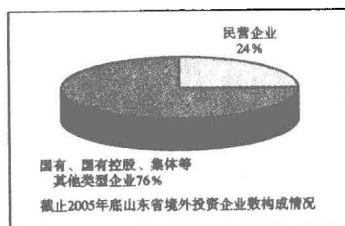


图3

(5) 图 1、图 2 分别表明山东境外投资领域进一步拓宽、投资区域不断扩大。以这样的思路, 你认为图 3

体现的山东境外投资的特点应该如何概括? 请对山东企业如何实现境外投资的新突破提出合理化建议。

材料五 山东省政府按照《对外贸易法》和中央的政策, 出台了《关于加快实施“走出去”战略意见》等规定, 制定和完善了对外开放的具体措施, 简化行政审批程序, 建立完善各级行政许可服务中心, 营造公正透明的行政环境, 优化全方位的服务环境, 为各类企业创造统一开放、公平竞争的市场环境。

(6) 结合上述材料, 简要分析山东省政府在为对外开放服务过程中是如何行使权力的?

【参考答案】

(1) 政治: 山东境内的齐国和鲁国是西周时期的重要封国。经济: 春秋时期, 齐国“相地而衰征”、鲁国“初税亩”, 促进了中国土地私有制的发展。思想: 孔子、孟子的儒家思想(墨子的墨家思想、孙臆的军事思想)影响深远。

(2) 共同之处: 都有中国经学、自然科学和社会科学的内容。作用: 培养了新式人才, 促进了山东近代经济的发展。

(3) 主要集中在东部沿海地带, 胶济铁路沿线地带(或沿济南、淄博、潍坊、青岛一线)。地理位置; 经济基础(产业、工业基础); 基础设施(交通); 政策。

(4) 有利影响: 有利于生产要素向东部沿海和胶济沿线地带集中, 带动山东区域经济的发展, 促进东部沿海和胶济沿线地带产业结构升级(调整)(有利于山东半岛制造业基地的建设)。不利影响: 扩大山东经济发展的区域差异。

(5) ①特点: 境外投资的主体多元化。②建议: 要以国际市场为导向, 制定正确的境外投资经营战略; 依靠科技创新, 提高企业境外投资的竞争力; 加强境外投资主体合作, 避免恶性竞争; 不断优化境外投资结构, 拓展投资领域, 提高投资效益; 遵循和利用世贸规则, 维护企业合法权益。

(6) ①省政府正确行使了组织社会主义经济建设和提供社会公共服务的职能, 为对外开放营造公正透明的行政环境, 优化全方位的服务环境。②省政府坚持对人民负责的原则, 依法行政, 依照法律政策规定, 为各类企业创造统一开放、公平竞争的市场环境。

(二) 2008 年山东省文综卷历史试题及命题特点

一、历史试题

(一) 选择题

唐宋时期, 我国古代政治制度进一步发展, 经济趋于繁荣。回答 8~9 题。

8. 唐朝中央政府具有较高的行政效率, 主要原因在于

- A. 增设机构, 独立施政
- B. 分工明确, 相互协调
- C. 一职多官, 互相牵制
- D. 简化机构, 总揽于上

9. 图 3 为北宋末年东京(今开封)示意图, 其中设置了两处错误, 它们是

- A. ①②
- B. ③④
- C. ①③
- D. ②④

10. 明清时期的山水画和 19 世纪中期的英国风景画, 通常都以自然风景为主要描绘内容。下面表述正确的是

- A. 中西文化交流使两国的绘画风格相互交融
- B. 相似的社会环境使两国绘画主题趋于一致
- C. 明清山水画是商品经济发展在艺术上的反映
- D. 英国风景画的出现是工业革命影响的结果

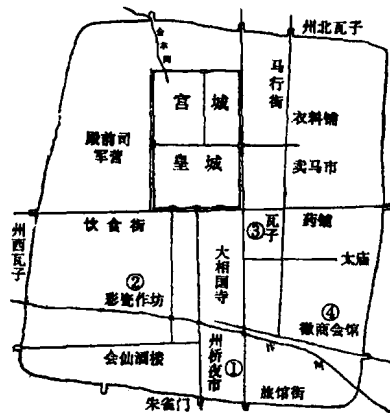


图 3



11. 民主革命时期的标语宣传了党的政策,播撒了革命火种。图4的宣传标语应出现于

- A. 国民革命时期
- B. 土地革命时期
- C. 抗日战争时期
- D. 解放战争时期

12. 文艺复兴时期,人文主义者从古典文化中汲取精神力量,铸成了反对神学桎梏的武器。以下最契合人文主义核心内涵的古希腊名言是

- A. 求知是人类的本性
- B. 心灵美比形体美更珍贵
- C. 人的出类拔萃为城邦增加的荣耀可以超过神
- D. 健康和聪明是人生的两大幸福

13. 某西方大国曾采取以下措施处理经济问题:把40%的国有企业出售给私人,削减住房、医疗、失业等各种社会福利开支,减少税收,提高利率。这是为了

- A. 促进工业革命后经济的发展
- B. 克服20世纪30年代的经济危机
- C. 解决二战后初期的经济困难
- D. 缓解20世纪70年代的经济滞胀

14. 如果撰写一篇关于20世纪70年代国际关系的论文,下列选题正确的是

- A. 论国际关系的多极化趋势
- B. 由亚洲到欧洲——冷战重心的转移
- C. 由紧张到缓和——中苏关系新走向
- D. 论欧盟崛起与美国霸主地位的动摇

24. 地圆说的流行是新航路开辟的重要条件之一。图5是新航路开辟不久一位德国人绘制的世界地图,它反映出

- A. 世界各国的封闭状态被打破
- B. 资本主义世界经济体系形成
- C. 人们对世界尚缺乏全面了解
- D. 中国与西方的贸易日渐频繁




图4




图5

(二)非选择题

[必做部分]

27. (25分)家庭是文明社会的基本细胞。阅读材料,回答问题。

材料一 身修而后家齐,家齐而后国治,国治而后天下平。

——[西汉]《礼记》

材料二 梁启超认为,旧中国在家庭伦理方面发展了高度的个人道德观,但……在公共道德和公民操行方面……是不够的。这样,他否定了儒教中国的狭隘忠诚和以家庭为中心的自私观念,而主张集体的民主和建立一个强大的国家。

——[美]费正清《伟大的中国革命》

材料三 通过把工作转移到家庭之外,工厂也从不同的方向吸引父亲、母亲、孩子远离家庭,从而改变了传统的家庭生活模式。

——[美]杰里·本特利《新全球史》

材料四 这一运动的收获是空前的……这种社会细胞——家庭改革,对于提高人民的政治热情,挖掘潜力建设我们的祖国,是会起着重大推动作用。

——《华北区贯彻婚姻法运动总结》(1953年)

(1)中国古代强调“家齐而后国治”,这种观念的经济和思想基础是什么?(4分)

(2)据材料二,说明当时中国社会的家庭伦理观有什么变化。(2分)结合时代背景分析变化的原因。(6分)

(3)据材料三、四,说明推动家庭变革的基本因素有哪些。(4分)结合所学知识,分析材料四中改革后中国家庭伦理关系有什么新变化。(4分)

(4)“父母在,不远游”的观念曾对中国传统家庭生活产生过重要影响。在现代社会中,你如何看待这一观念?(5分)

【答案】(1)家庭为单位的小农经济(或自然经济);儒家的伦理道德(或儒家思想)

(如果回答儒家伦理道德具体内容——忠孝及两者关系的可酌情给分,回答中国传统思想或宗法制度的不给分。)

(2)变化:在注重个人道德观的同时,更注重公共道德和公民操行的培养。

原因:民族资本主义的发展;西方东渐,民主思想的传播;民族危机的加深。

(3)社会经济的发展(或社会化大生产);(分) 国家的政治变革(或政府政策推动)。

(如果笼统回答政治因素、经济因素,最多给 分)

婚姻自主,男女平等,家庭民主。

(4)这一传统观点有其积极意义,应重视传统观念的现实价值;不应固守传统,这一观念在当今的淡化是一种社会进步。

29.(35分)从1840年被迫打开国门,到十一届三中全会后实行改革开放,中国的现代化经历了漫长而艰辛的历程,中国社会发生了天翻地覆的变化。阅读材料,回答问题。

材料一 (1893年有人写信给张之洞说)方今机器之利,粤人知其益者,十之八九;两江闽浙,十之二三;河洛以北,万不得一。名卿巨公,以为是者半,以为非者亦半。

——《汉冶萍公司》

材料二 在通商以后的上海,随着大量新事物的涌入,出现了一些新词语,如洋行、洋布、洋油、洋铁、洋火、洋车等。它们日益流行,成为人们生活中的常用语。

——据李长莉《晚清上海的新知识空间》

(1)材料一反映了中国近代工业发展中的哪些现象?(4分)“机器之利”显而易见,为什么“名卿巨公”还“以为非者亦半”?(3分)

(2)材料二中大量带“洋”字的词语,后来在百姓日常用语中逐渐消失,其原因是什么?(4分)

【答案】(1)现象:近代工业地区发展不平衡(或南北发展不平衡,或南方先进于北方);人们对近代工业的认识不一(答出具体认识的酌情给分)。

原因:思想守旧,对西方近代文明存在抵触;担心近代工业发展会威胁专制统治。

(2)政治上:新民主主义革命胜利,(分)中国取得了民族独立,摆脱了帝国主义的奴役;经济上:新中国成立后,特别是改革开放后,中国经济迅速发展。

材料三 经济的发展推动了我国城市化进程。图8表示的是改革开放以来全国及国内三大经济地带城市化水平的变化情况,图9是我国1980年和2004年城市等级规模金字塔示意图。

(3)读图8、9,分析改革开放以来我国城市化进程的主要特点。(8分)

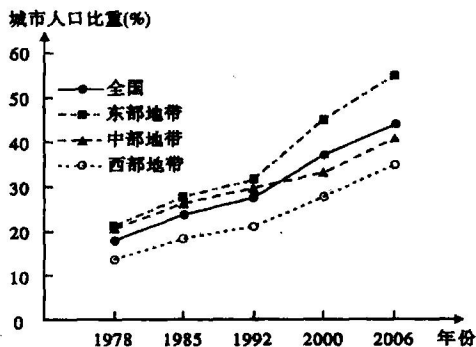


图8

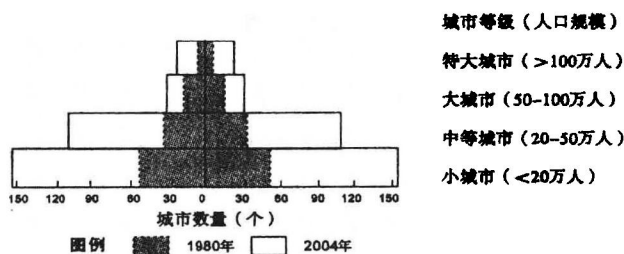



图9



【答案】(3)城市化水平不断上升,近年来上升速度加快;东、中、西三大地带区域差异明显;城市数量增多,其中中小城市数量增加速度较快;从城市构成上看,仍以中小城市为主。

(4)在西部地带城市化进程中,有人提出了应优先发展大城市的观点,你认为是否合理,请说明理由。(3分)

【答案】(4)答案一:合理。理由:大城市的服务范围广,功能强;对区域经济社会发展的辐射和带动作用强。

答案二:不合理。理由:西部地区自然条件较为恶劣,生态环境脆弱;人口分布散,交通不便,经济发展水平较低。

材料四 改革开放使中国人民走上了富裕安康的广阔道路。图10是某市民在不同年份春节家庭消费的主要支出项目。




图10

(5)春节消费体现了不同年代生活消费的主要特征。根据图10,概括改革开放以来该市民在家庭消费方面发生的主要变化,(2分)并从经济制度和经济体制角度分析变化的原因。(4分)

材料五 历经30年的改革开放,当代中国同世界的关系发生了历史性变化。中国发展离不开世界,世界繁荣稳定也离不开中国。发展中国特色社会主义,必须大胆吸收、借鉴人类创造的一切文明成果,并同各国人民携手,共同分享发展机遇,共同应对各种挑战。

(6)结合材料五,运用唯物辩证法知识,说明正确处理中国同世界的关系必须遵循的方法论原则。(7分)

【答案】(5)变化:生存资料消费逐渐降低,发展资料和享受资料消费逐渐增加,消费结构改善,消费水平提高。

若答出“改革开放以来,居民消费支出不断增加,生活水平不断提高”可酌情给分。

原因:①以公有制为主体、多种所有制经济共同发展的基本经济制度和以按劳分配为主体、多种分配方式并存的分配制度,与社会主义初级阶段的生产力发展要求相适应,促进了生产力发展,从而为人们生活水平的提高奠定了基础。②社会主义市场经济体制的建立与完善,既发挥了市场经济的长处,为提高人们生活水平创造了条件,又发挥了社会主义制度的优越性,为实现共同富裕的根本目标提供了保障。

(6)①必须遵循联系的方法论原则,中国的前途命运同世界的前途命运紧密相联,改革开放是决定当代中国命运的关键抉择。②必须遵循发展的方法论原则,既要把握中国和世界前进的总趋势,又要正视发展道路上的困难和挑战。③必须遵循矛盾分析的方法论原则,统筹中国的发展与世界的发展的对立统一关系,在参与国际竞争中实现互利共赢。④必须遵循辩证否定的方法论原则,以辩证法的革命批判精神,大胆吸取、借鉴人类一切文明成果。

33.(10分)【历史—历史上重大改革回眸】

阅读材料,回答问题。

公元前6世纪初,雅典城郊有个叫克里埃尼图斯的青年。他出身平民,家庭贫困,不具备担任官职的财产资格。后来,克里埃尼图斯开办手工作坊,生产葡萄酒并销往市场。5年后,他的年总收入达到了280麦斗,跻身于第三等级。

(1)按梭伦立法,跻身第三等级的克里埃尼图斯能享受什么政治权利?(2分)如果生活在秦国,依据商鞅之法,他可以通过哪些途径提高自己的社会政治地位?(4分)

(2)梭伦改革和商鞅变法都在不同程度上剥夺了贵族特权,在此过程中,两者采取的策略有何不同?(4分)

【答案】(1)担任低级官职(或除执政官外的各级职官的选举和任职资格)。

立军功;努力耕织。

(2)梭伦:崇尚中庸(调和),手段温和。

商鞅:不畏权贵,严刑峻法。

34.(10分)【历史—近代社会的民主思想与实践】

阅读材料,回答问题。

1912年“清室优待条件”节选	1924年“修正清室优待条件”节选
皇帝尊号仍存不废,以待各外国君主之礼相待; 皇帝岁用400万两,由中华民国拨用; 皇帝暂居宫禁,日后移居颐和园,侍卫人等照常留用; 皇帝辞位后,原有私产由中华民国特别保护; 原禁卫军归中华民国陆军编制,额数俸饷特别保护。	即日起永远废除皇帝,与国民在法律上同等; 每年补助清室家用50万元,另特支200万元,开办平民工厂,收容旗籍贫民; 即日移出宫禁,以后得自由选择居住; 清室私产归清室完全享有,其一切公产应归政府。

(1)南京临时政府内部对是否接受“清室优待条件”有不同意见。请谈谈你的看法并说明理由。(4分)

(2)概括说明“修正清室优待条件”比“清室优待条件”有哪些进步。(6分)

【答案】(1)(本题可从“接受”和“不接受”两者中任选一观点作答,但只表明态度不给分,必须说明理由)

答案一:应该接受。应从南京临时政府面临的严峻形势、“清室优待条件”的进步作用两个方面加以分析。(4分)(如回答其他方面,言之有理即可酌情给分)

答案二:不应接受。应从南京临时政府的革命性、“清室优待条件”反封建的不彻底性两个方面加以分析。(4分)(如回答其他方面,言之有理即可酌情给分)

(2)彻底废除了帝号;进一步削弱了清室特权;体现了民主平等的观念。

如果照抄材料或回答“减少清室费用”、“居住地发生变化”等可酌情给分。

35.(10分)【历史—20世纪的战争与和平】

阅读材料,回答问题。

国际联盟和联合国分别是在两次世界大战后建立的国际组织,但国际联盟就普遍性、广泛性来说,远不能与联合国相比。

(1)大国际组织的建立反映了世界人民的什么共同追求?(1分)两大国际组织建立的基础有何不同?(4分)

(2)从成员国构成的角度,说明联合国为何更具“普遍性、广泛性”。(5分)

【答案】(1)和平与安全;国际联盟建立在帝国主义战争的基础上,联合国建立在世界人民反法西斯战争胜利的基础上。(4分)

(2)联合国成员国多;(1分)世界主要大国都参加了联合国;(2分)国际联盟主要被少数西方大国所控制,在联合国中广大发展中国家成为一支越来越重要的力量。

二、试题及特点分析

1. 题型、题量及分值

今年山东卷的题型仍为选择题、非选择题两大类,没有新突破。其中,选择题仍以情境创设类题目为主。非选择题基本上是主题式材料解析问答题。

文综卷总分为240分,历史试题总分占78分;I卷选择题为8小题,32分。II卷3题,46分。具体情