





义务教育教科书

数学

一年级 下册



$$47 + 25$$

$$82 - 18$$

$$56 - 28$$

$$63 + 27$$

$$68 + 16$$

$$57 - 35$$


河北教育出版社

634.6

义 务 教 育 教 科

数 学

一 年 级 下 册



河北教育出版社

图书在版编目(CIP)数据

数学.一年级.下册/赵杏梅主编. —石家庄: 河北教育出版社, 2013. 1(2015. 11重印)
义务教育教科书

ISBN 978-7-5434-9554-8

I. ①数… II. ①赵… III. ①小学数学课—教材 IV. ①G624. 501

中国版本图书馆CIP数据核字(2012)第168438号

-
- 主 编 赵杏梅
副 主 编 邓明立 崔海江
编 者 赵杏梅 朱齐忠 刘连启 杨亚伶 刘再平 张增福 崔海江
-
- 书 名 义务教育教科书
数学 一年级 下册
责任编辑 李彦所 王东芳
责任印制 王淑英
装帧设计 呼玉迈
内文插图 欧凯设计工作室 镇石工作室
-
- 出 版 河北教育出版社
(石家庄市联盟路705号 <http://www.hbep.com>)
发 行 河北省新华书店
制 版 保定市佳美制版中心
印 刷 河北新华联合印刷有限公司
开 本 787X1092 1/16
印 张 7
字 数 66千字
版 次 2013年1月第1版
印 次 2015年11月第4次印刷
印 数 1210 001-1610 000
书 号 ISBN 978-7-5434-9554-8
定 价 6.75元
-

版权所有·请勿擅用本书制作各类出版物·违者必究

如有印刷质量问题,请与本社出版部联系调换,电话:18603114066

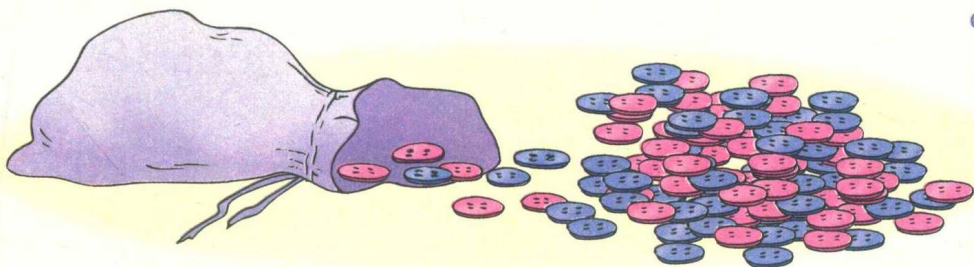
购书电话:0311-88643600

78804950

亲爱的小同学：

快乐的寒假结束了，想知道这学期要学习哪些数学知识吗？让书中的朋友告诉你吧！

数到 99，再数 1 个是哪个数？



要学会 100 以内的加法和减法。






用积木可以描出图形。



学习数学很好玩吧！愿你能和数学成为好朋友。



目 录

- 一 位置..... 1
- 二 认识钟表..... 7
-  生活中的钟表..... 13
- 三 100 以内数的认识..... 14
-  数字开花..... 29
- 四 认识人民币..... 30
-  商品价格调查..... 34
- 五 100 以内的加法和减法(一)..... 36
- 六 认识图形(二)..... 66
- 七 100 以内的加法和减法(二)..... 74
- 八 探索乐园..... 92
- 整理与评价..... 97



一 位 置

左 右

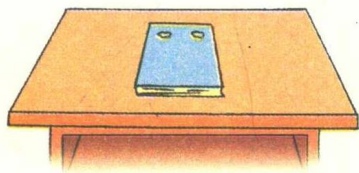


观察教室,用“左”或“右”说一句话。


快乐学习  健康成长



把数学课本放在自己前面。



把练习本放在课本右边,把铅笔盒放在课本左边。



指出自己身上的“左”和“右”。

这是我的右脚。

这是我的左耳。





练一练

1. 照样子说一说。

你右手拿的是书。




你右手拿的是铅笔。



2.



(1) 从左数第几位是  ? 从右数第几位是  ?


(2)  的左边有几人?

你还能说出哪些?



身边的数学


都要靠右行。





看图讲故事。

龟兔赛跑啦!



从故事中你懂得了什么道理?



看图说话。



前门上,后门下。



警察叔叔坐在最后面。

司机叔叔坐在最前面。



阿姨坐在老爷爷的前面。






练一练

1.




- (1) 排在最前面的是谁,最后面的是谁?
- (2) 红红的前面有几个小朋友,后面有几个小朋友?

2. 说一说各组运动员的位置。



身边的数学



我的前面有 2 人,
右面有 3 人。

说说你在教室
里的位置。



看图讲故事。

好动听的歌。




看图说话。

书在玩具的上面。



柜中物品是怎样摆放的?



玩具在书的下面。



食品也在书的下面。




练一练

1. 说出地球仪的位置。



2. 说出各种水果的位置。



3. 给小动物分房间。

把你的想法告诉大家。



二 认识钟表



你还记得春节联欢晚会开始的时间吗？




春节联欢晚会晚上8点开始。

8点也叫做8时。



时针指向8,分针指向12,是8时。

谁在和谁通电话?



练一练


1. 看图说话。



2. 连线。



3. 画时针。



8:00



2:00

3时

10时



快3点了可以说大约3时。



看图说话。




7时刚过，玲玲上学去。

7时刚过，也可以说大约7时。



 练一练

1. 说一说大约是几时。



2.

连一连。



大约 1 时

4 时



3 时

11 时刚过



快 2 时了

大约 5 时




快 6 时了

8 时刚过



3. 看图说话。





你知道每天晚上《新闻联播》结束的时间吗？




7点半《新闻联播》结束。



7点半也叫做7时30分。



聪聪的星期天。

说一说聪聪什么时间在做什么。




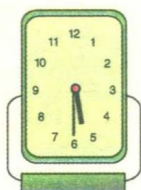



说一说 放风筝的时间和睡觉的时间有什么不同?



练一练

1. 连一连。






9时30分

5时30分

11时30分

2时30分

2. 画时针。



8:30

3:30

10:30

3. 在家人的帮助下,制订每天睡觉、起床的时间。